



Usar las rectas numéricas para redondear cada número al 100 más cercano.

Ej) 841



1) 383



2) 161



3) 730



4) 361



5) 9,596



6) 8,844



7) 9,476



8) 9,207



9) 20,969



10) 32,961



Respuestas

Ej. 800

1. _____

2. _____

3. _____

4. _____

5. _____

6. _____

7. _____

8. _____

9. _____

10. _____



Usar las rectas numéricas para redondear cada número al 100 más cercano.

Ej) 841



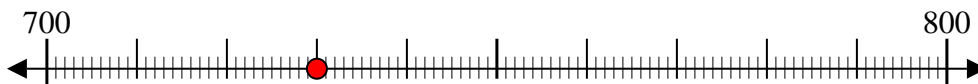
1) 383



2) 161



3) 730



4) 361



5) 9,596



6) 8,844



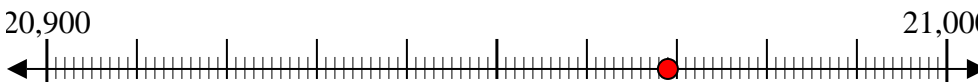
7) 9,476



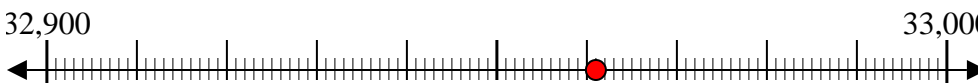
8) 9,207



9) 20,969



10) 32,961



Respuestas

Ej. 800

1. 400

2. 200

3. 700

4. 400

5. 9,600

6. 8,800

7. 9,500

8. 9,200

9. 21,000

10. 33,000