



Usar las rectas numéricas para redondear cada número al 100 más cercano.

Ej) 366



Respuestas

Ej. 400

1) 128



1. _____

2) 456



2. _____

3) 696



3. _____

4) 497



4. _____

5) 6,849



5. _____

6) 6,203



6. _____

7) 8,909



7. _____

8) 1,433



8. _____

9) 25,847



9. _____

10) 72,644



10. _____



Usar las rectas numéricas para redondear cada número al 100 más cercano.

Ej) 366



1) 128



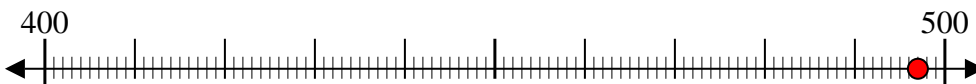
2) 456



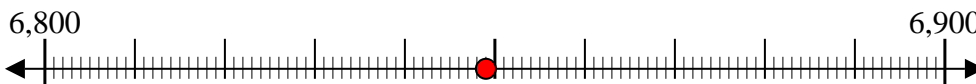
3) 696



4) 497



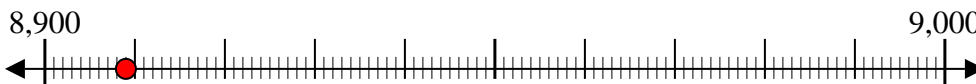
5) 6,849



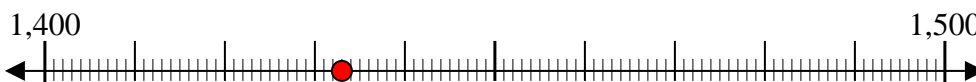
6) 6,203



7) 8,909



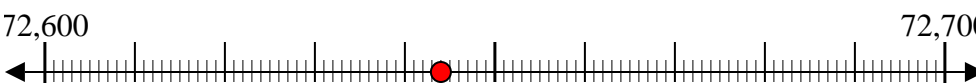
8) 1,433



9) 25,847



10) 72,644



Respuestas

Ej. 400

1. 100

2. 500

3. 700

4. 500

5. 6,800

6. 6,200

7. 8,900

8. 1,400

9. 25,800

10. 72,600



Usar las rectas numéricas para redondear cada número al 100 más cercano.

Ej) 113



1) 551



2) 934



3) 549



4) 629



5) 5,424



6) 7,559



7) 7,598



8) 1,287



9) 99,659



10) 63,179



Respuestas

Ej. 100

1. _____

2. _____

3. _____

4. _____

5. _____

6. _____

7. _____

8. _____

9. _____

10. _____

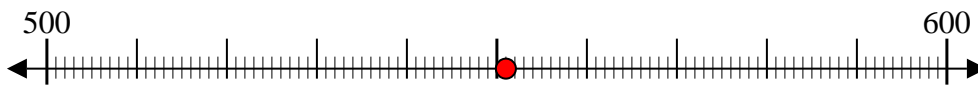


Usar las rectas numéricas para redondear cada número al 100 más cercano.

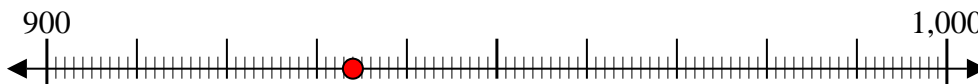
Ej) 113



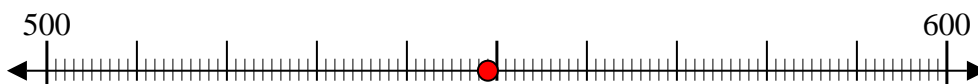
1) 551



2) 934



3) 549



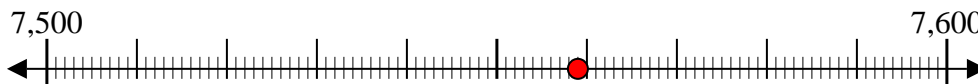
4) 629



5) 5,424



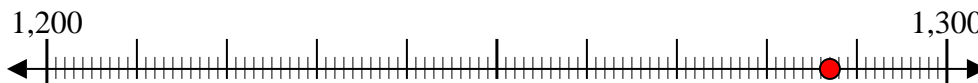
6) 7,559



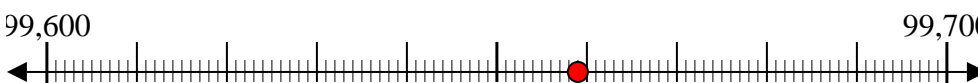
7) 7,598



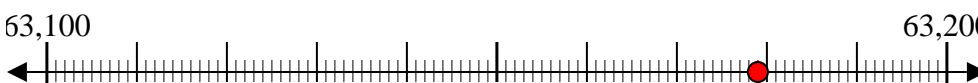
8) 1,287



9) 99,659



10) 63,179



Respuestas

Ej. 100

1. 600

2. 900

3. 500

4. 600

5. 5,400

6. 7,600

7. 7,600

8. 1,300

9. 99,700

10. 63,200



Usar las rectas numéricas para redondear cada número al 100 más cercano.

Ej) 491



Respuestas

Ej. 500

1) 637



1. _____

2) 803



2. _____

3) 694



3. _____

4) 343



4. _____

5) 4,855



5. _____

6) 6,643



6. _____

7) 8,480



7. _____

8) 4,142



8. _____

9) 62,509



9. _____

10) 80,213



10. _____



Usar las rectas numéricas para redondear cada número al 100 más cercano.

Ej) 491



1) 637



2) 803



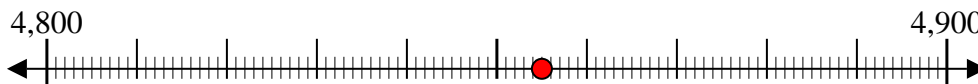
3) 694



4) 343



5) 4,855



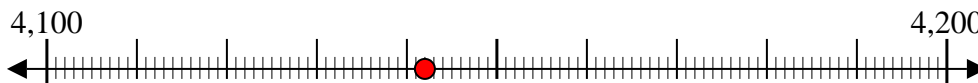
6) 6,643



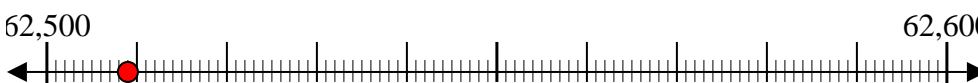
7) 8,480



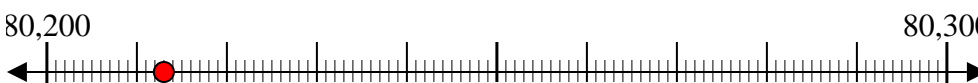
8) 4,142



9) 62,509



10) 80,213



Respuestas

Ej. 500

1. 600

2. 800

3. 700

4. 300

5. 4,900

6. 6,600

7. 8,500

8. 4,100

9. 62,500

10. 80,200



Usar las rectas numéricas para redondear cada número al 100 más cercano.

Ej) 392



Respuestas

Ej. 400

1) 276



1. _____

2) 782



2. _____

3) 486



3. _____

4) 614



4. _____

5) 1,663



5. _____

6) 7,006



6. _____

7) 6,386



7. _____

8) 7,361



8. _____

9) 25,842



9. _____

10) 35,504



10. _____



Usar las rectas numéricas para redondear cada número al 100 más cercano.

Ej) 392



1) 276



2) 782



3) 486



4) 614



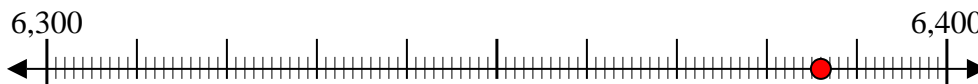
5) 1,663



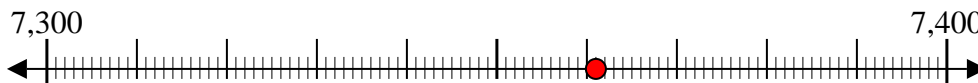
6) 7,006



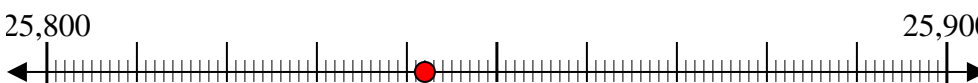
7) 6,386



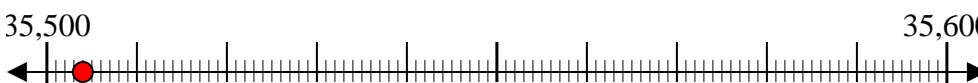
8) 7,361



9) 25,842



10) 35,504



Respuestas

Ej. 400

1. 300

2. 800

3. 500

4. 600

5. 1,700

6. 7,000

7. 6,400

8. 7,400

9. 25,800

10. 35,500



Usar las rectas numéricas para redondear cada número al 100 más cercano.

Ej) 368



Respuestas

Ej. 400

1) 231



1. _____

2) 326



2. _____

3) 829



3. _____

4) 925



4. _____

5) 2,211



5. _____

6) 1,793



6. _____

7) 1,493



7. _____

8) 2,402



8. _____

9) 19,541



9. _____

10) 96,748



10. _____



Usar las rectas numéricas para redondear cada número al 100 más cercano.

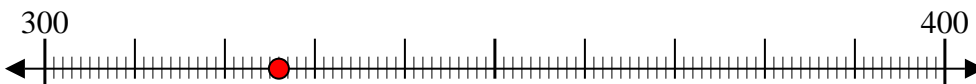
Ej) 368



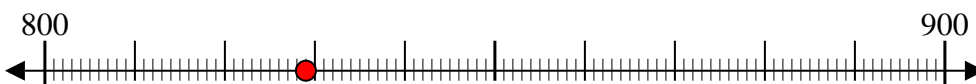
1) 231



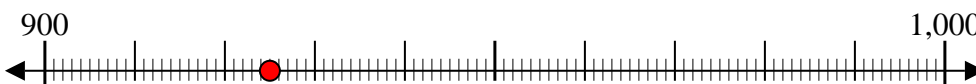
2) 326



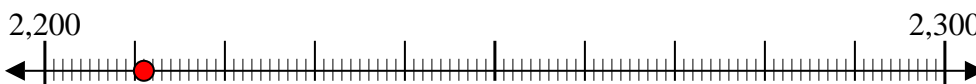
3) 829



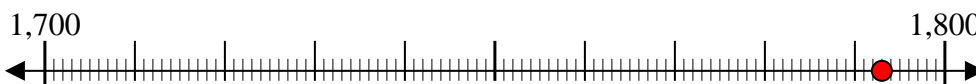
4) 925



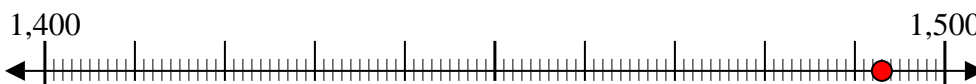
5) 2,211



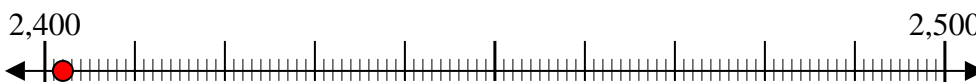
6) 1,793



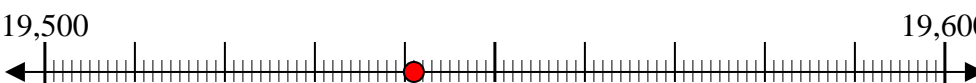
7) 1,493



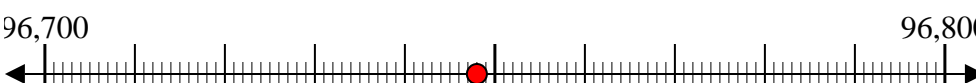
8) 2,402



9) 19,541



10) 96,748



Respuestas

Ej. 400

1. 200

2. 300

3. 800

4. 900

5. 2,200

6. 1,800

7. 1,500

8. 2,400

9. 19,500

10. 96,700



Usar las rectas numéricas para redondear cada número al 100 más cercano.

Ej) 156



Respuestas

Ej. 200

1) 561



1. _____

2) 550



2. _____

3) 800



3. _____

4) 393



4. _____

5) 6,955



5. _____

6) 2,991



6. _____

7) 1,571



7. _____

8) 4,066



8. _____

9) 14,427



9. _____

10) 80,076



10. _____



Usar las rectas numéricas para redondear cada número al 100 más cercano.

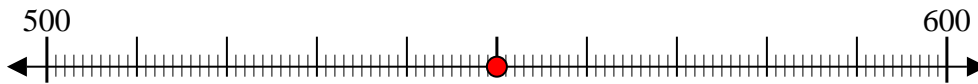
Ej) 156



1) 561



2) 550



3) 800



4) 393



5) 6,955



6) 2,991



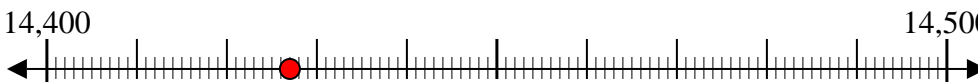
7) 1,571



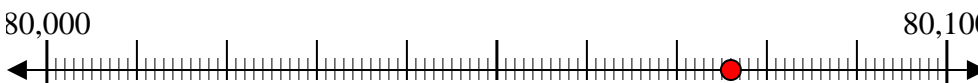
8) 4,066



9) 14,427



10) 80,076



Respuestas

Ej. 200

1. 600

2. 600

3. 800

4. 400

5. 7,000

6. 3,000

7. 1,600

8. 4,100

9. 14,400

10. 80,100



Usar las rectas numéricas para redondear cada número al 100 más cercano.

Ej) 700



Respuestas

Ej. 700

1) 849



1. _____

2) 852



2. _____

3) 570



3. _____

4) 696



4. _____

5) 3,697



5. _____

6) 7,682



6. _____

7) 6,232



7. _____

8) 7,747



8. _____

9) 34,757



9. _____

10) 12,559



10. _____

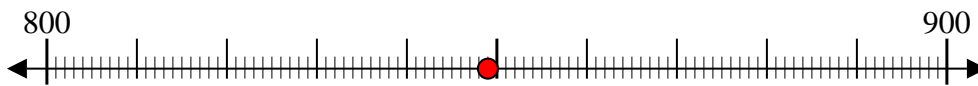


Usar las rectas numéricas para redondear cada número al 100 más cercano.

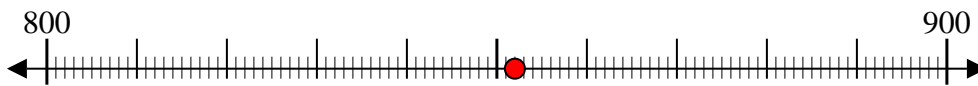
Ej) 700



1) 849



2) 852



3) 570



4) 696



5) 3,697



6) 7,682



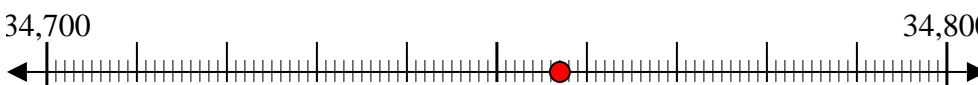
7) 6,232



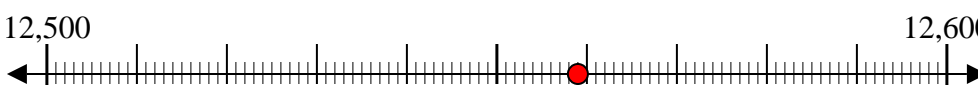
8) 7,747



9) 34,757



10) 12,559



Respuestas

Ej. 700

1. 800

2. 900

3. 600

4. 700

5. 3,700

6. 7,700

7. 6,200

8. 7,700

9. 34,800

10. 12,600



Usar las rectas numéricas para redondear cada número al 100 más cercano.

Ej) 782



1) 423



2) 942



3) 733



4) 895



5) 5,831



6) 9,294



7) 9,183



8) 9,684



9) 90,727



10) 64,706



Respuestas

Ej. 800

1. _____

2. _____

3. _____

4. _____

5. _____

6. _____

7. _____

8. _____

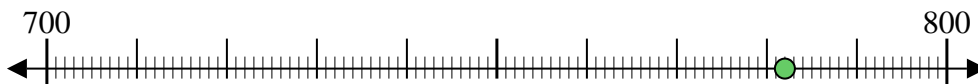
9. _____

10. _____



Usar las rectas numéricas para redondear cada número al 100 más cercano.

Ej) 782



1) 423



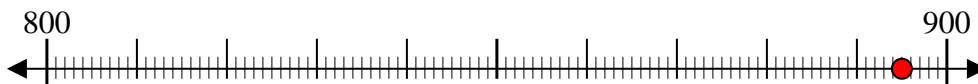
2) 942



3) 733



4) 895



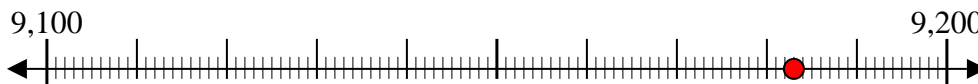
5) 5,831



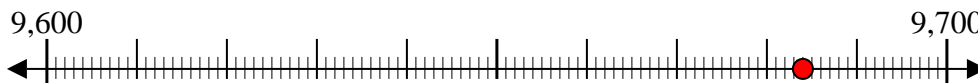
6) 9,294



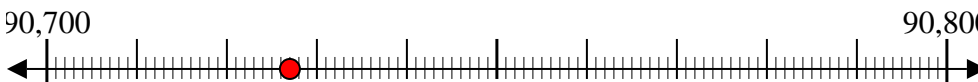
7) 9,183



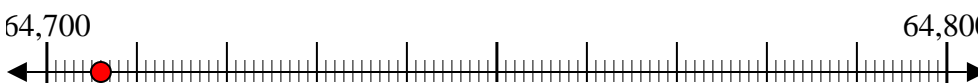
8) 9,684



9) 90,727



10) 64,706



Respuestas

Ej. 800

1. 400

2. 900

3. 700

4. 900

5. 5,800

6. 9,300

7. 9,200

8. 9,700

9. 90,700

10. 64,700



Usar las rectas numéricas para redondear cada número al 100 más cercano.

Ej) 841



1) 383



2) 161



3) 730



4) 361



5) 9,596



6) 8,844



7) 9,476



8) 9,207



9) 20,969



10) 32,961



Respuestas

Ej. 800

1. _____

2. _____

3. _____

4. _____

5. _____

6. _____

7. _____

8. _____

9. _____

10. _____



Usar las rectas numéricas para redondear cada número al 100 más cercano.

Ej) 841



1) 383



2) 161



3) 730



4) 361



5) 9,596



6) 8,844



7) 9,476



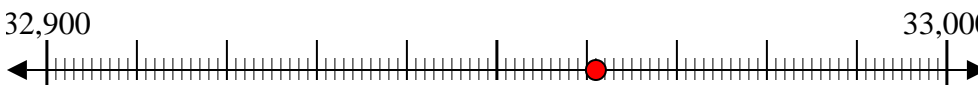
8) 9,207



9) 20,969



10) 32,961



Respuestas

Ej. 800

1. 400

2. 200

3. 700

4. 400

5. 9,600

6. 8,800

7. 9,500

8. 9,200

9. 21,000

10. 33,000



Usar las rectas numéricas para redondear cada número al 100 más cercano.

Ej) 500



Respuestas

Ej. 500

1) 227



1. _____

2) 411



2. _____

3) 875



3. _____

4) 798



4. _____

5) 5,323



5. _____

6) 8,196



6. _____

7) 4,755



7. _____

8) 1,994



8. _____

9) 55,054



9. _____

10) 82,207



10. _____



Usar las rectas numéricas para redondear cada número al 100 más cercano.

Ej) 500



1) 227



2) 411



3) 875



4) 798



5) 5,323



6) 8,196



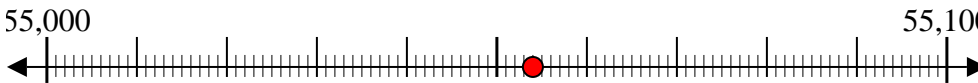
7) 4,755



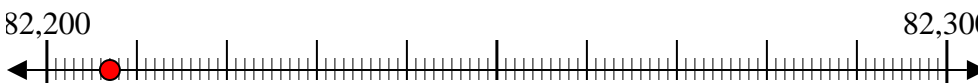
8) 1,994



9) 55,054



10) 82,207



Respuestas

Ej. 500

1. 200

2. 400

3. 900

4. 800

5. 5,300

6. 8,200

7. 4,800

8. 2,000

9. 55,100

10. 82,200

