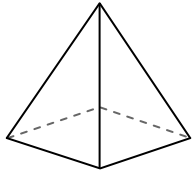




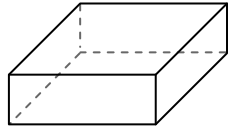
Usar el diagrama para determinar las caras, vértices y bordes de las formas.

**Respuestas**



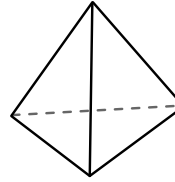
pirámide rectangular

- 1) caras: \_\_\_\_\_
- 2) vértices: \_\_\_\_\_
- 3) bordes: \_\_\_\_\_



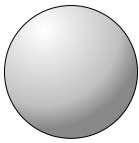
prisma rectangular

- 4) caras: \_\_\_\_\_
- 5) vértices: \_\_\_\_\_
- 6) bordes: \_\_\_\_\_

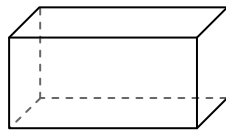


pirámide triangular

- 7) caras: \_\_\_\_\_
- 8) vértices: \_\_\_\_\_
- 9) bordes: \_\_\_\_\_



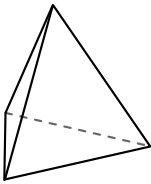
esfera



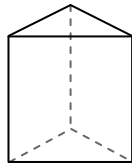
prisma rectangular

10) ¿Qué forma tiene más caras?

- A. esfera
- B. prisma rectangular
- C. Ambos tienen el mismo número de caras.



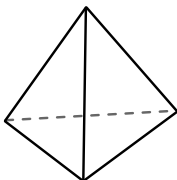
pirámide triangular



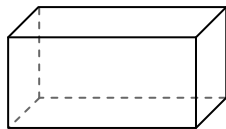
prisma triangular

11) ¿Qué forma tiene más vértices?

- A. pirámide triangular
- B. prisma triangular
- C. Ambos tienen el mismo número de vértices.



pirámide triangular



prisma rectangular

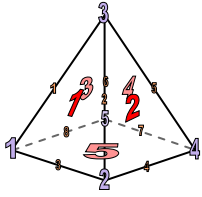
12) ¿Qué forma tiene más bordes?

- A. pirámide triangular
- B. prisma rectangular
- C. Ambos tienen el mismo número de bordes.

- 1. \_\_\_\_\_
- 2. \_\_\_\_\_
- 3. \_\_\_\_\_
- 4. \_\_\_\_\_
- 5. \_\_\_\_\_
- 6. \_\_\_\_\_
- 7. \_\_\_\_\_
- 8. \_\_\_\_\_
- 9. \_\_\_\_\_
- 10. \_\_\_\_\_
- 11. \_\_\_\_\_
- 12. \_\_\_\_\_

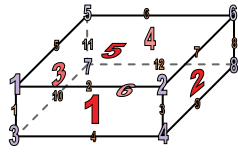


Usar el diagrama para determinar las caras, vértices y bordes de las formas.



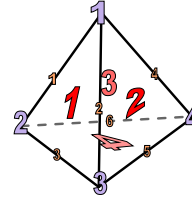
pirámide rectangular

- 1) caras: 5
- 2) vértices: 5
- 3) bordes: 8



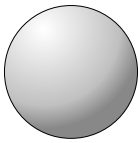
prisma rectangular

- 4) caras: 6
- 5) vértices: 8
- 6) bordes: 12

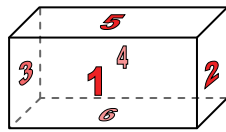


pirámide triangular

- 7) caras: 4
- 8) vértices: 4
- 9) bordes: 6



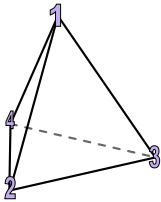
esfera



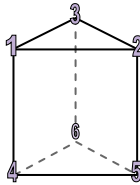
prisma rectangular

10) ¿Qué forma tiene más caras?

- A. esfera
- B. prisma rectangular
- C. Ambos tienen el mismo número de caras.



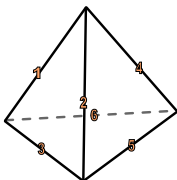
pirámide triangular



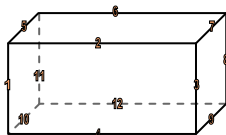
prisma triangular

11) ¿Qué forma tiene más vértices?

- A. pirámide triangular
- B. prisma triangular
- C. Ambos tienen el mismo número de vértices.



pirámide triangular



prisma rectangular

12) ¿Qué forma tiene más bordes?

- A. pirámide triangular
- B. prisma rectangular
- C. Ambos tienen el mismo número de bordes.

**Respuestas**

- 1. 5
- 2. 5
- 3. 8
- 4. 6
- 5. 8
- 6. 12
- 7. 4
- 8. 4
- 9. 6
- 10. B
- 11. B
- 12. B