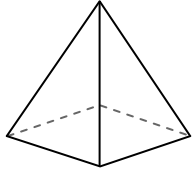




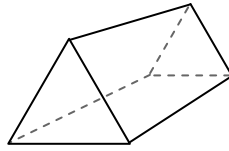
Usar el diagrama para determinar las caras, vértices y bordes de las formas.

Respuestas



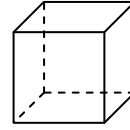
pirámide rectangular

- 1) caras: _____
- 2) vértices: _____
- 3) bordes: _____



prisma triangular

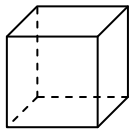
- 4) caras: _____
- 5) vértices: _____
- 6) bordes: _____



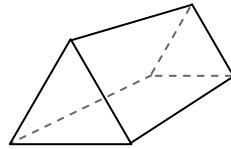
cube

- 7) caras: _____
- 8) vértices: _____
- 9) bordes: _____

- 1. _____
- 2. _____
- 3. _____
- 4. _____
- 5. _____
- 6. _____
- 7. _____
- 8. _____
- 9. _____
- 10. _____
- 11. _____
- 12. _____

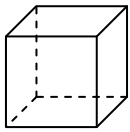


cube

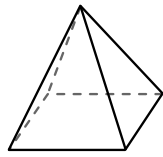


prisma triangular

- 10) ¿Qué forma tiene más caras?
- A. cube
 - B. prisma triangular
 - C. Ambos tienen el mismo número de caras.

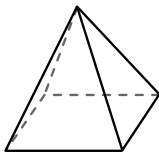


cube

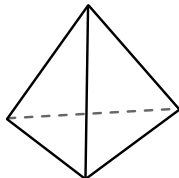


pirámide rectangular

- 11) ¿Qué forma tiene más vértices?
- A. cube
 - B. pirámide rectangular
 - C. Ambos tienen el mismo número de vértices.



pirámide rectangular

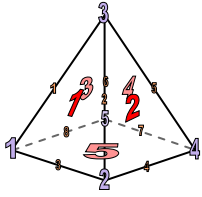


pirámide triangular

- 12) ¿Qué forma tiene más bordes?
- A. pirámide rectangular
 - B. pirámide triangular
 - C. Ambos tienen el mismo número de bordes.

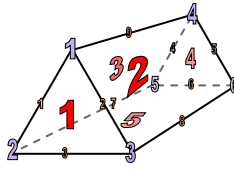


Usar el diagrama para determinar las caras, vértices y bordes de las formas.



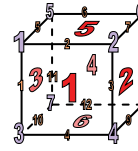
pirámide rectangular

- 1) caras: 5
- 2) vértices: 5
- 3) bordes: 8




prisma triangular

- 4) caras: 5
- 5) vértices: 6
- 6) bordes: 9

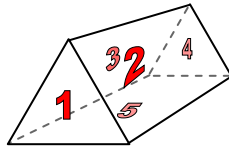


cube

- 7) caras: 6
- 8) vértices: 8
- 9) bordes: 12



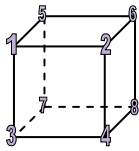
cube



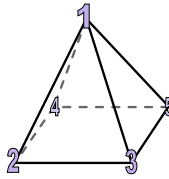
prisma triangular

10) ¿Qué forma tiene más caras?

- A. cube
- B. prisma triangular
- C. Ambos tienen el mismo número de caras.



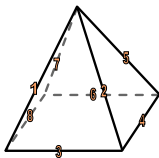
cube



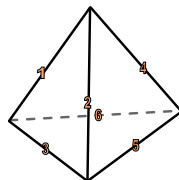
pirámide rectangular

11) ¿Qué forma tiene más vértices?

- A. cube
- B. pirámide rectangular
- C. Ambos tienen el mismo número de vértices.



pirámide rectangular



pirámide triangular

12) ¿Qué forma tiene más bordes?

- A. pirámide rectangular
- B. pirámide triangular
- C. Ambos tienen el mismo número de bordes.

Respuestas

- 1. 5
- 2. 5
- 3. 8
- 4. 5
- 5. 6
- 6. 9
- 7. 6
- 8. 8
- 9. 12
- 10. A
- 11. A
- 12. A