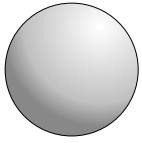


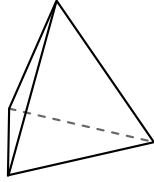


Usar el diagrama para determinar las caras, vértices y bordes de las formas.

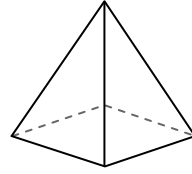
Respuestas



esfera



pirámide triangular

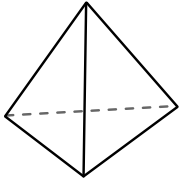


pirámide rectangular

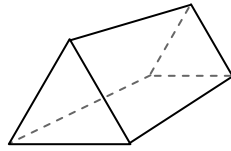
- 1) caras: _____
- 2) vértices: _____
- 3) bordes: _____

- 4) caras: _____
- 5) vértices: _____
- 6) bordes: _____

- 7) caras: _____
- 8) vértices: _____
- 9) bordes: _____

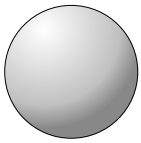


pirámide triangular

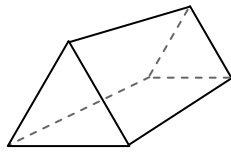


prisma triangular

- 10) ¿Qué forma tiene más caras?
- A. pirámide triangular
 - B. prisma triangular
 - C. Ambos tienen el mismo número de caras.

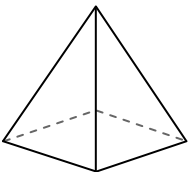


esfera

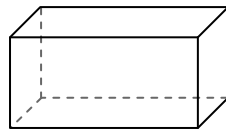


prisma triangular

- 11) ¿Qué forma tiene más vértices?
- A. esfera
 - B. prisma triangular
 - C. Ambos tienen el mismo número de vértices.



pirámide rectangular



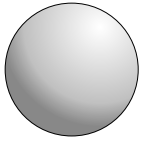
prisma rectangular

- 12) ¿Qué forma tiene más bordes?
- A. pirámide rectangular
 - B. prisma rectangular
 - C. Ambos tienen el mismo número de bordes.

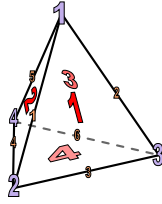
- 1. _____
- 2. _____
- 3. _____
- 4. _____
- 5. _____
- 6. _____
- 7. _____
- 8. _____
- 9. _____
- 10. _____
- 11. _____
- 12. _____



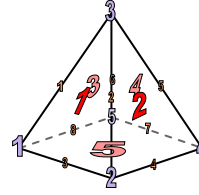
Usar el diagrama para determinar las caras, vértices y bordes de las formas.



esfera



pirámide triangular

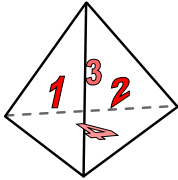


pirámide rectangular

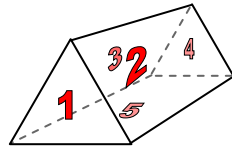
- 1) caras: 0
- 2) vértices: 0
- 3) bordes: 0

- 4) caras: 4
- 5) vértices: 4
- 6) bordes: 6

- 7) caras: 5
- 8) vértices: 5
- 9) bordes: 8



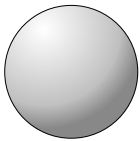
pirámide triangular



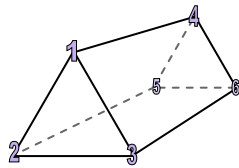
prisma triangular

10) ¿Qué forma tiene más caras?

- A. pirámide triangular
- B. prisma triangular
- C. Ambos tienen el mismo número de caras.



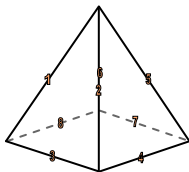
esfera



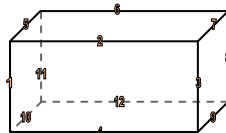
prisma triangular

11) ¿Qué forma tiene más vértices?

- A. esfera
- B. prisma triangular
- C. Ambos tienen el mismo número de vértices.



pirámide rectangular



prisma rectangular

12) ¿Qué forma tiene más bordes?

- A. pirámide rectangular
- B. prisma rectangular
- C. Ambos tienen el mismo número de bordes.

Respuestas

- 1. 0
- 2. 0
- 3. 0
- 4. 4
- 5. 4
- 6. 6
- 7. 5
- 8. 5
- 9. 8
- 10. B
- 11. B
- 12. B