



Utilizar el modelo visual para resolver cada problema.

1) Hay 11 pentagonos debajo.




Si se quitara 7, ¿cuántos quedarían?
 $11 - 7 = ?$

2) Hay 10 hexagonos debajo.



Si se quitara 4, ¿cuántos quedarían?
 $10 - 4 = ?$

3) Hay 11 circulos debajo.




Si se quitara 10, ¿cuántos quedarían?
 $11 - 10 = ?$

4) Hay 4 rectangulos debajo.



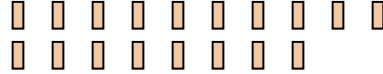
Si se quitara 2, ¿cuántos quedarían?
 $4 - 2 = ?$

5) Hay 20 cuadros debajo.



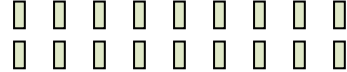
Si se quitara 6, ¿cuántos quedarían?
 $20 - 6 = ?$

6) Hay 18 rectangulos debajo.



Si se quitara 14, ¿cuántos quedarían?
 $18 - 14 = ?$

7) Hay 18 rectangulos debajo.



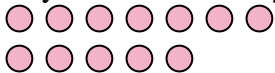
Si se quitara 2, ¿cuántos quedarían?
 $18 - 2 = ?$

8) Hay 2 estrellas debajo.



Si se quitara 1, ¿cuántos quedarían?
 $2 - 1 = ?$

9) Hay 12 circulos debajo.



Si se quitara 11, ¿cuántos quedarían?
 $12 - 11 = ?$

10) Hay 10 estrellas debajo.



Si se quitara 8, ¿cuántos quedarían?
 $10 - 8 = ?$

Respuestas

- 1. _____
- 2. _____
- 3. _____
- 4. _____
- 5. _____
- 6. _____
- 7. _____
- 8. _____
- 9. _____
- 10. _____



Utilizar el modelo visual para resolver cada problema.

1) Hay 11 pentagonos debajo.



Si se quitara 7, ¿cuántos quedarían?

$11 - 7 = ?$

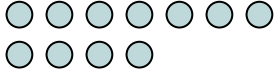
2) Hay 10 hexagonos debajo.



Si se quitara 4, ¿cuántos quedarían?

$10 - 4 = ?$

3) Hay 11 circulos debajo.



Si se quitara 10, ¿cuántos quedarían?

$11 - 10 = ?$


4) Hay 4 rectangulos debajo.



Si se quitara 2, ¿cuántos quedarían?

$4 - 2 = ?$

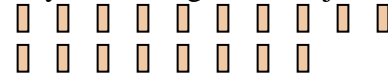
5) Hay 20 cuadros debajo.



Si se quitara 6, ¿cuántos quedarían?

$20 - 6 = ?$

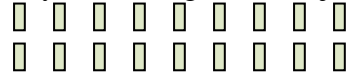
6) Hay 18 rectangulos debajo.



Si se quitara 14, ¿cuántos quedarían?

$18 - 14 = ?$

7) Hay 18 rectangulos debajo.



Si se quitara 2, ¿cuántos quedarían?

$18 - 2 = ?$

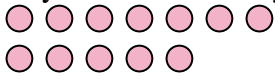
8) Hay 2 estrellas debajo.



Si se quitara 1, ¿cuántos quedarían?

$2 - 1 = ?$

9) Hay 12 circulos debajo.



Si se quitara 11, ¿cuántos quedarían?

$12 - 11 = ?$

10) Hay 10 estrellas debajo.



Si se quitara 8, ¿cuántos quedarían?

$10 - 8 = ?$

Respuestas1. 42. 63. 14. 25. 146. 47. 168. 19. 110. 2