

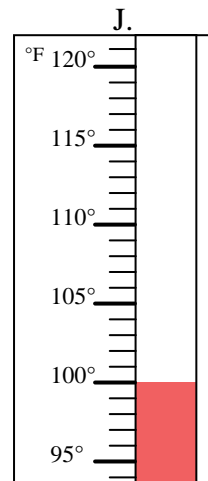
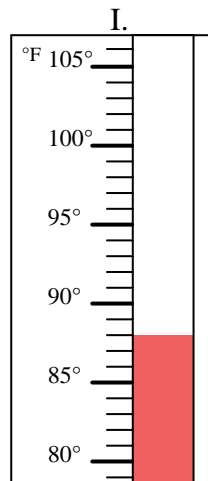
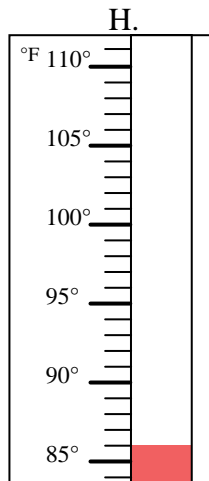
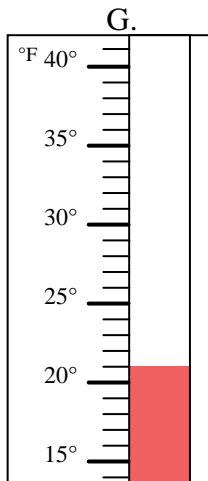
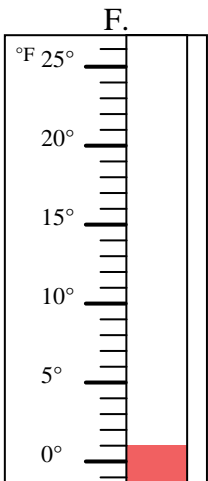
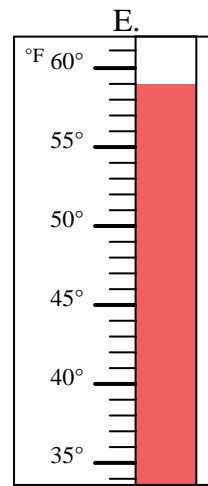
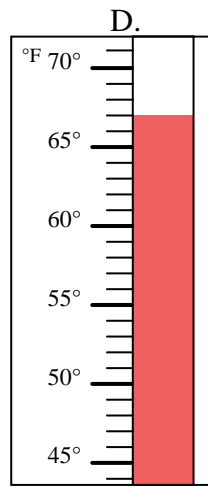
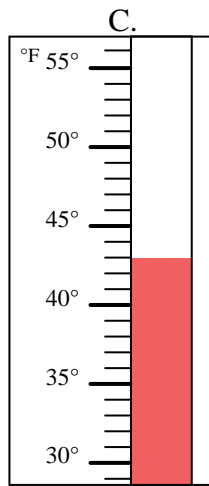
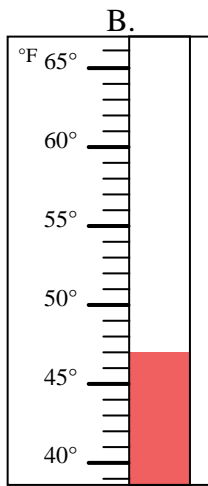
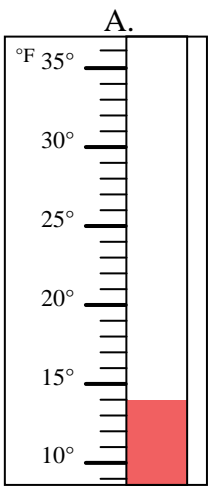


Determinar cuál letra responde mejor a cada pregunta.

Respuestas

- 1) ¿Qué termómetro representa mejor 47° de temperatura? _____
- 2) ¿Qué termómetro representa mejor 59° de temperatura? _____
- 3) ¿Qué termómetro representa mejor 1° de temperatura? _____
- 4) ¿Qué termómetro representa mejor 88° de temperatura? _____
- 5) ¿Qué termómetro representa mejor 14° de temperatura? _____
- 6) ¿Qué termómetro representa mejor 43° de temperatura? _____
- 7) ¿Qué termómetro representa mejor 21° de temperatura? _____
- 8) ¿Qué termómetro representa mejor 67° de temperatura? _____
- 9) ¿Qué termómetro representa mejor 86° de temperatura? _____
- 10) ¿Qué termómetro representa mejor 100° de temperatura? _____

1. _____
2. _____
3. _____
4. _____
5. _____
6. _____
7. _____
8. _____
9. _____
10. _____





Determinar cuál letra responde mejor a cada pregunta.

- 1) ¿Qué termómetro representa mejor 47° de temperatura? **B**
- 2) ¿Qué termómetro representa mejor 59° de temperatura? **E**
- 3) ¿Qué termómetro representa mejor 1° de temperatura? **F**
- 4) ¿Qué termómetro representa mejor 88° de temperatura? **I**
- 5) ¿Qué termómetro representa mejor 14° de temperatura? **A**
- 6) ¿Qué termómetro representa mejor 43° de temperatura? **C**
- 7) ¿Qué termómetro representa mejor 21° de temperatura? **G**
- 8) ¿Qué termómetro representa mejor 67° de temperatura? **D**
- 9) ¿Qué termómetro representa mejor 86° de temperatura? **H**
- 10) ¿Qué termómetro representa mejor 100° de temperatura? **J**

Respuestas

1. **B**
2. **E**
3. **F**
4. **I**
5. **A**
6. **C**
7. **G**
8. **D**
9. **H**
10. **J**

