

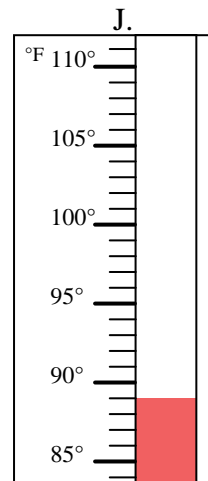
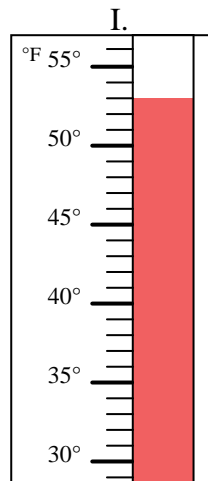
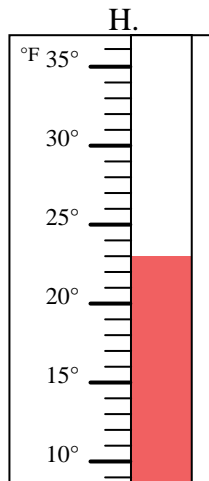
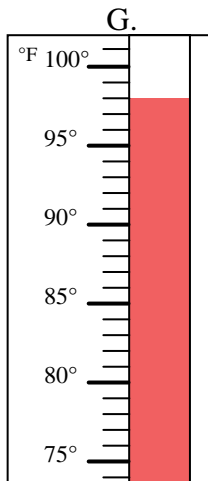
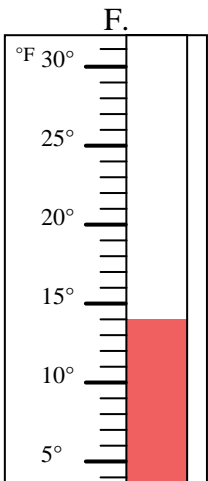
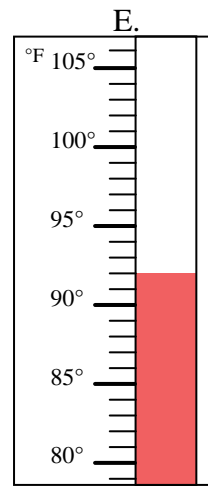
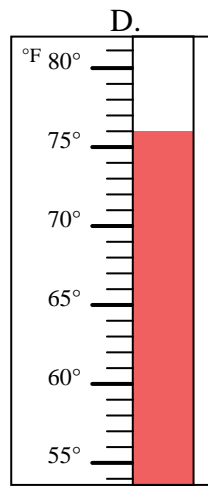
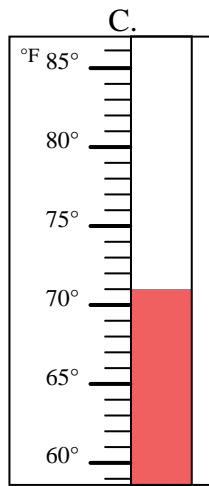
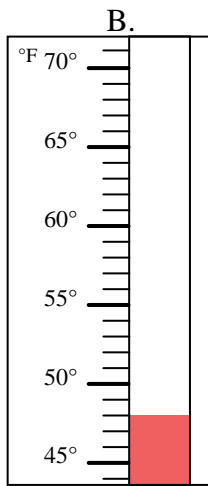
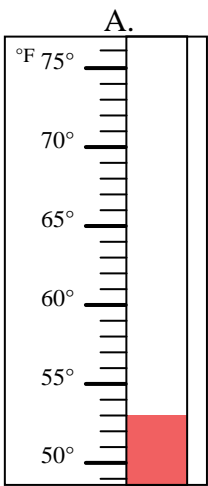


Determinar cuál letra responde mejor a cada pregunta.

Respuestas

- 1) ¿Qué termómetro representa mejor 14° de temperatura? _____
- 2) ¿Qué termómetro representa mejor 89° de temperatura? _____
- 3) ¿Qué termómetro representa mejor 76° de temperatura? _____
- 4) ¿Qué termómetro representa mejor 53° de temperatura? _____
- 5) ¿Qué termómetro representa mejor 71° de temperatura? _____
- 6) ¿Qué termómetro representa mejor 53° de temperatura? _____
- 7) ¿Qué termómetro representa mejor 92° de temperatura? _____
- 8) ¿Qué termómetro representa mejor 98° de temperatura? _____
- 9) ¿Qué termómetro representa mejor 48° de temperatura? _____
- 10) ¿Qué termómetro representa mejor 23° de temperatura? _____

1. _____
2. _____
3. _____
4. _____
5. _____
6. _____
7. _____
8. _____
9. _____
10. _____





Determinar cuál letra responde mejor a cada pregunta.

- 1) ¿Qué termómetro representa mejor 14° de temperatura? F
- 2) ¿Qué termómetro representa mejor 89° de temperatura? J
- 3) ¿Qué termómetro representa mejor 76° de temperatura? D
- 4) ¿Qué termómetro representa mejor 53° de temperatura? I
- 5) ¿Qué termómetro representa mejor 71° de temperatura? C
- 6) ¿Qué termómetro representa mejor 53° de temperatura? A
- 7) ¿Qué termómetro representa mejor 92° de temperatura? E
- 8) ¿Qué termómetro representa mejor 98° de temperatura? G
- 9) ¿Qué termómetro representa mejor 48° de temperatura? B
- 10) ¿Qué termómetro representa mejor 23° de temperatura? H

Respuestas

1. F
2. J
3. D
4. I
5. C
6. A
7. E
8. G
9. B
10. H

