

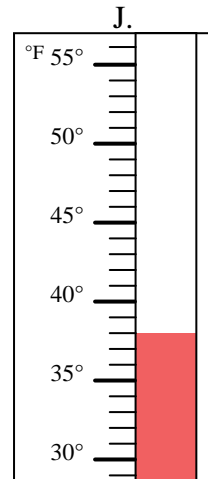
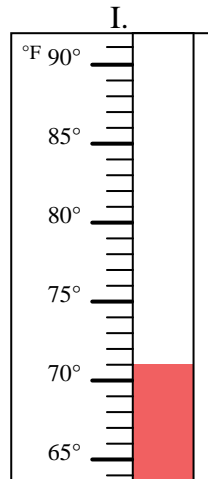
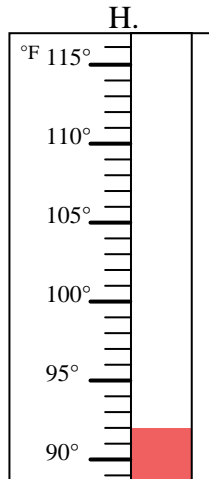
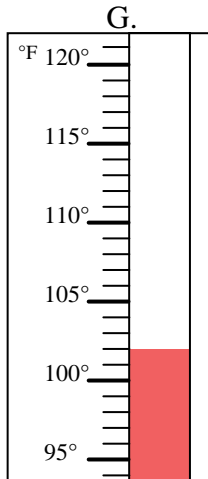
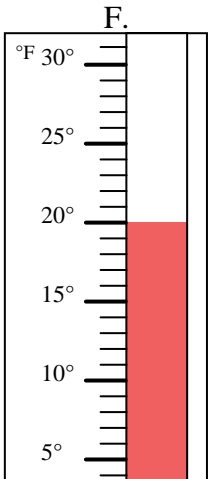
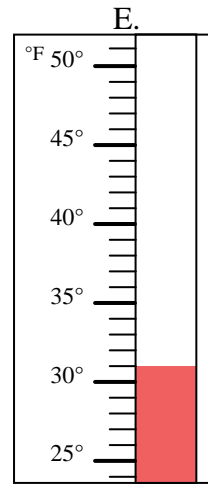
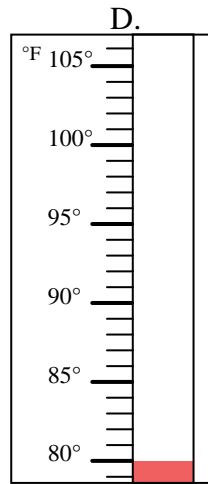
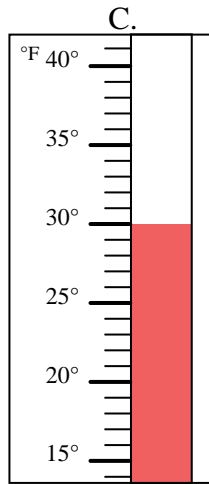
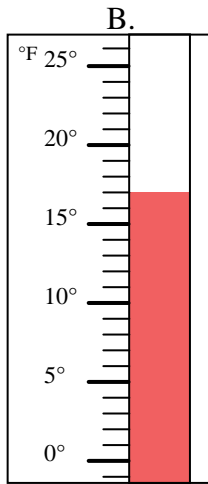
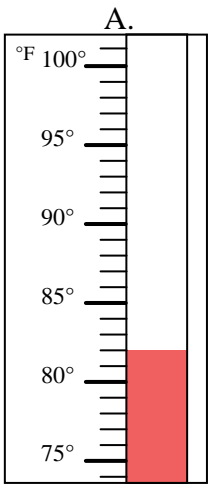


Determinar cuál letra responde mejor a cada pregunta.

**Respuestas**

- 1) ¿Qué termómetro representa mejor 31° de temperatura? \_\_\_\_\_
- 2) ¿Qué termómetro representa mejor 71° de temperatura? \_\_\_\_\_
- 3) ¿Qué termómetro representa mejor 80° de temperatura? \_\_\_\_\_
- 4) ¿Qué termómetro representa mejor 30° de temperatura? \_\_\_\_\_
- 5) ¿Qué termómetro representa mejor 82° de temperatura? \_\_\_\_\_
- 6) ¿Qué termómetro representa mejor 17° de temperatura? \_\_\_\_\_
- 7) ¿Qué termómetro representa mejor 102° de temperatura? \_\_\_\_\_
- 8) ¿Qué termómetro representa mejor 20° de temperatura? \_\_\_\_\_
- 9) ¿Qué termómetro representa mejor 38° de temperatura? \_\_\_\_\_
- 10) ¿Qué termómetro representa mejor 92° de temperatura? \_\_\_\_\_

1. \_\_\_\_\_
2. \_\_\_\_\_
3. \_\_\_\_\_
4. \_\_\_\_\_
5. \_\_\_\_\_
6. \_\_\_\_\_
7. \_\_\_\_\_
8. \_\_\_\_\_
9. \_\_\_\_\_
10. \_\_\_\_\_





Determinar cuál letra responde mejor a cada pregunta.

- 1) ¿Qué termómetro representa mejor 31° de temperatura?  E
- 2) ¿Qué termómetro representa mejor 71° de temperatura?  I
- 3) ¿Qué termómetro representa mejor 80° de temperatura?  D
- 4) ¿Qué termómetro representa mejor 30° de temperatura?  C
- 5) ¿Qué termómetro representa mejor 82° de temperatura?  A
- 6) ¿Qué termómetro representa mejor 17° de temperatura?  B
- 7) ¿Qué termómetro representa mejor 102° de temperatura?  G
- 8) ¿Qué termómetro representa mejor 20° de temperatura?  F
- 9) ¿Qué termómetro representa mejor 38° de temperatura?  J
- 10) ¿Qué termómetro representa mejor 92° de temperatura?  H

**Respuestas**

1.  E
2.  I
3.  D
4.  C
5.  A
6.  B
7.  G
8.  F
9.  J
10.  H

