

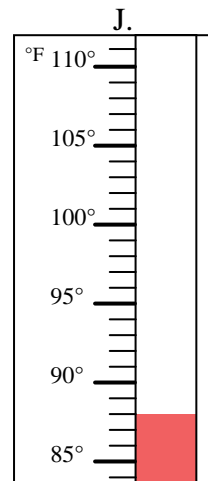
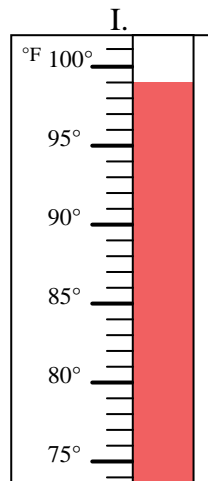
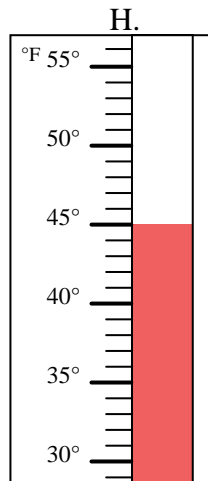
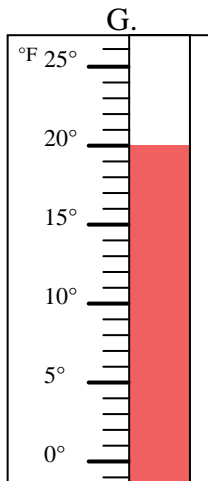
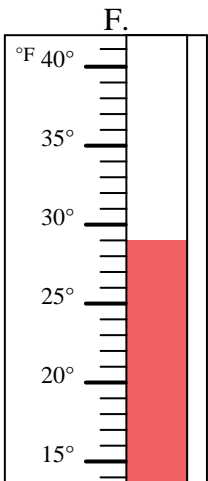
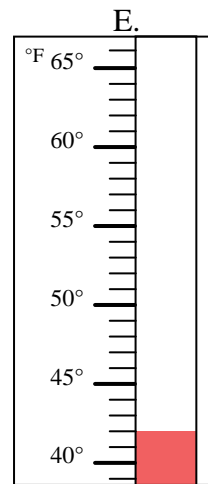
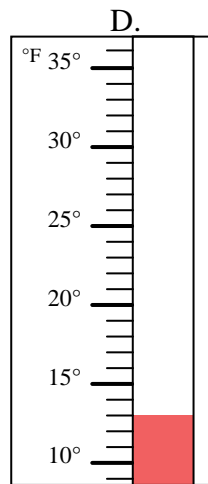
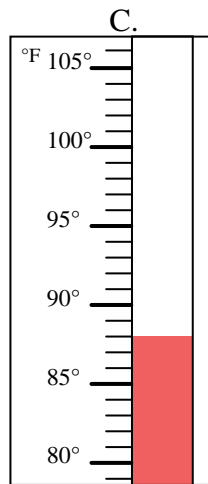
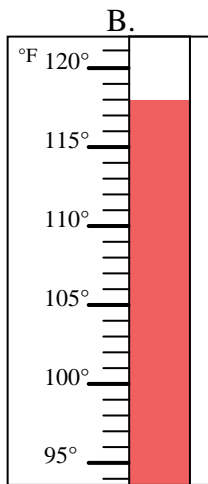
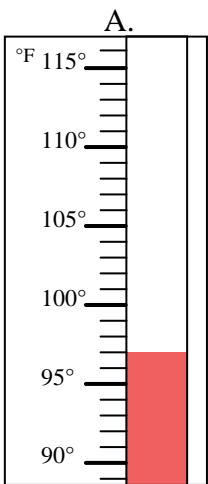


Determinar cuál letra responde mejor a cada pregunta.

**Respuestas**

- 1) ¿Qué termómetro representa mejor 20° de temperatura? \_\_\_\_\_
- 2) ¿Qué termómetro representa mejor 29° de temperatura? \_\_\_\_\_
- 3) ¿Qué termómetro representa mejor 13° de temperatura? \_\_\_\_\_
- 4) ¿Qué termómetro representa mejor 118° de temperatura? \_\_\_\_\_
- 5) ¿Qué termómetro representa mejor 99° de temperatura? \_\_\_\_\_
- 6) ¿Qué termómetro representa mejor 42° de temperatura? \_\_\_\_\_
- 7) ¿Qué termómetro representa mejor 45° de temperatura? \_\_\_\_\_
- 8) ¿Qué termómetro representa mejor 97° de temperatura? \_\_\_\_\_
- 9) ¿Qué termómetro representa mejor 88° de temperatura? \_\_\_\_\_
- 10) ¿Qué termómetro representa mejor 88° de temperatura? \_\_\_\_\_

1. \_\_\_\_\_
2. \_\_\_\_\_
3. \_\_\_\_\_
4. \_\_\_\_\_
5. \_\_\_\_\_
6. \_\_\_\_\_
7. \_\_\_\_\_
8. \_\_\_\_\_
9. \_\_\_\_\_
10. \_\_\_\_\_





Determinar cuál letra responde mejor a cada pregunta.

- 1) ¿Qué termómetro representa mejor 20° de temperatura?   **G**
- 2) ¿Qué termómetro representa mejor 29° de temperatura?   **F**
- 3) ¿Qué termómetro representa mejor 13° de temperatura?   **D**
- 4) ¿Qué termómetro representa mejor 118° de temperatura?   **B**
- 5) ¿Qué termómetro representa mejor 99° de temperatura?   **I**
- 6) ¿Qué termómetro representa mejor 42° de temperatura?   **E**
- 7) ¿Qué termómetro representa mejor 45° de temperatura?   **H**
- 8) ¿Qué termómetro representa mejor 97° de temperatura?   **A**
- 9) ¿Qué termómetro representa mejor 88° de temperatura?   **J**
- 10) ¿Qué termómetro representa mejor 88° de temperatura?   **C**

**Respuestas**

1.   **G**
2.   **F**
3.   **D**
4.   **B**
5.   **I**
6.   **E**
7.   **H**
8.   **A**
9.   **J**
10.   **C**

