

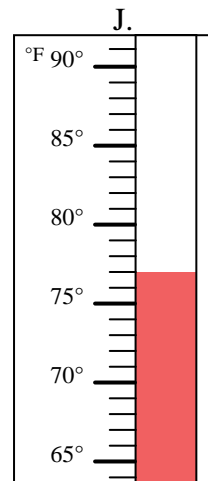
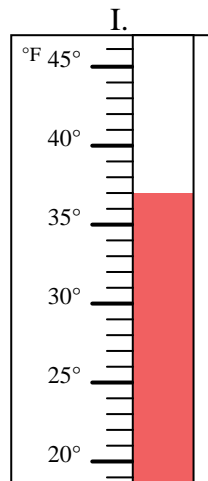
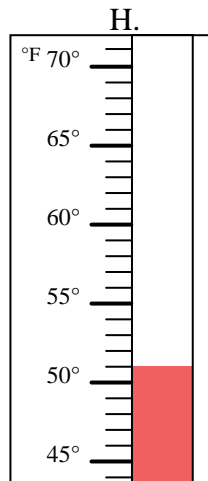
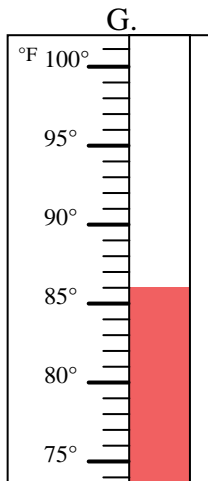
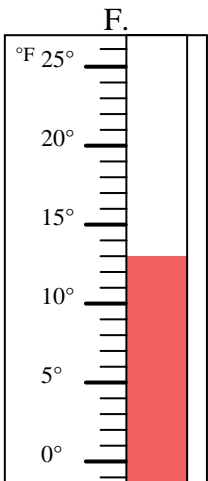
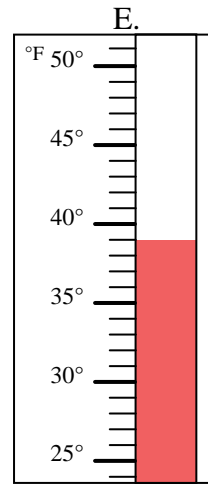
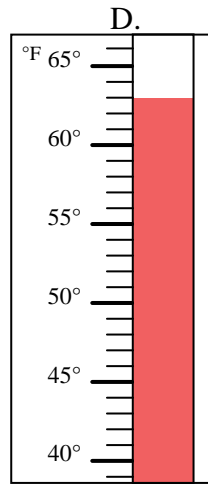
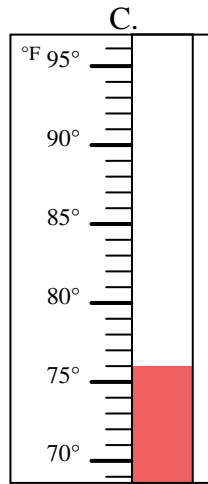
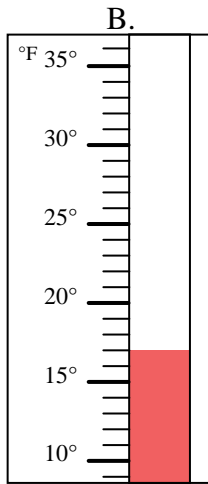
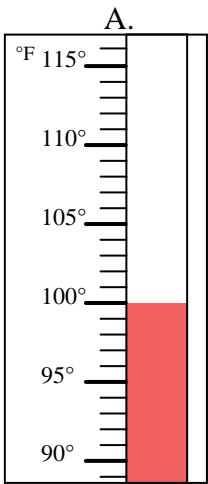


Determinar cuál letra responde mejor a cada pregunta.

Respuestas

- 1) ¿Qué termómetro representa mejor 39° de temperatura? _____
- 2) ¿Qué termómetro representa mejor 17° de temperatura? _____
- 3) ¿Qué termómetro representa mejor 51° de temperatura? _____
- 4) ¿Qué termómetro representa mejor 100° de temperatura? _____
- 5) ¿Qué termómetro representa mejor 37° de temperatura? _____
- 6) ¿Qué termómetro representa mejor 77° de temperatura? _____
- 7) ¿Qué termómetro representa mejor 76° de temperatura? _____
- 8) ¿Qué termómetro representa mejor 63° de temperatura? _____
- 9) ¿Qué termómetro representa mejor 86° de temperatura? _____
- 10) ¿Qué termómetro representa mejor 13° de temperatura? _____

1. _____
2. _____
3. _____
4. _____
5. _____
6. _____
7. _____
8. _____
9. _____
10. _____





Determinar cuál letra responde mejor a cada pregunta.

- 1) ¿Qué termómetro representa mejor 39° de temperatura? E
- 2) ¿Qué termómetro representa mejor 17° de temperatura? B
- 3) ¿Qué termómetro representa mejor 51° de temperatura? H
- 4) ¿Qué termómetro representa mejor 100° de temperatura? A
- 5) ¿Qué termómetro representa mejor 37° de temperatura? I
- 6) ¿Qué termómetro representa mejor 77° de temperatura? J
- 7) ¿Qué termómetro representa mejor 76° de temperatura? C
- 8) ¿Qué termómetro representa mejor 63° de temperatura? D
- 9) ¿Qué termómetro representa mejor 86° de temperatura? G
- 10) ¿Qué termómetro representa mejor 13° de temperatura? F

Respuestas

1. E
2. B
3. H
4. A
5. I
6. J
7. C
8. D
9. G
10. F

