

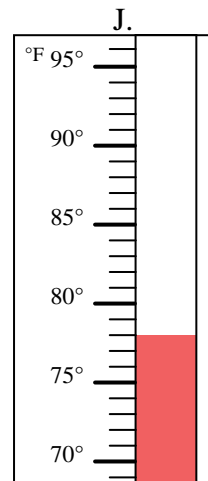
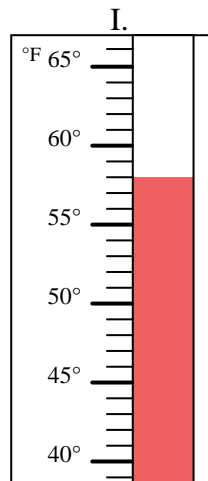
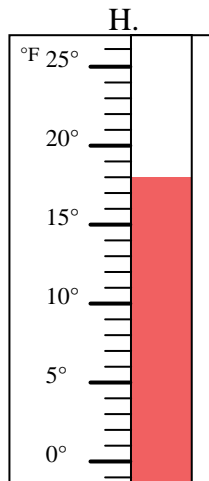
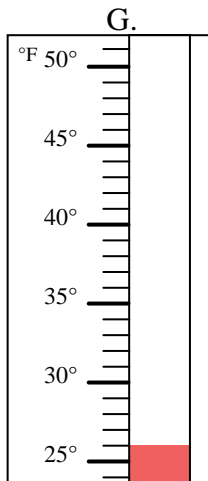
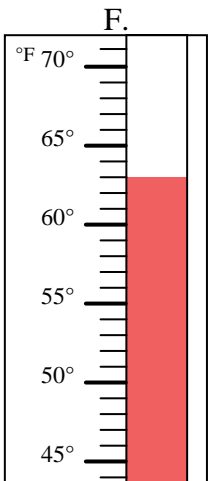
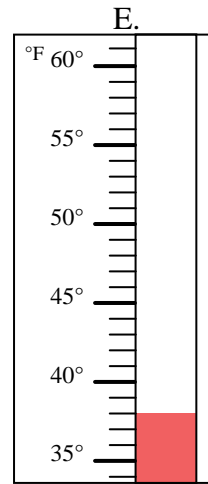
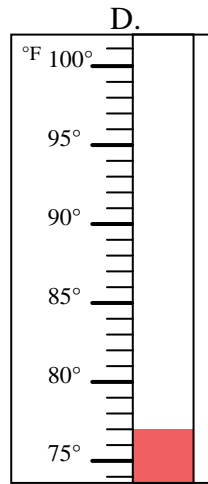
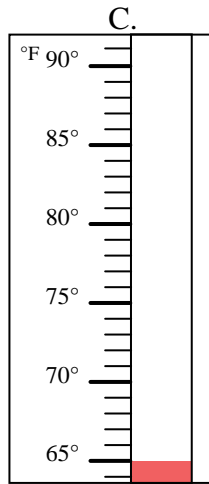
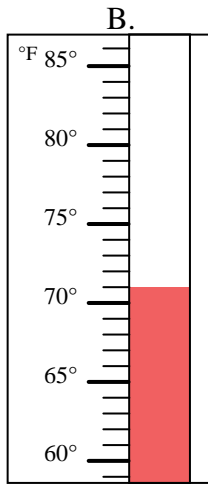
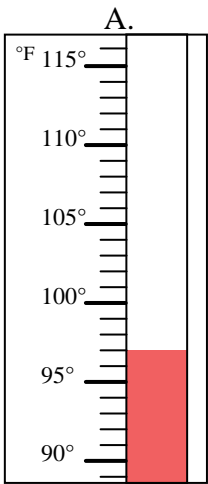


Determinar cuál letra responde mejor a cada pregunta.

Respuestas

- 1) ¿Qué termómetro representa mejor 58° de temperatura? _____
- 2) ¿Qué termómetro representa mejor 65° de temperatura? _____
- 3) ¿Qué termómetro representa mejor 18° de temperatura? _____
- 4) ¿Qué termómetro representa mejor 26° de temperatura? _____
- 5) ¿Qué termómetro representa mejor 78° de temperatura? _____
- 6) ¿Qué termómetro representa mejor 77° de temperatura? _____
- 7) ¿Qué termómetro representa mejor 97° de temperatura? _____
- 8) ¿Qué termómetro representa mejor 63° de temperatura? _____
- 9) ¿Qué termómetro representa mejor 71° de temperatura? _____
- 10) ¿Qué termómetro representa mejor 38° de temperatura? _____

1. _____
2. _____
3. _____
4. _____
5. _____
6. _____
7. _____
8. _____
9. _____
10. _____





Determinar cuál letra responde mejor a cada pregunta.

- 1) ¿Qué termómetro representa mejor 58° de temperatura? I
- 2) ¿Qué termómetro representa mejor 65° de temperatura? C
- 3) ¿Qué termómetro representa mejor 18° de temperatura? H
- 4) ¿Qué termómetro representa mejor 26° de temperatura? G
- 5) ¿Qué termómetro representa mejor 78° de temperatura? J
- 6) ¿Qué termómetro representa mejor 77° de temperatura? D
- 7) ¿Qué termómetro representa mejor 97° de temperatura? A
- 8) ¿Qué termómetro representa mejor 63° de temperatura? F
- 9) ¿Qué termómetro representa mejor 71° de temperatura? B
- 10) ¿Qué termómetro representa mejor 38° de temperatura? E

Respuestas

1. I
2. C
3. H
4. G
5. J
6. D
7. A
8. F
9. B
10. E

