

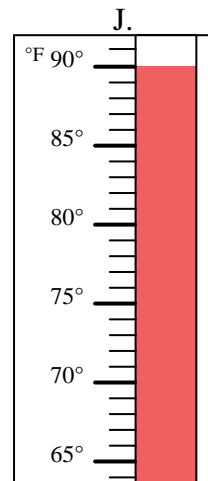
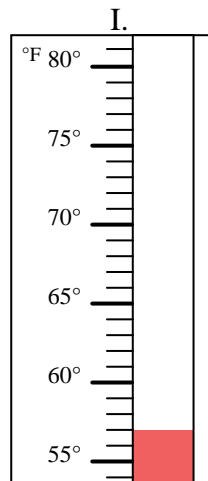
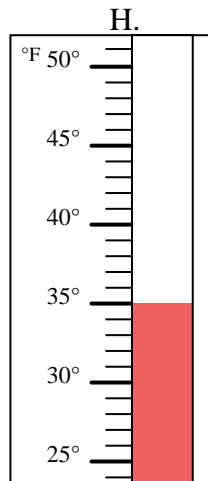
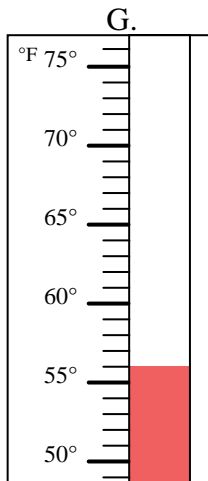
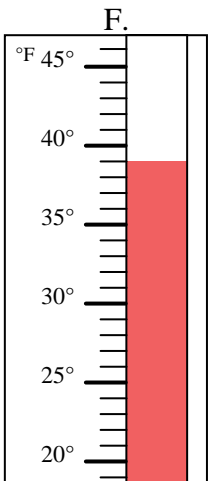
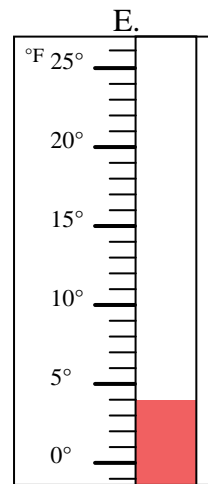
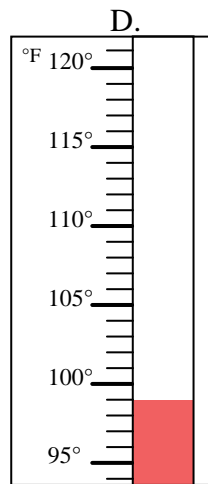
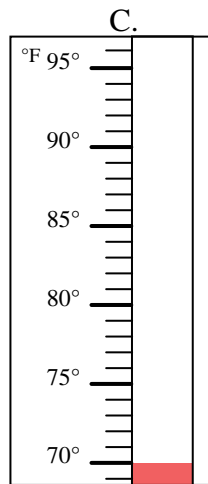
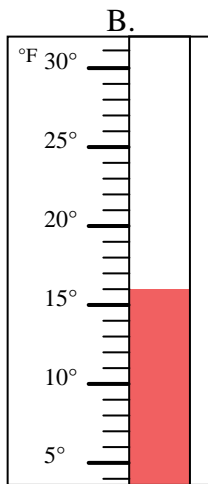
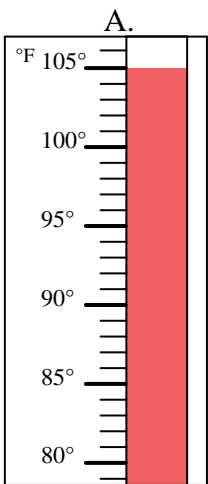


Determinar cuál letra responde mejor a cada pregunta.

**Respuestas**

- 1) ¿Qué termómetro representa mejor 4° de temperatura? \_\_\_\_\_
- 2) ¿Qué termómetro representa mejor 99° de temperatura? \_\_\_\_\_
- 3) ¿Qué termómetro representa mejor 105° de temperatura? \_\_\_\_\_
- 4) ¿Qué termómetro representa mejor 90° de temperatura? \_\_\_\_\_
- 5) ¿Qué termómetro representa mejor 16° de temperatura? \_\_\_\_\_
- 6) ¿Qué termómetro representa mejor 35° de temperatura? \_\_\_\_\_
- 7) ¿Qué termómetro representa mejor 57° de temperatura? \_\_\_\_\_
- 8) ¿Qué termómetro representa mejor 56° de temperatura? \_\_\_\_\_
- 9) ¿Qué termómetro representa mejor 39° de temperatura? \_\_\_\_\_
- 10) ¿Qué termómetro representa mejor 70° de temperatura? \_\_\_\_\_

1. \_\_\_\_\_
2. \_\_\_\_\_
3. \_\_\_\_\_
4. \_\_\_\_\_
5. \_\_\_\_\_
6. \_\_\_\_\_
7. \_\_\_\_\_
8. \_\_\_\_\_
9. \_\_\_\_\_
10. \_\_\_\_\_





Determinar cuál letra responde mejor a cada pregunta.

- 1) ¿Qué termómetro representa mejor 4° de temperatura?  E
- 2) ¿Qué termómetro representa mejor 99° de temperatura?  D
- 3) ¿Qué termómetro representa mejor 105° de temperatura?  A
- 4) ¿Qué termómetro representa mejor 90° de temperatura?  J
- 5) ¿Qué termómetro representa mejor 16° de temperatura?  B
- 6) ¿Qué termómetro representa mejor 35° de temperatura?  H
- 7) ¿Qué termómetro representa mejor 57° de temperatura?  I
- 8) ¿Qué termómetro representa mejor 56° de temperatura?  G
- 9) ¿Qué termómetro representa mejor 39° de temperatura?  F
- 10) ¿Qué termómetro representa mejor 70° de temperatura?  C

**Respuestas**

1.  E
2.  D
3.  A
4.  J
5.  B
6.  H
7.  I
8.  G
9.  F
10.  C

