

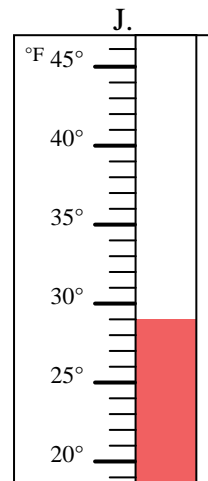
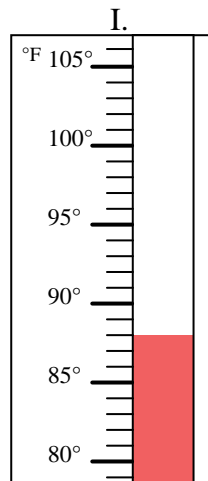
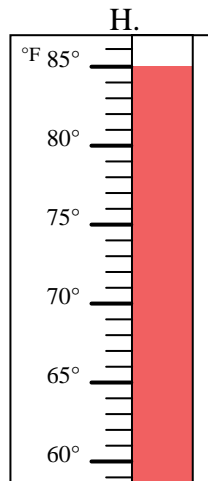
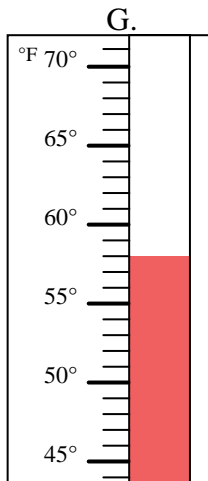
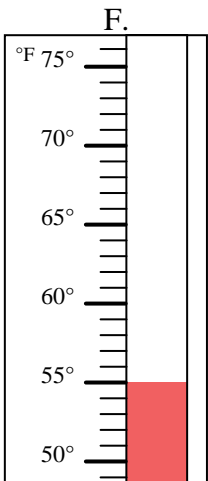
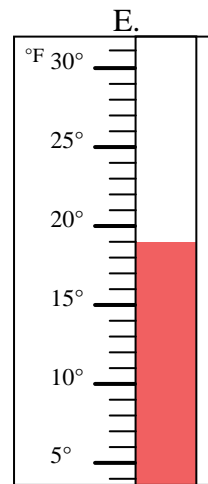
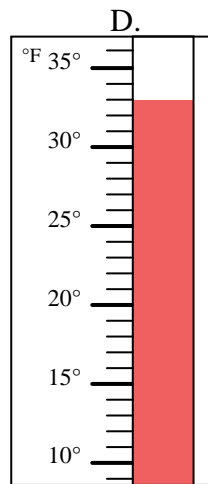
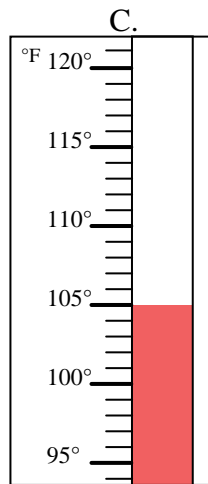
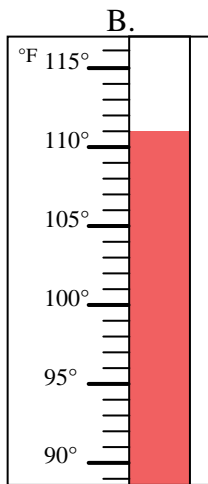
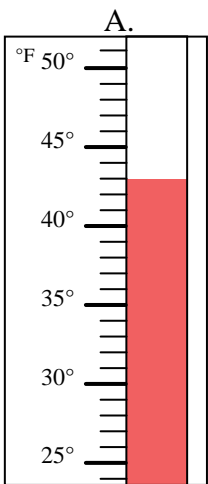


Determinar cuál letra responde mejor a cada pregunta.

Respuestas

- 1) ¿Qué termómetro representa mejor 55° de temperatura? _____
- 2) ¿Qué termómetro representa mejor 88° de temperatura? _____
- 3) ¿Qué termómetro representa mejor 43° de temperatura? _____
- 4) ¿Qué termómetro representa mejor 29° de temperatura? _____
- 5) ¿Qué termómetro representa mejor 33° de temperatura? _____
- 6) ¿Qué termómetro representa mejor 19° de temperatura? _____
- 7) ¿Qué termómetro representa mejor 111° de temperatura? _____
- 8) ¿Qué termómetro representa mejor 58° de temperatura? _____
- 9) ¿Qué termómetro representa mejor 105° de temperatura? _____
- 10) ¿Qué termómetro representa mejor 85° de temperatura? _____

1. _____
2. _____
3. _____
4. _____
5. _____
6. _____
7. _____
8. _____
9. _____
10. _____





Determinar cuál letra responde mejor a cada pregunta.

- 1) ¿Qué termómetro representa mejor 55° de temperatura? F
- 2) ¿Qué termómetro representa mejor 88° de temperatura? I
- 3) ¿Qué termómetro representa mejor 43° de temperatura? A
- 4) ¿Qué termómetro representa mejor 29° de temperatura? J
- 5) ¿Qué termómetro representa mejor 33° de temperatura? D
- 6) ¿Qué termómetro representa mejor 19° de temperatura? E
- 7) ¿Qué termómetro representa mejor 111° de temperatura? B
- 8) ¿Qué termómetro representa mejor 58° de temperatura? G
- 9) ¿Qué termómetro representa mejor 105° de temperatura? C
- 10) ¿Qué termómetro representa mejor 85° de temperatura? H

Respuestas

1. F
2. I
3. A
4. J
5. D
6. E
7. B
8. G
9. C
10. H

