

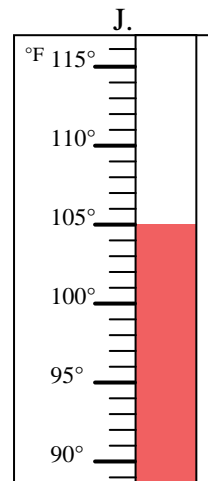
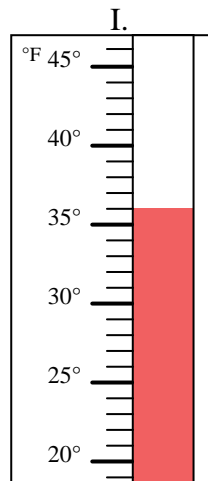
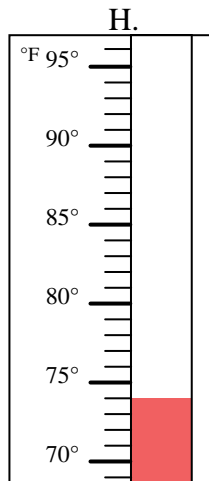
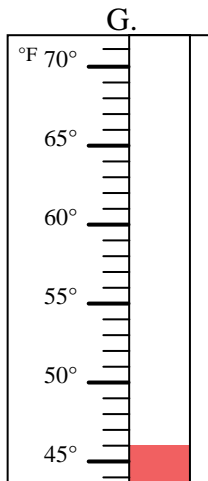
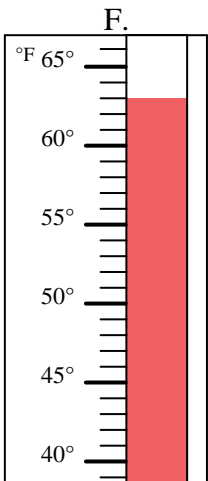
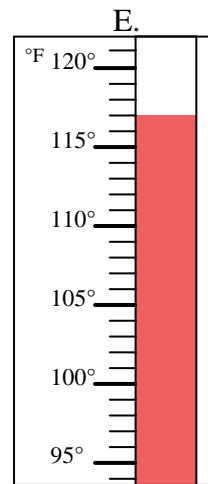
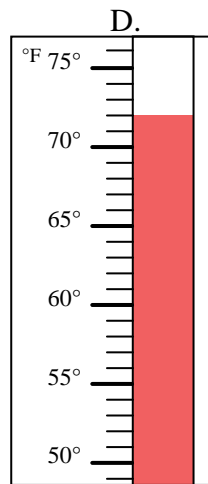
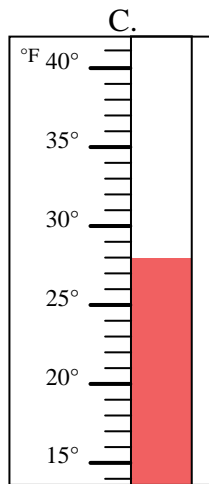
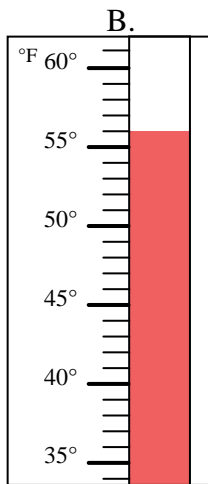
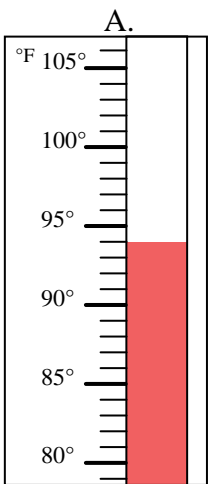


Determinar cuál letra responde mejor a cada pregunta.

**Respuestas**

- 1) ¿Qué termómetro representa mejor 72° de temperatura? \_\_\_\_\_
- 2) ¿Qué termómetro representa mejor 105° de temperatura? \_\_\_\_\_
- 3) ¿Qué termómetro representa mejor 46° de temperatura? \_\_\_\_\_
- 4) ¿Qué termómetro representa mejor 63° de temperatura? \_\_\_\_\_
- 5) ¿Qué termómetro representa mejor 56° de temperatura? \_\_\_\_\_
- 6) ¿Qué termómetro representa mejor 36° de temperatura? \_\_\_\_\_
- 7) ¿Qué termómetro representa mejor 117° de temperatura? \_\_\_\_\_
- 8) ¿Qué termómetro representa mejor 94° de temperatura? \_\_\_\_\_
- 9) ¿Qué termómetro representa mejor 74° de temperatura? \_\_\_\_\_
- 10) ¿Qué termómetro representa mejor 28° de temperatura? \_\_\_\_\_

1. \_\_\_\_\_
2. \_\_\_\_\_
3. \_\_\_\_\_
4. \_\_\_\_\_
5. \_\_\_\_\_
6. \_\_\_\_\_
7. \_\_\_\_\_
8. \_\_\_\_\_
9. \_\_\_\_\_
10. \_\_\_\_\_





Determinar cuál letra responde mejor a cada pregunta.

- 1) ¿Qué termómetro representa mejor 72° de temperatura?  D
- 2) ¿Qué termómetro representa mejor 105° de temperatura?  J
- 3) ¿Qué termómetro representa mejor 46° de temperatura?  G
- 4) ¿Qué termómetro representa mejor 63° de temperatura?  F
- 5) ¿Qué termómetro representa mejor 56° de temperatura?  B
- 6) ¿Qué termómetro representa mejor 36° de temperatura?  I
- 7) ¿Qué termómetro representa mejor 117° de temperatura?  E
- 8) ¿Qué termómetro representa mejor 94° de temperatura?  A
- 9) ¿Qué termómetro representa mejor 74° de temperatura?  H
- 10) ¿Qué termómetro representa mejor 28° de temperatura?  C

**Respuestas**

1.  D
2.  J
3.  G
4.  F
5.  B
6.  I
7.  E
8.  A
9.  H
10.  C

