

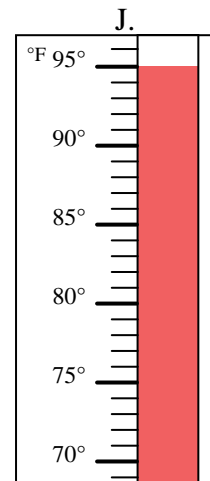
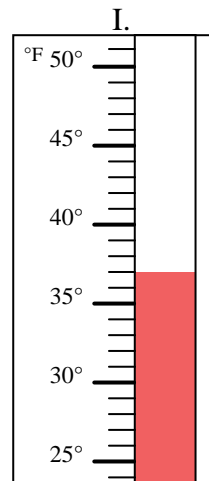
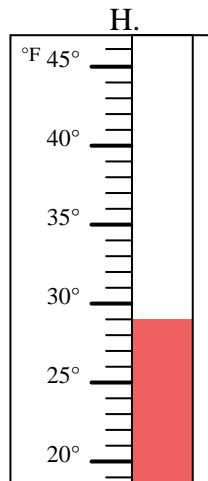
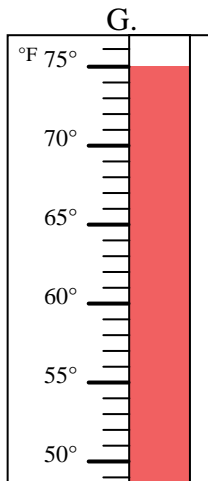
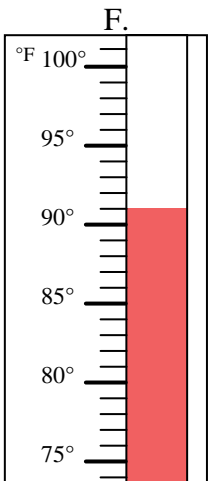
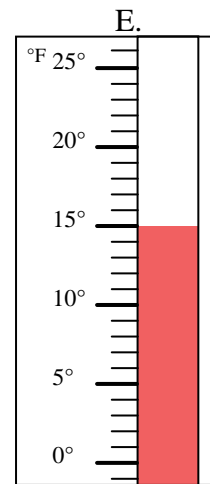
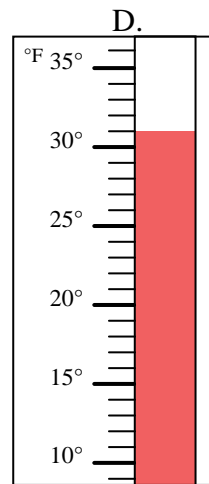
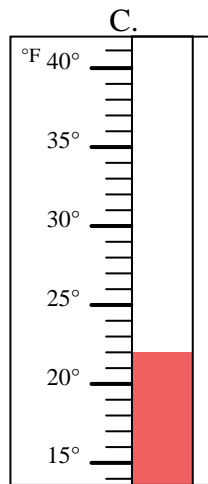
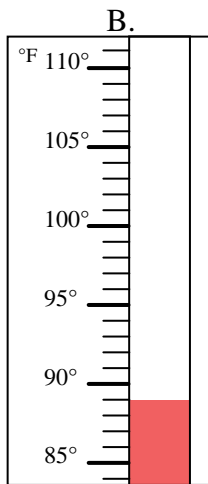
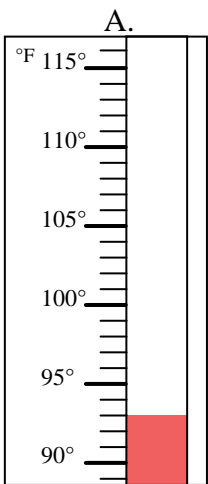


Determinar cuál letra responde mejor a cada pregunta.

Respuestas

- 1) ¿Qué termómetro representa mejor 37° de temperatura? _____
- 2) ¿Qué termómetro representa mejor 29° de temperatura? _____
- 3) ¿Qué termómetro representa mejor 22° de temperatura? _____
- 4) ¿Qué termómetro representa mejor 89° de temperatura? _____
- 5) ¿Qué termómetro representa mejor 91° de temperatura? _____
- 6) ¿Qué termómetro representa mejor 93° de temperatura? _____
- 7) ¿Qué termómetro representa mejor 31° de temperatura? _____
- 8) ¿Qué termómetro representa mejor 75° de temperatura? _____
- 9) ¿Qué termómetro representa mejor 15° de temperatura? _____
- 10) ¿Qué termómetro representa mejor 95° de temperatura? _____

1. _____
2. _____
3. _____
4. _____
5. _____
6. _____
7. _____
8. _____
9. _____
10. _____





Determinar cuál letra responde mejor a cada pregunta.

- 1) ¿Qué termómetro representa mejor 37° de temperatura? I
- 2) ¿Qué termómetro representa mejor 29° de temperatura? H
- 3) ¿Qué termómetro representa mejor 22° de temperatura? C
- 4) ¿Qué termómetro representa mejor 89° de temperatura? B
- 5) ¿Qué termómetro representa mejor 91° de temperatura? F
- 6) ¿Qué termómetro representa mejor 93° de temperatura? A
- 7) ¿Qué termómetro representa mejor 31° de temperatura? D
- 8) ¿Qué termómetro representa mejor 75° de temperatura? G
- 9) ¿Qué termómetro representa mejor 15° de temperatura? E
- 10) ¿Qué termómetro representa mejor 95° de temperatura? J

Respuestas

1. I
2. H
3. C
4. B
5. F
6. A
7. D
8. G
9. E
10. J

