

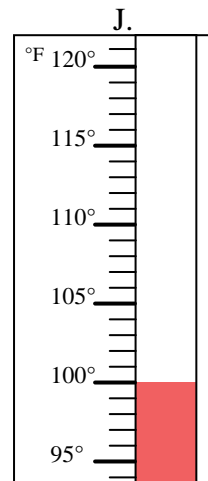
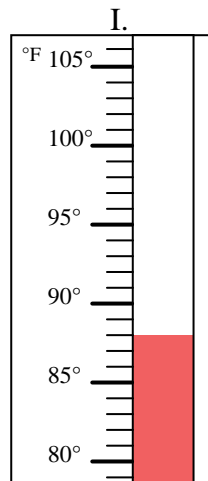
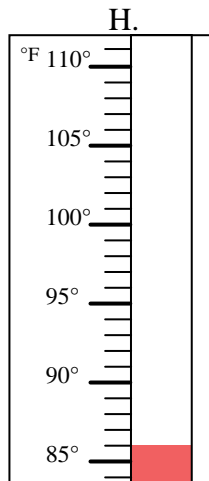
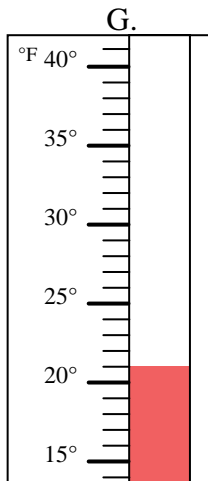
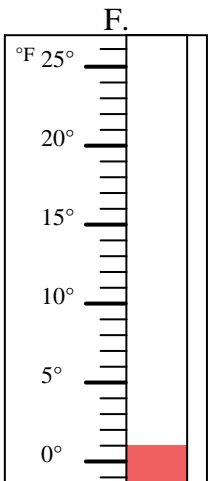
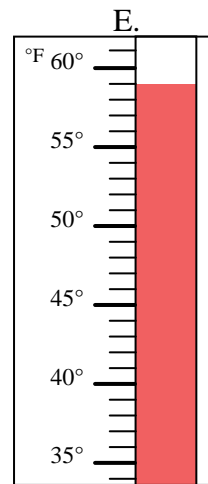
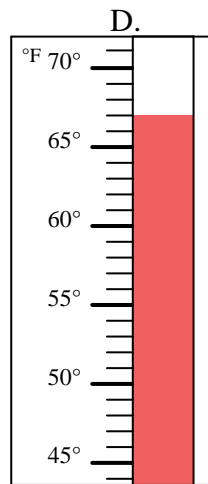
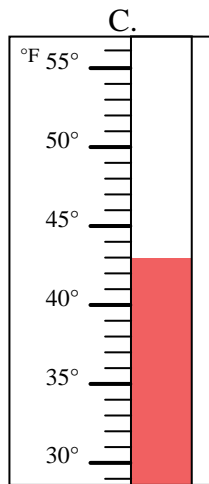
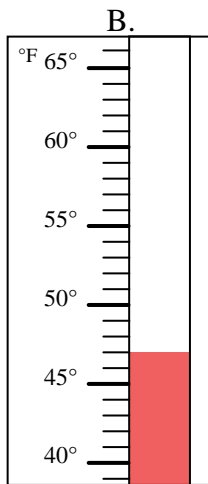
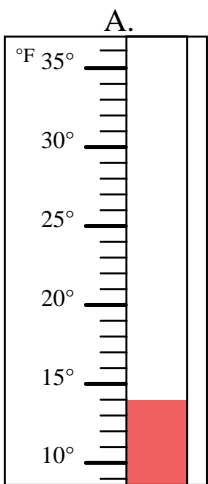


Determinar cuál letra responde mejor a cada pregunta.

Respuestas

- 1) ¿Qué termómetro representa mejor 47° de temperatura? _____
- 2) ¿Qué termómetro representa mejor 59° de temperatura? _____
- 3) ¿Qué termómetro representa mejor 1° de temperatura? _____
- 4) ¿Qué termómetro representa mejor 88° de temperatura? _____
- 5) ¿Qué termómetro representa mejor 14° de temperatura? _____
- 6) ¿Qué termómetro representa mejor 43° de temperatura? _____
- 7) ¿Qué termómetro representa mejor 21° de temperatura? _____
- 8) ¿Qué termómetro representa mejor 67° de temperatura? _____
- 9) ¿Qué termómetro representa mejor 86° de temperatura? _____
- 10) ¿Qué termómetro representa mejor 100° de temperatura? _____

1. _____
2. _____
3. _____
4. _____
5. _____
6. _____
7. _____
8. _____
9. _____
10. _____



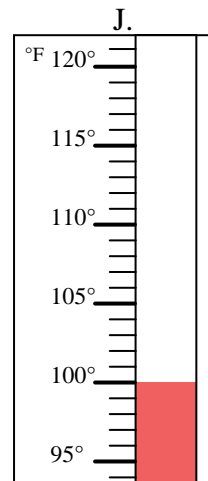
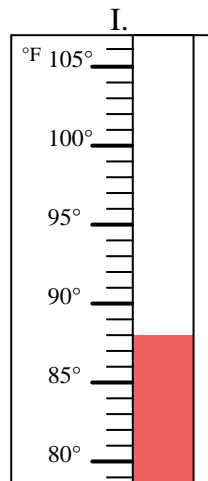
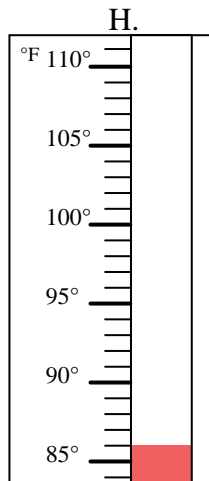
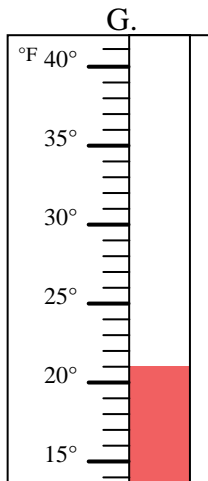
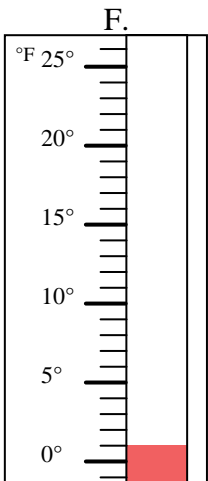
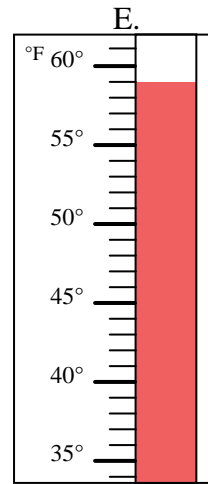
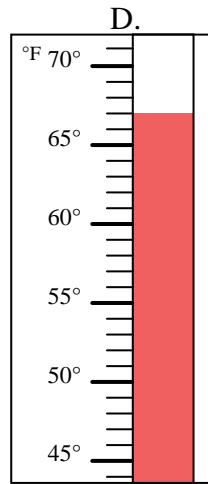
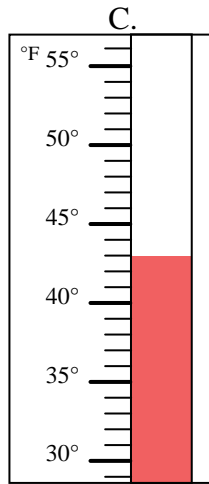
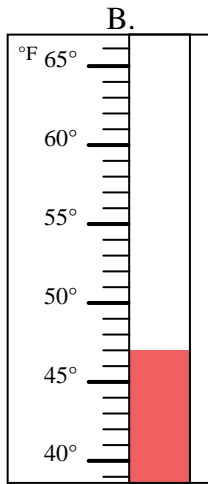
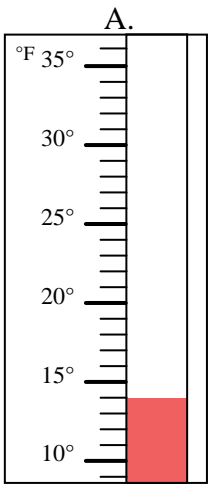


Determinar cuál letra responde mejor a cada pregunta.

- 1) ¿Qué termómetro representa mejor 47° de temperatura? B
- 2) ¿Qué termómetro representa mejor 59° de temperatura? E
- 3) ¿Qué termómetro representa mejor 1° de temperatura? F
- 4) ¿Qué termómetro representa mejor 88° de temperatura? I
- 5) ¿Qué termómetro representa mejor 14° de temperatura? A
- 6) ¿Qué termómetro representa mejor 43° de temperatura? C
- 7) ¿Qué termómetro representa mejor 21° de temperatura? G
- 8) ¿Qué termómetro representa mejor 67° de temperatura? D
- 9) ¿Qué termómetro representa mejor 86° de temperatura? H
- 10) ¿Qué termómetro representa mejor 100° de temperatura? J

Respuestas

1. B
2. E
3. F
4. I
5. A
6. C
7. G
8. D
9. H
10. J



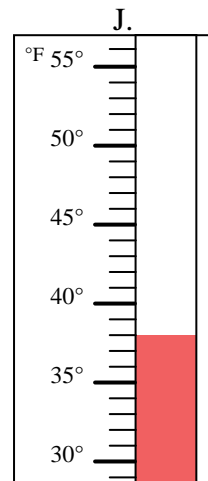
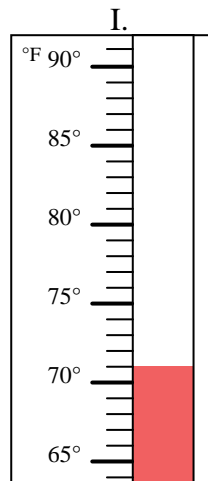
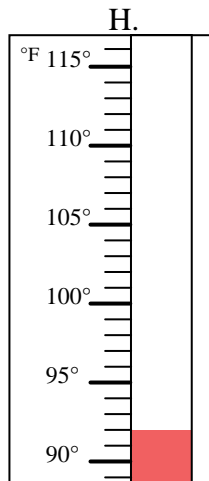
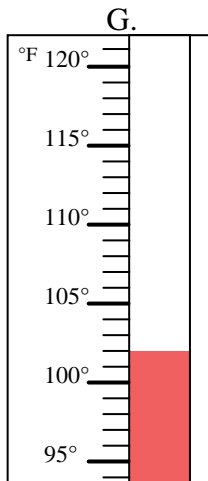
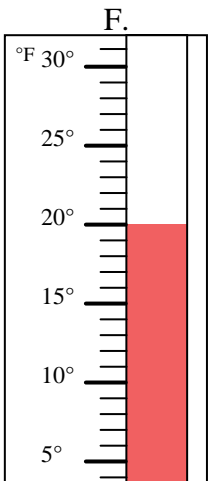
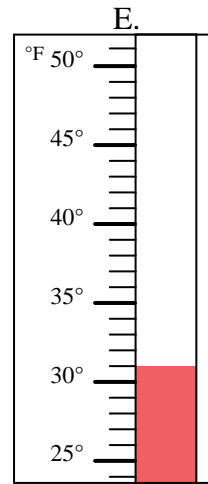
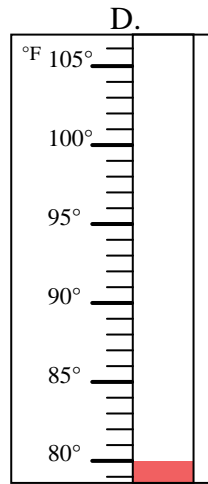
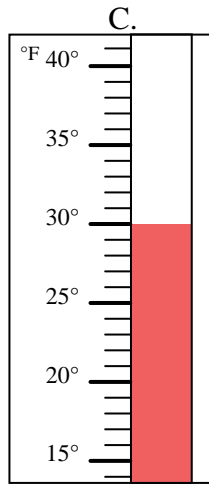
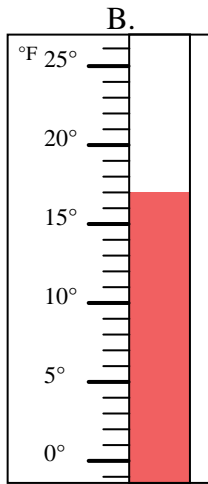
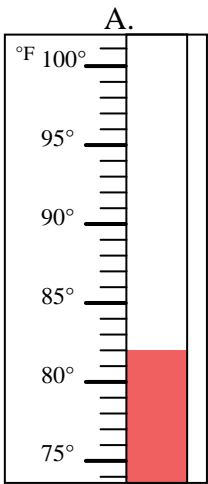


Determinar cuál letra responde mejor a cada pregunta.

Respuestas

- 1) ¿Qué termómetro representa mejor 31° de temperatura? _____
- 2) ¿Qué termómetro representa mejor 71° de temperatura? _____
- 3) ¿Qué termómetro representa mejor 80° de temperatura? _____
- 4) ¿Qué termómetro representa mejor 30° de temperatura? _____
- 5) ¿Qué termómetro representa mejor 82° de temperatura? _____
- 6) ¿Qué termómetro representa mejor 17° de temperatura? _____
- 7) ¿Qué termómetro representa mejor 102° de temperatura? _____
- 8) ¿Qué termómetro representa mejor 20° de temperatura? _____
- 9) ¿Qué termómetro representa mejor 38° de temperatura? _____
- 10) ¿Qué termómetro representa mejor 92° de temperatura? _____

1. _____
2. _____
3. _____
4. _____
5. _____
6. _____
7. _____
8. _____
9. _____
10. _____



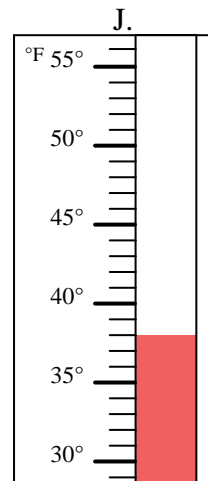
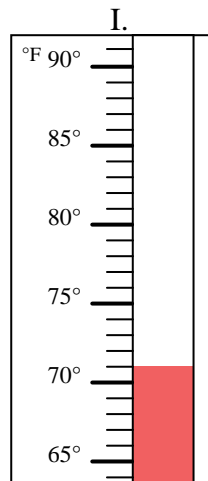
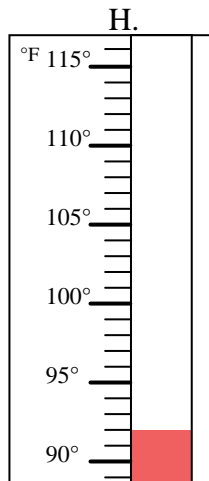
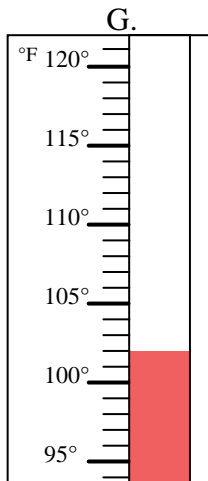
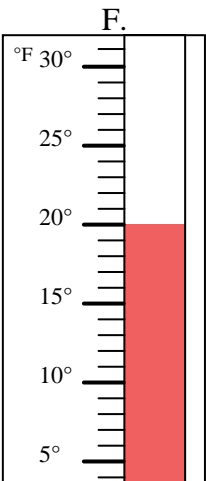
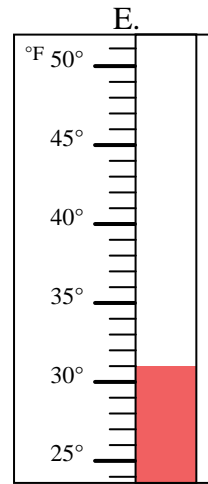
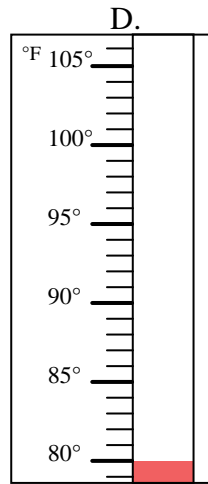
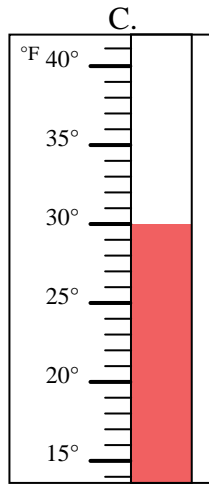
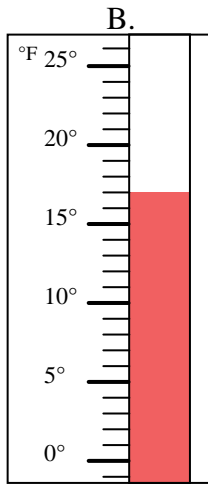
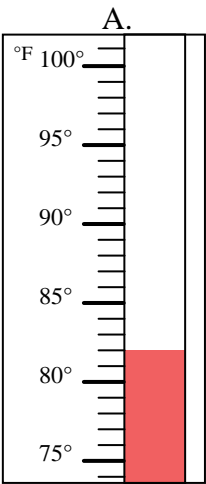


Determinar cuál letra responde mejor a cada pregunta.

- 1) ¿Qué termómetro representa mejor 31° de temperatura? E
- 2) ¿Qué termómetro representa mejor 71° de temperatura? I
- 3) ¿Qué termómetro representa mejor 80° de temperatura? D
- 4) ¿Qué termómetro representa mejor 30° de temperatura? C
- 5) ¿Qué termómetro representa mejor 82° de temperatura? A
- 6) ¿Qué termómetro representa mejor 17° de temperatura? B
- 7) ¿Qué termómetro representa mejor 102° de temperatura? G
- 8) ¿Qué termómetro representa mejor 20° de temperatura? F
- 9) ¿Qué termómetro representa mejor 38° de temperatura? J
- 10) ¿Qué termómetro representa mejor 92° de temperatura? H

Respuestas

1. E
2. I
3. D
4. C
5. A
6. B
7. G
8. F
9. J
10. H



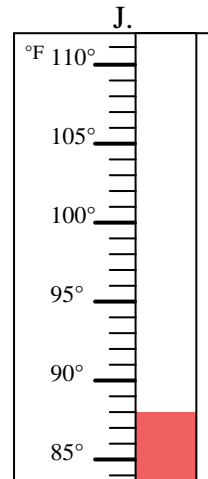
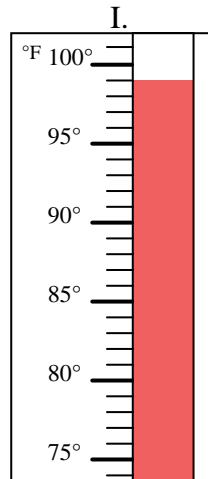
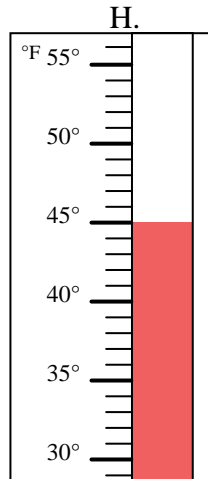
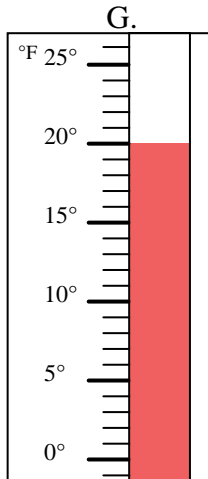
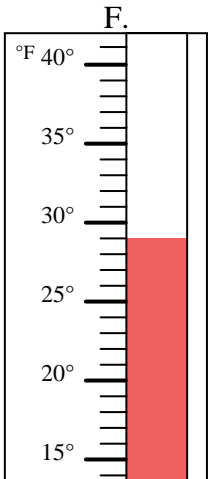
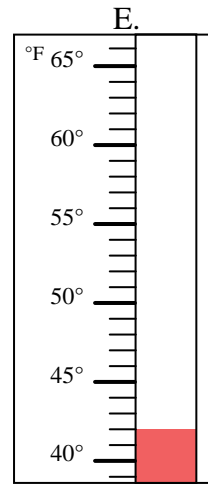
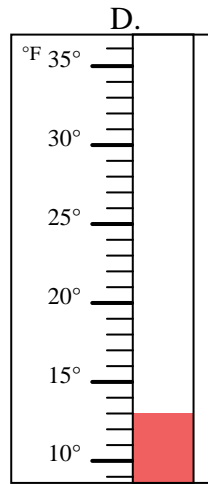
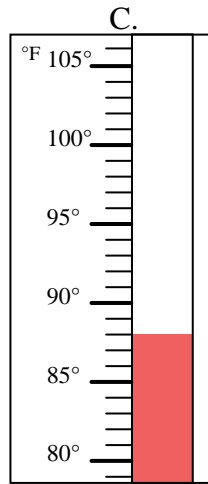
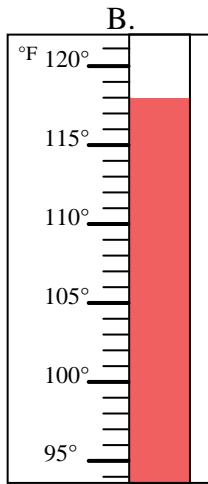
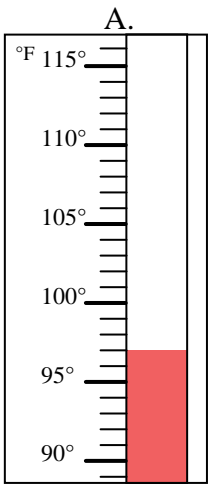


Determinar cuál letra responde mejor a cada pregunta.

Respuestas

- 1) ¿Qué termómetro representa mejor 20° de temperatura? _____
- 2) ¿Qué termómetro representa mejor 29° de temperatura? _____
- 3) ¿Qué termómetro representa mejor 13° de temperatura? _____
- 4) ¿Qué termómetro representa mejor 118° de temperatura? _____
- 5) ¿Qué termómetro representa mejor 99° de temperatura? _____
- 6) ¿Qué termómetro representa mejor 42° de temperatura? _____
- 7) ¿Qué termómetro representa mejor 45° de temperatura? _____
- 8) ¿Qué termómetro representa mejor 97° de temperatura? _____
- 9) ¿Qué termómetro representa mejor 88° de temperatura? _____
- 10) ¿Qué termómetro representa mejor 88° de temperatura? _____

1. _____
2. _____
3. _____
4. _____
5. _____
6. _____
7. _____
8. _____
9. _____
10. _____



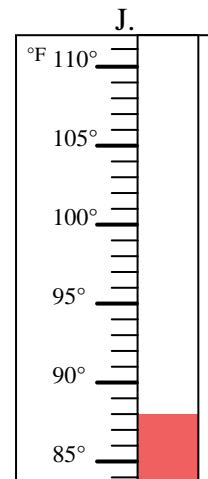
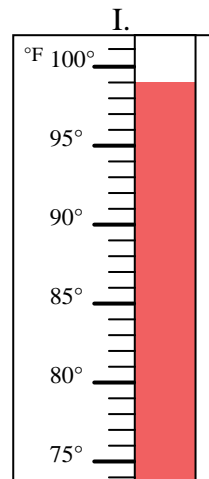
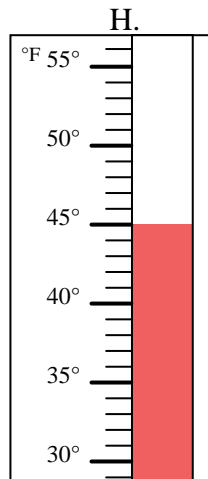
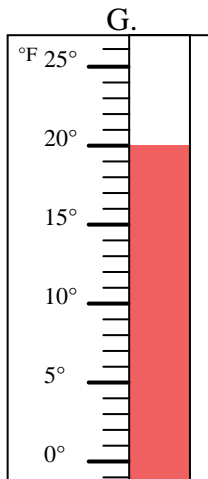
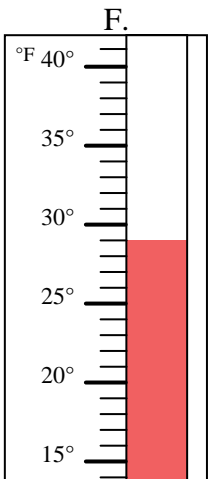
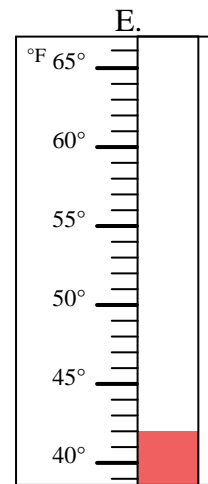
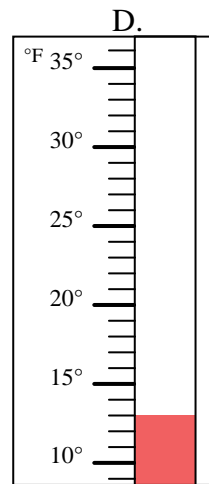
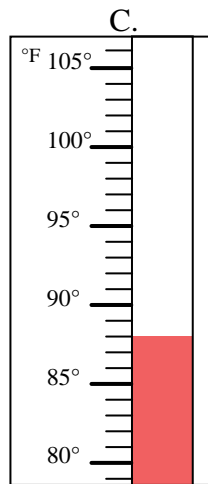
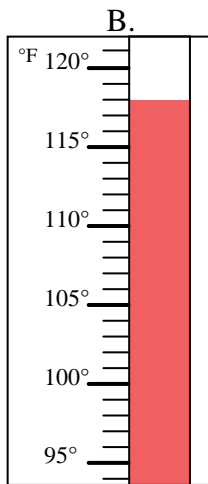
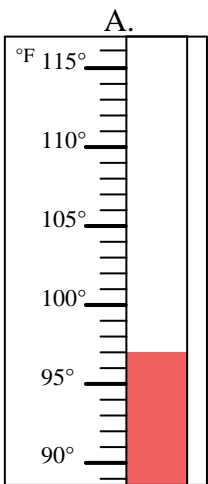


Determinar cuál letra responde mejor a cada pregunta.

- 1) ¿Qué termómetro representa mejor 20° de temperatura? G
- 2) ¿Qué termómetro representa mejor 29° de temperatura? F
- 3) ¿Qué termómetro representa mejor 13° de temperatura? D
- 4) ¿Qué termómetro representa mejor 118° de temperatura? B
- 5) ¿Qué termómetro representa mejor 99° de temperatura? I
- 6) ¿Qué termómetro representa mejor 42° de temperatura? E
- 7) ¿Qué termómetro representa mejor 45° de temperatura? H
- 8) ¿Qué termómetro representa mejor 97° de temperatura? A
- 9) ¿Qué termómetro representa mejor 88° de temperatura? J
- 10) ¿Qué termómetro representa mejor 88° de temperatura? C

Respuestas

1. G
2. F
3. D
4. B
5. I
6. E
7. H
8. A
9. J
10. C



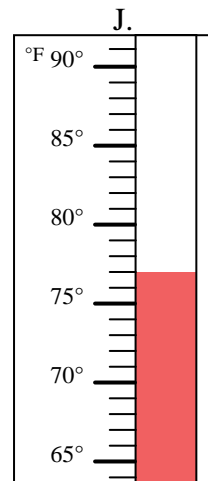
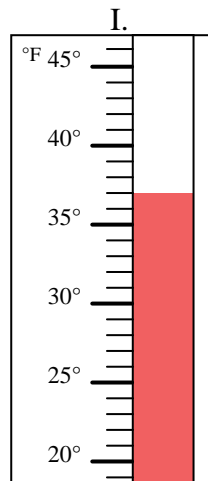
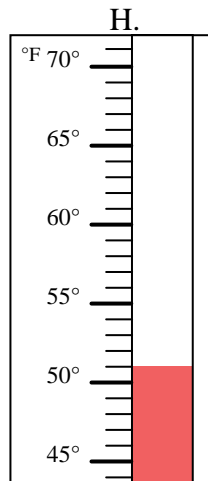
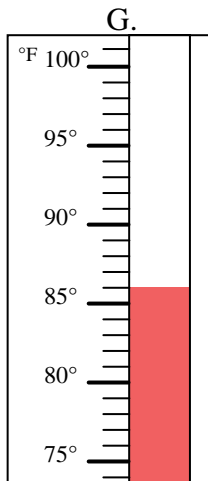
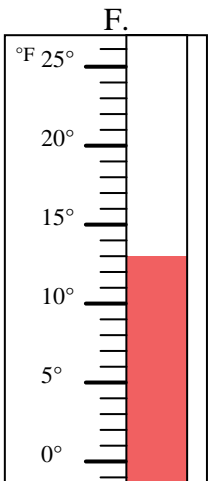
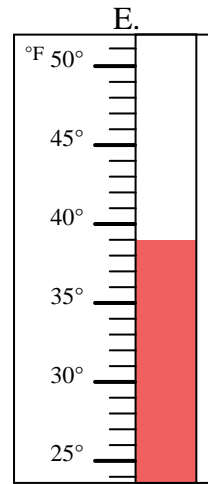
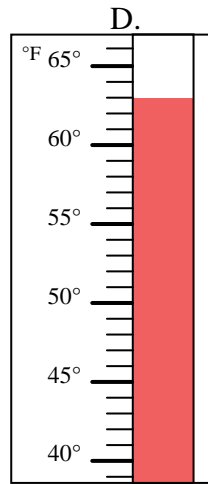
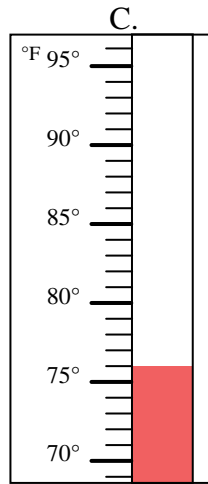
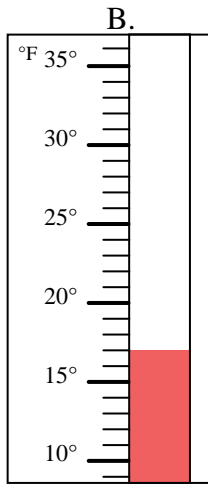
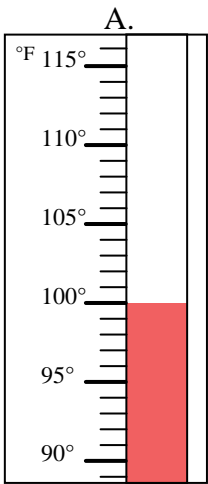


Determinar cuál letra responde mejor a cada pregunta.

Respuestas

- 1) ¿Qué termómetro representa mejor 39° de temperatura? _____
- 2) ¿Qué termómetro representa mejor 17° de temperatura? _____
- 3) ¿Qué termómetro representa mejor 51° de temperatura? _____
- 4) ¿Qué termómetro representa mejor 100° de temperatura? _____
- 5) ¿Qué termómetro representa mejor 37° de temperatura? _____
- 6) ¿Qué termómetro representa mejor 77° de temperatura? _____
- 7) ¿Qué termómetro representa mejor 76° de temperatura? _____
- 8) ¿Qué termómetro representa mejor 63° de temperatura? _____
- 9) ¿Qué termómetro representa mejor 86° de temperatura? _____
- 10) ¿Qué termómetro representa mejor 13° de temperatura? _____

1. _____
2. _____
3. _____
4. _____
5. _____
6. _____
7. _____
8. _____
9. _____
10. _____



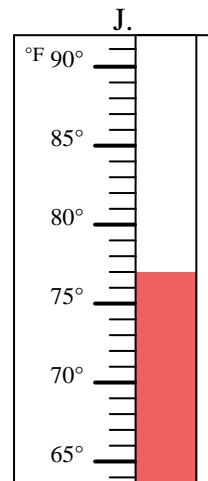
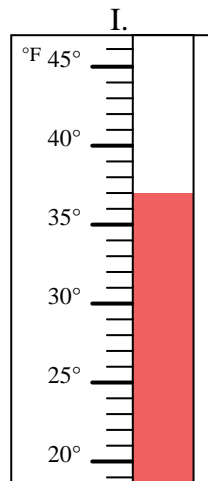
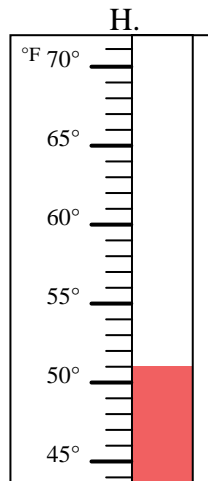
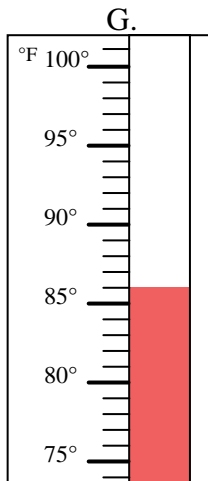
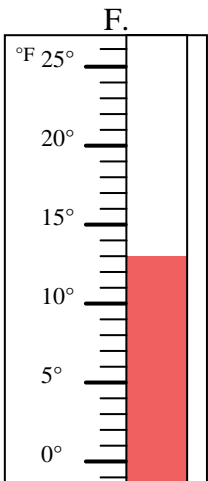
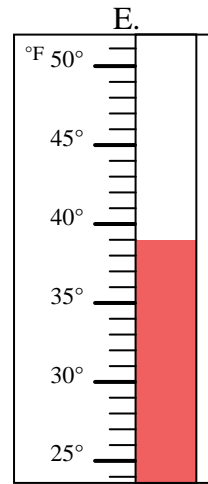
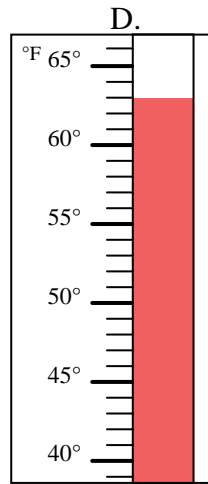
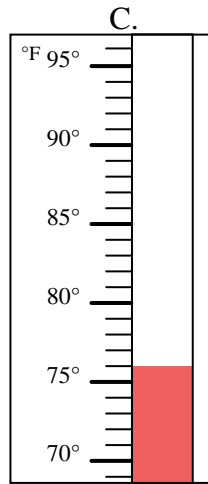
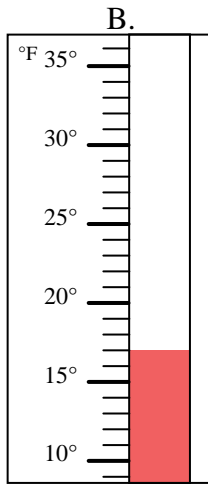
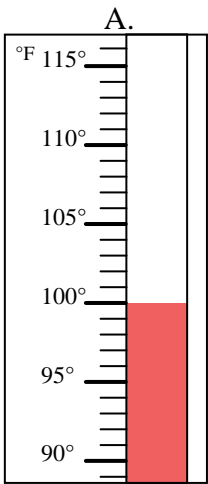


Determinar cuál letra responde mejor a cada pregunta.

- 1) ¿Qué termómetro representa mejor 39° de temperatura? E
- 2) ¿Qué termómetro representa mejor 17° de temperatura? B
- 3) ¿Qué termómetro representa mejor 51° de temperatura? H
- 4) ¿Qué termómetro representa mejor 100° de temperatura? A
- 5) ¿Qué termómetro representa mejor 37° de temperatura? I
- 6) ¿Qué termómetro representa mejor 77° de temperatura? J
- 7) ¿Qué termómetro representa mejor 76° de temperatura? C
- 8) ¿Qué termómetro representa mejor 63° de temperatura? D
- 9) ¿Qué termómetro representa mejor 86° de temperatura? G
- 10) ¿Qué termómetro representa mejor 13° de temperatura? F

Respuestas

1. E
2. B
3. H
4. A
5. I
6. J
7. C
8. D
9. G
10. F



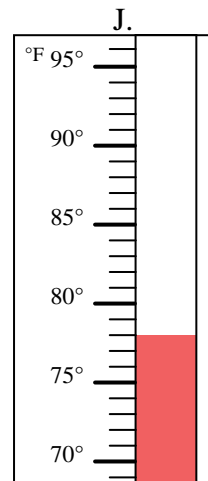
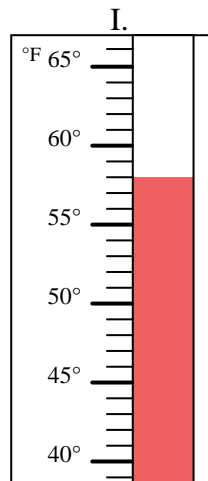
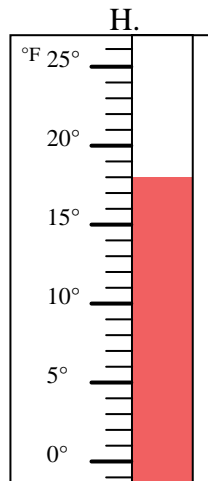
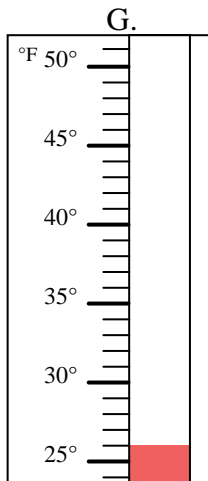
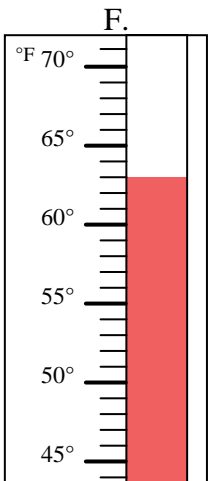
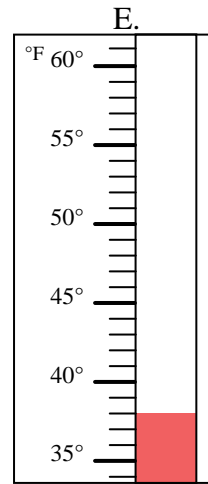
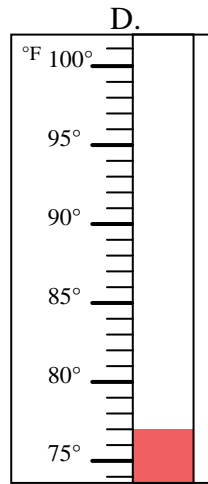
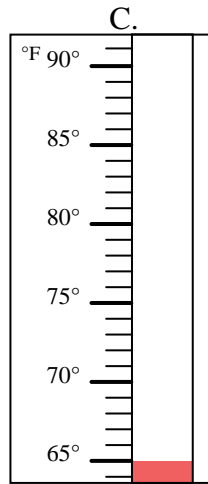
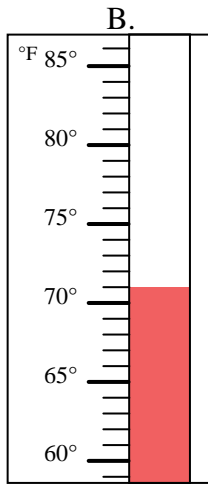
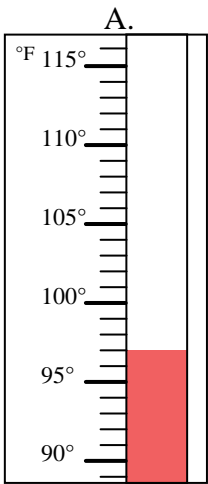


Determinar cuál letra responde mejor a cada pregunta.

Respuestas

- 1) ¿Qué termómetro representa mejor 58° de temperatura? _____
- 2) ¿Qué termómetro representa mejor 65° de temperatura? _____
- 3) ¿Qué termómetro representa mejor 18° de temperatura? _____
- 4) ¿Qué termómetro representa mejor 26° de temperatura? _____
- 5) ¿Qué termómetro representa mejor 78° de temperatura? _____
- 6) ¿Qué termómetro representa mejor 77° de temperatura? _____
- 7) ¿Qué termómetro representa mejor 97° de temperatura? _____
- 8) ¿Qué termómetro representa mejor 63° de temperatura? _____
- 9) ¿Qué termómetro representa mejor 71° de temperatura? _____
- 10) ¿Qué termómetro representa mejor 38° de temperatura? _____

1. _____
2. _____
3. _____
4. _____
5. _____
6. _____
7. _____
8. _____
9. _____
10. _____



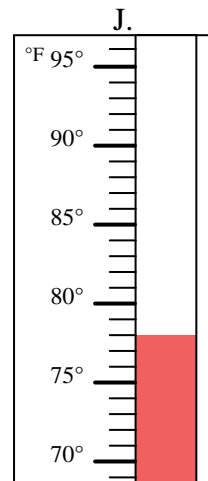
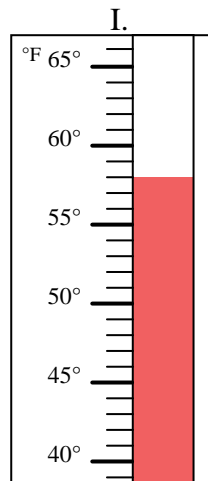
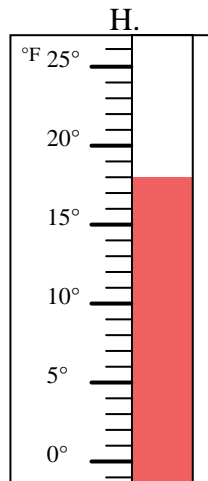
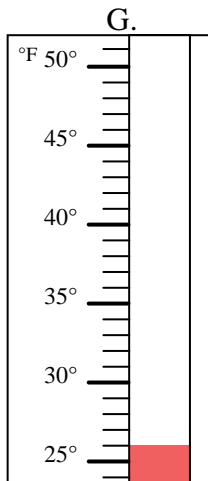
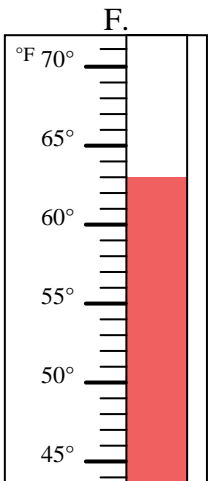
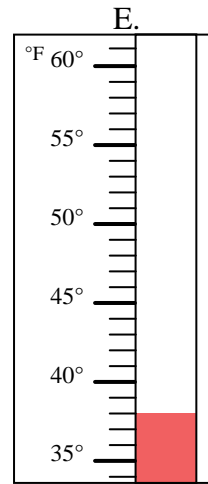
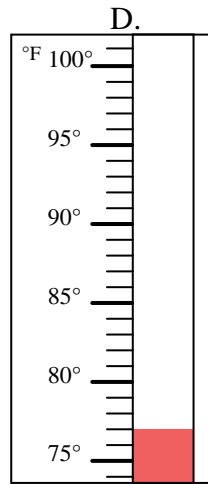
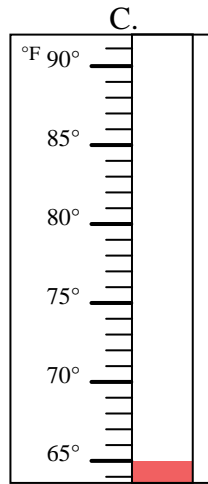
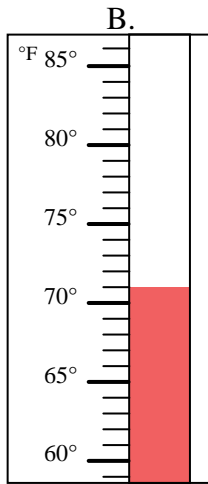
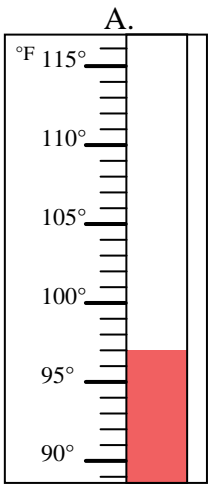


Determinar cuál letra responde mejor a cada pregunta.

- 1) ¿Qué termómetro representa mejor 58° de temperatura? I
- 2) ¿Qué termómetro representa mejor 65° de temperatura? C
- 3) ¿Qué termómetro representa mejor 18° de temperatura? H
- 4) ¿Qué termómetro representa mejor 26° de temperatura? G
- 5) ¿Qué termómetro representa mejor 78° de temperatura? J
- 6) ¿Qué termómetro representa mejor 77° de temperatura? D
- 7) ¿Qué termómetro representa mejor 97° de temperatura? A
- 8) ¿Qué termómetro representa mejor 63° de temperatura? F
- 9) ¿Qué termómetro representa mejor 71° de temperatura? B
- 10) ¿Qué termómetro representa mejor 38° de temperatura? E

Respuestas

1. I
2. C
3. H
4. G
5. J
6. D
7. A
8. F
9. B
10. E



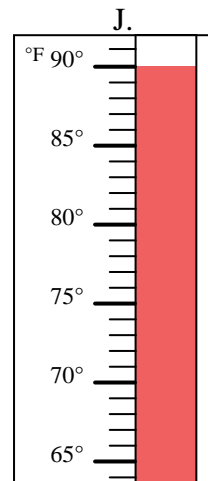
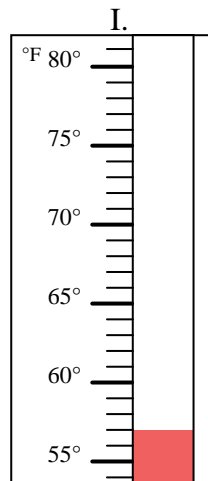
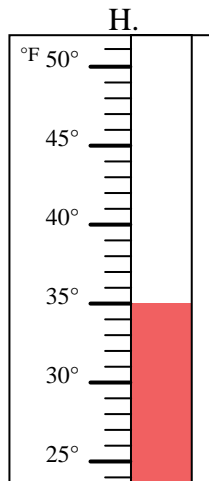
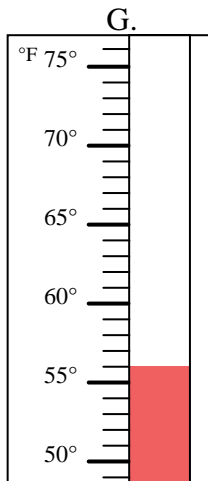
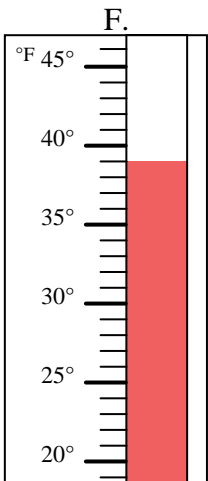
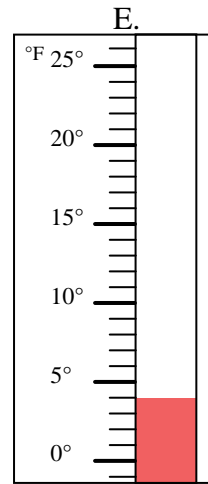
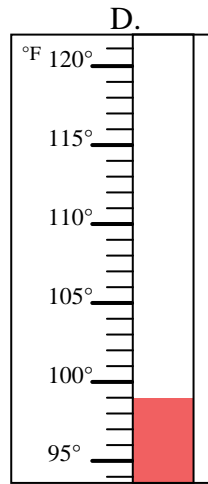
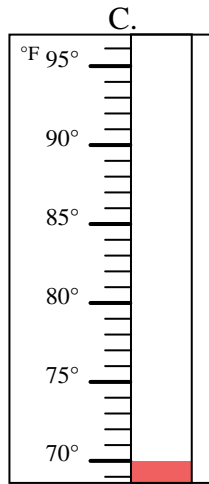
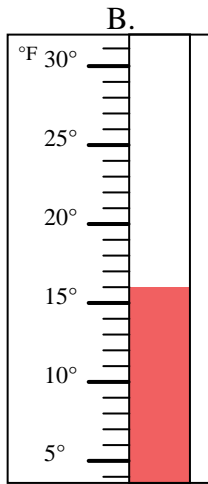
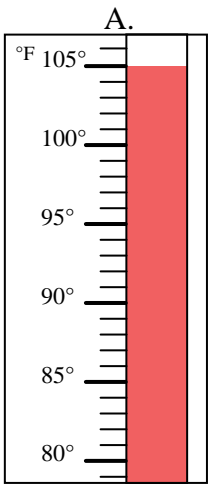


Determinar cuál letra responde mejor a cada pregunta.

Respuestas

- 1) ¿Qué termómetro representa mejor 4° de temperatura? _____
- 2) ¿Qué termómetro representa mejor 99° de temperatura? _____
- 3) ¿Qué termómetro representa mejor 105° de temperatura? _____
- 4) ¿Qué termómetro representa mejor 90° de temperatura? _____
- 5) ¿Qué termómetro representa mejor 16° de temperatura? _____
- 6) ¿Qué termómetro representa mejor 35° de temperatura? _____
- 7) ¿Qué termómetro representa mejor 57° de temperatura? _____
- 8) ¿Qué termómetro representa mejor 56° de temperatura? _____
- 9) ¿Qué termómetro representa mejor 39° de temperatura? _____
- 10) ¿Qué termómetro representa mejor 70° de temperatura? _____

1. _____
2. _____
3. _____
4. _____
5. _____
6. _____
7. _____
8. _____
9. _____
10. _____



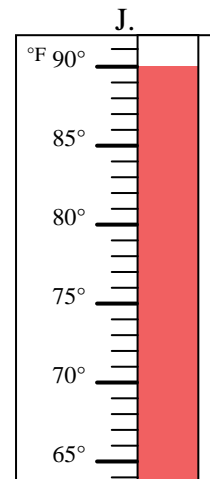
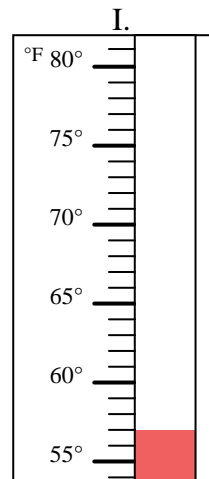
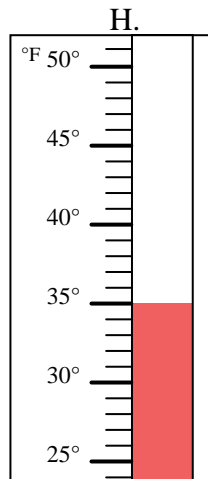
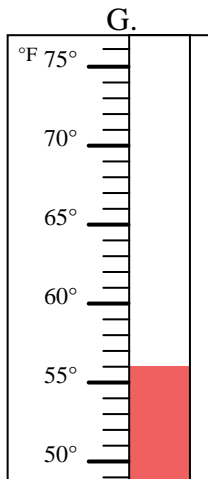
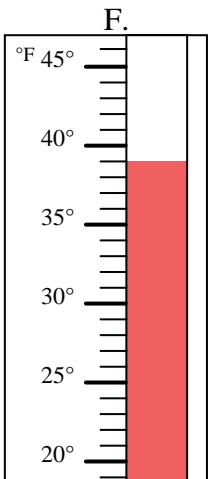
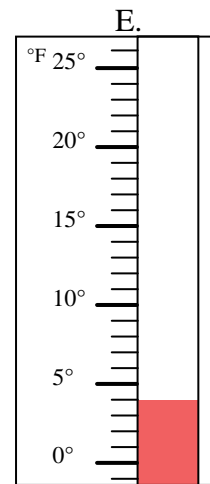
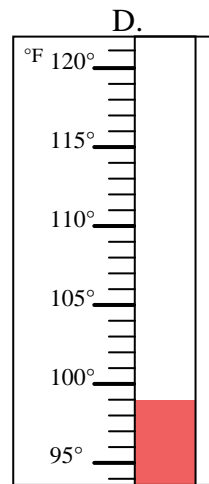
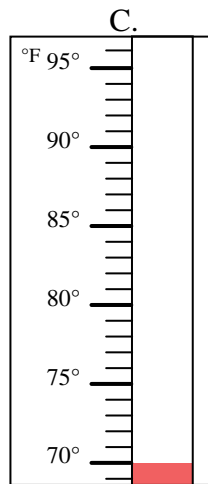
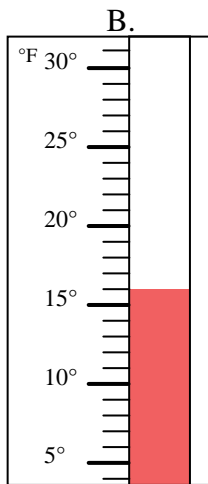
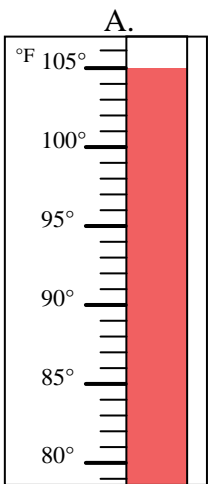


Determinar cuál letra responde mejor a cada pregunta.

- 1) ¿Qué termómetro representa mejor 4° de temperatura? E
- 2) ¿Qué termómetro representa mejor 99° de temperatura? D
- 3) ¿Qué termómetro representa mejor 105° de temperatura? A
- 4) ¿Qué termómetro representa mejor 90° de temperatura? J
- 5) ¿Qué termómetro representa mejor 16° de temperatura? B
- 6) ¿Qué termómetro representa mejor 35° de temperatura? H
- 7) ¿Qué termómetro representa mejor 57° de temperatura? I
- 8) ¿Qué termómetro representa mejor 56° de temperatura? G
- 9) ¿Qué termómetro representa mejor 39° de temperatura? F
- 10) ¿Qué termómetro representa mejor 70° de temperatura? C

Respuestas

1. E
2. D
3. A
4. J
5. B
6. H
7. I
8. G
9. F
10. C



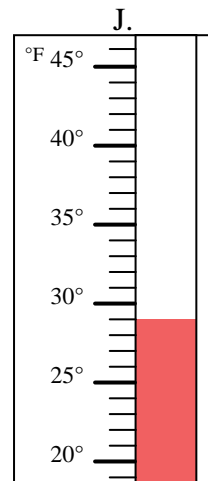
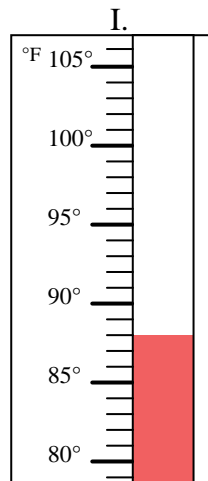
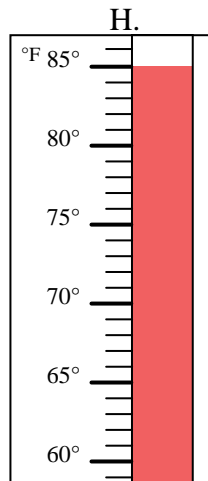
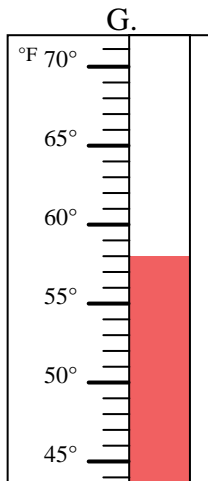
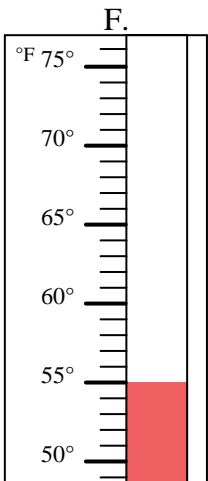
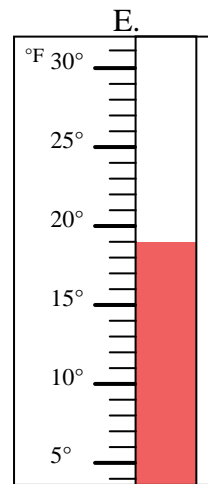
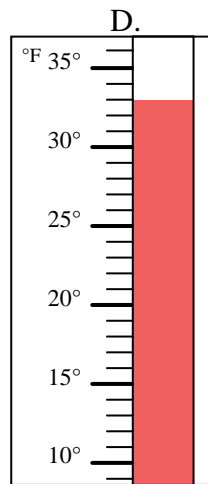
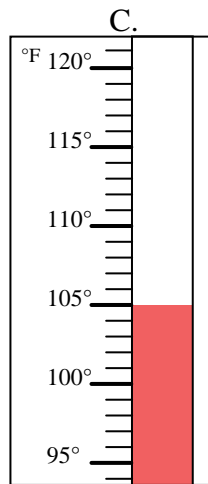
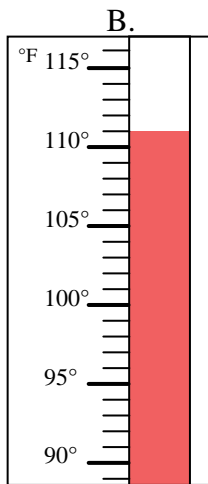
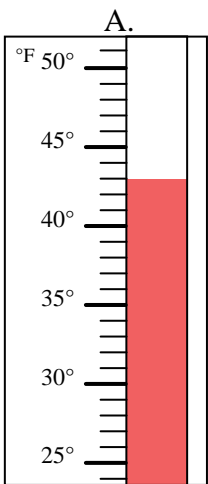


Determinar cuál letra responde mejor a cada pregunta.

Respuestas

- 1) ¿Qué termómetro representa mejor 55° de temperatura? _____
- 2) ¿Qué termómetro representa mejor 88° de temperatura? _____
- 3) ¿Qué termómetro representa mejor 43° de temperatura? _____
- 4) ¿Qué termómetro representa mejor 29° de temperatura? _____
- 5) ¿Qué termómetro representa mejor 33° de temperatura? _____
- 6) ¿Qué termómetro representa mejor 19° de temperatura? _____
- 7) ¿Qué termómetro representa mejor 111° de temperatura? _____
- 8) ¿Qué termómetro representa mejor 58° de temperatura? _____
- 9) ¿Qué termómetro representa mejor 105° de temperatura? _____
- 10) ¿Qué termómetro representa mejor 85° de temperatura? _____

1. _____
2. _____
3. _____
4. _____
5. _____
6. _____
7. _____
8. _____
9. _____
10. _____



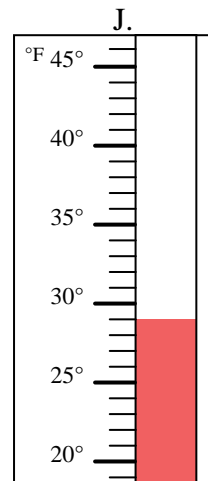
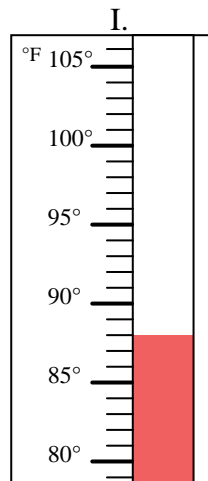
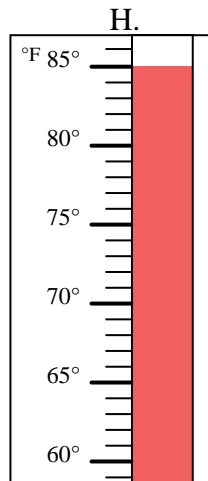
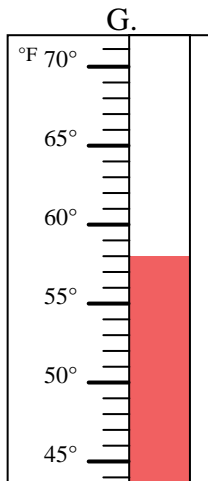
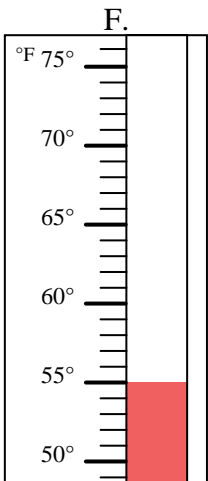
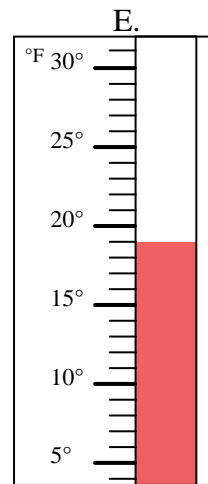
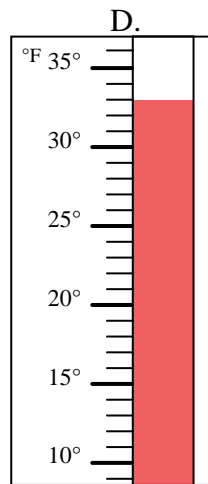
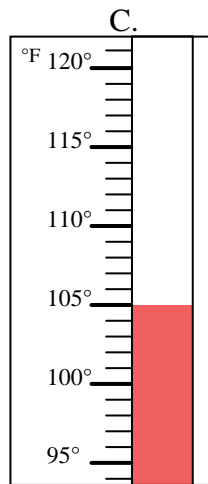
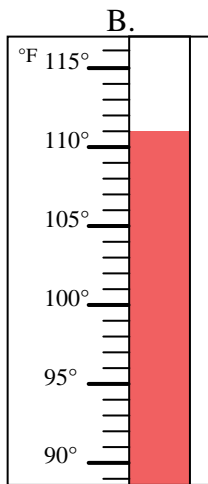
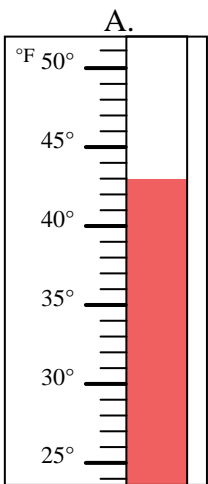


Determinar cuál letra responde mejor a cada pregunta.

Respuestas

- 1) ¿Qué termómetro representa mejor 55° de temperatura? **F**
- 2) ¿Qué termómetro representa mejor 88° de temperatura? **I**
- 3) ¿Qué termómetro representa mejor 43° de temperatura? **A**
- 4) ¿Qué termómetro representa mejor 29° de temperatura? **J**
- 5) ¿Qué termómetro representa mejor 33° de temperatura? **D**
- 6) ¿Qué termómetro representa mejor 19° de temperatura? **E**
- 7) ¿Qué termómetro representa mejor 111° de temperatura? **B**
- 8) ¿Qué termómetro representa mejor 58° de temperatura? **G**
- 9) ¿Qué termómetro representa mejor 105° de temperatura? **C**
- 10) ¿Qué termómetro representa mejor 85° de temperatura? **H**

- 1. **F**
- 2. **I**
- 3. **A**
- 4. **J**
- 5. **D**
- 6. **E**
- 7. **B**
- 8. **G**
- 9. **C**
- 10. **H**



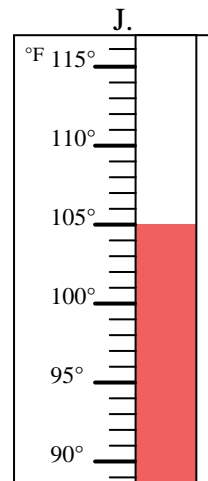
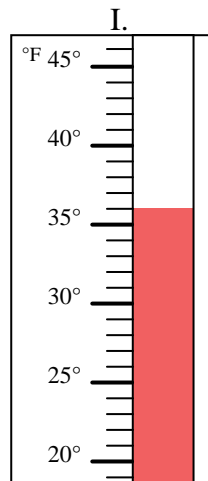
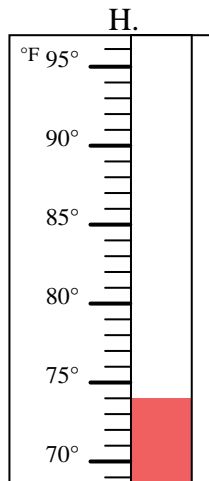
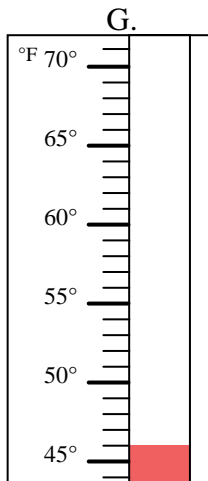
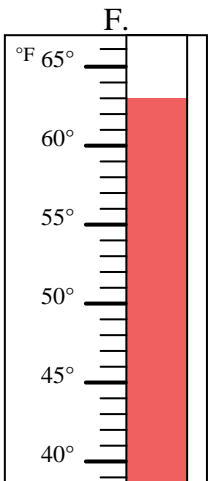
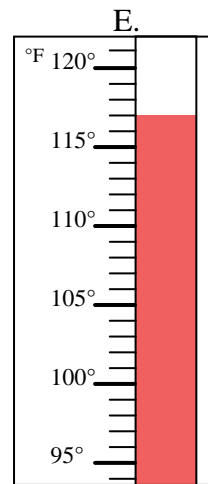
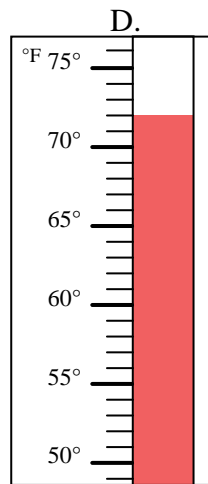
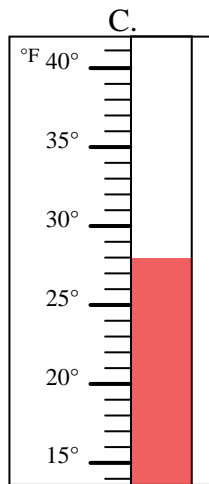
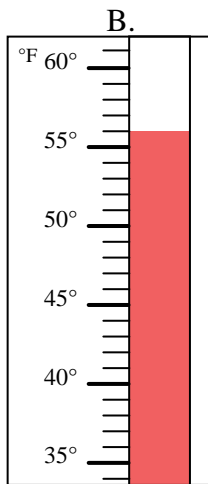
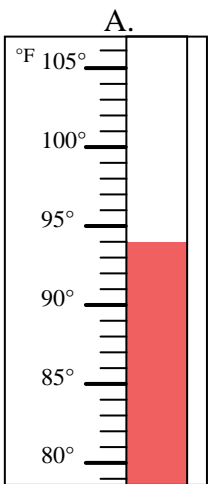


Determinar cuál letra responde mejor a cada pregunta.

Respuestas

- 1) ¿Qué termómetro representa mejor 72° de temperatura? _____
- 2) ¿Qué termómetro representa mejor 105° de temperatura? _____
- 3) ¿Qué termómetro representa mejor 46° de temperatura? _____
- 4) ¿Qué termómetro representa mejor 63° de temperatura? _____
- 5) ¿Qué termómetro representa mejor 56° de temperatura? _____
- 6) ¿Qué termómetro representa mejor 36° de temperatura? _____
- 7) ¿Qué termómetro representa mejor 117° de temperatura? _____
- 8) ¿Qué termómetro representa mejor 94° de temperatura? _____
- 9) ¿Qué termómetro representa mejor 74° de temperatura? _____
- 10) ¿Qué termómetro representa mejor 28° de temperatura? _____

1. _____
2. _____
3. _____
4. _____
5. _____
6. _____
7. _____
8. _____
9. _____
10. _____



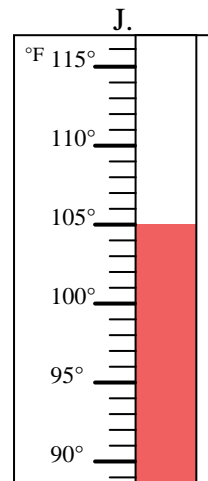
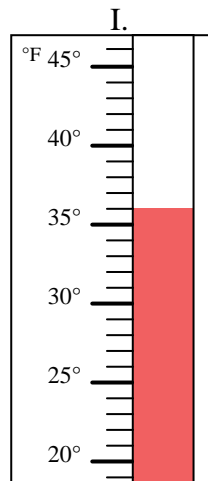
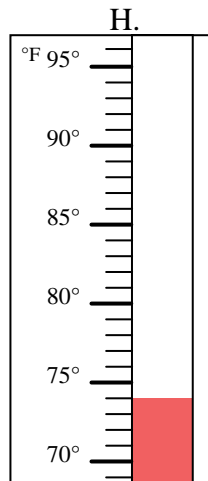
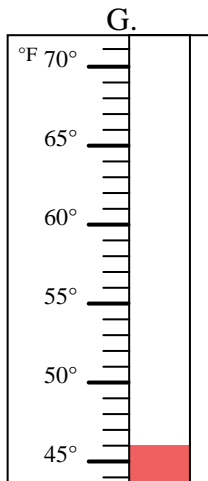
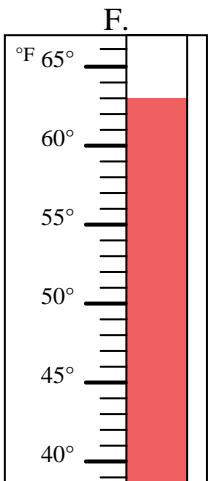
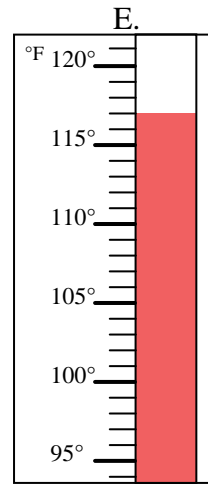
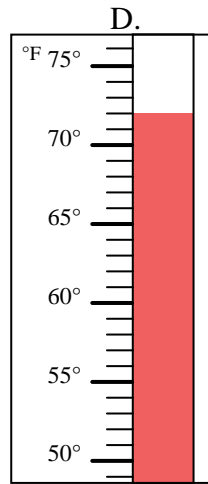
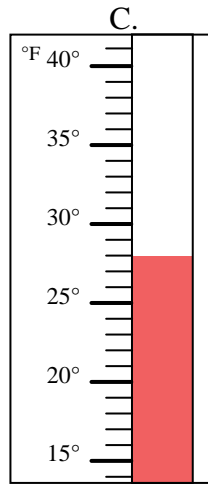
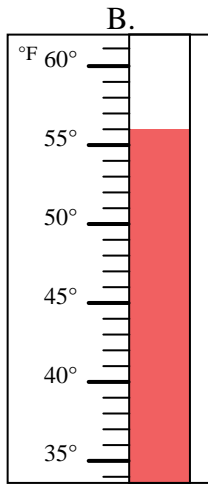
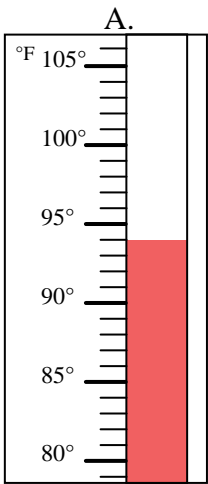


Determinar cuál letra responde mejor a cada pregunta.

- 1) ¿Qué termómetro representa mejor 72° de temperatura? D
- 2) ¿Qué termómetro representa mejor 105° de temperatura? J
- 3) ¿Qué termómetro representa mejor 46° de temperatura? G
- 4) ¿Qué termómetro representa mejor 63° de temperatura? F
- 5) ¿Qué termómetro representa mejor 56° de temperatura? B
- 6) ¿Qué termómetro representa mejor 36° de temperatura? I
- 7) ¿Qué termómetro representa mejor 117° de temperatura? E
- 8) ¿Qué termómetro representa mejor 94° de temperatura? A
- 9) ¿Qué termómetro representa mejor 74° de temperatura? H
- 10) ¿Qué termómetro representa mejor 28° de temperatura? C

Respuestas

1. D
2. J
3. G
4. F
5. B
6. I
7. E
8. A
9. H
10. C



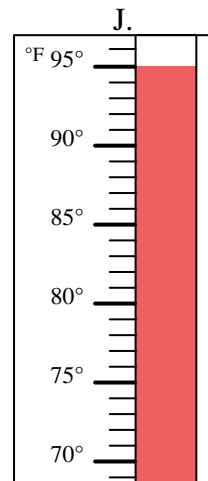
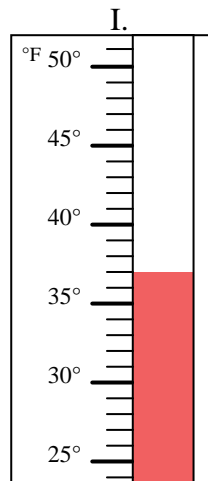
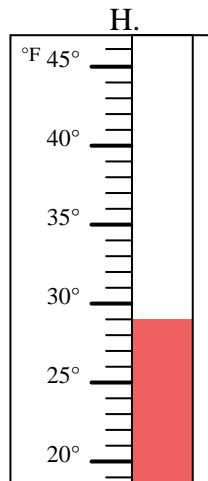
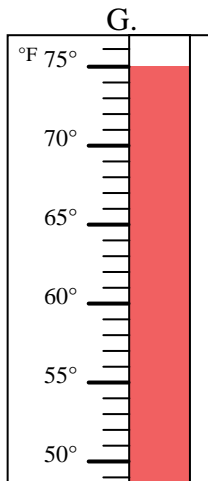
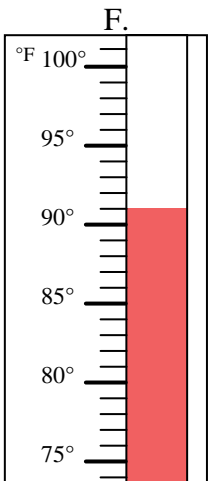
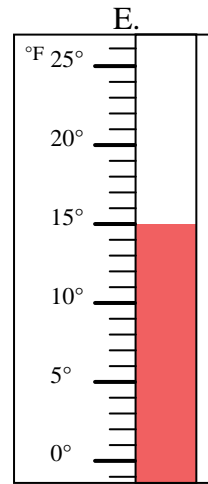
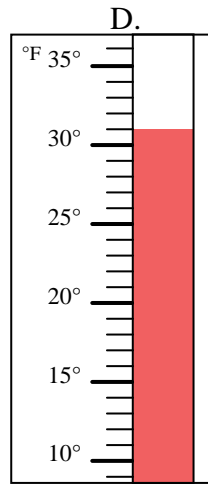
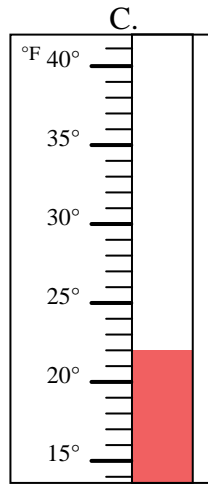
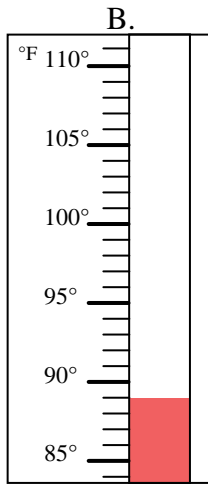
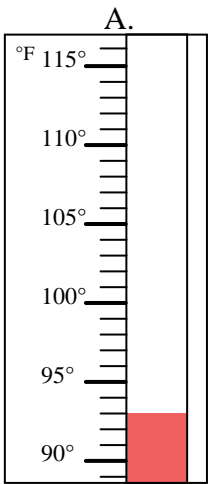


Determinar cuál letra responde mejor a cada pregunta.

Respuestas

- 1) ¿Qué termómetro representa mejor 37° de temperatura? _____
- 2) ¿Qué termómetro representa mejor 29° de temperatura? _____
- 3) ¿Qué termómetro representa mejor 22° de temperatura? _____
- 4) ¿Qué termómetro representa mejor 89° de temperatura? _____
- 5) ¿Qué termómetro representa mejor 91° de temperatura? _____
- 6) ¿Qué termómetro representa mejor 93° de temperatura? _____
- 7) ¿Qué termómetro representa mejor 31° de temperatura? _____
- 8) ¿Qué termómetro representa mejor 75° de temperatura? _____
- 9) ¿Qué termómetro representa mejor 15° de temperatura? _____
- 10) ¿Qué termómetro representa mejor 95° de temperatura? _____

1. _____
2. _____
3. _____
4. _____
5. _____
6. _____
7. _____
8. _____
9. _____
10. _____



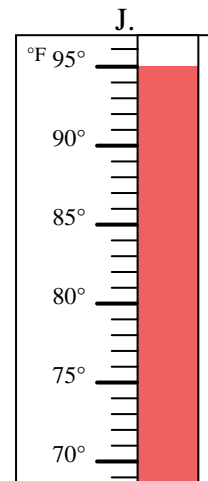
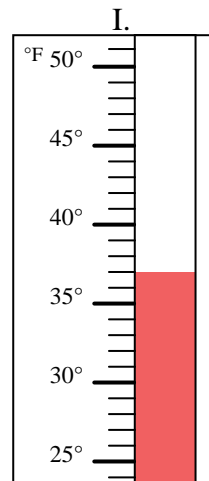
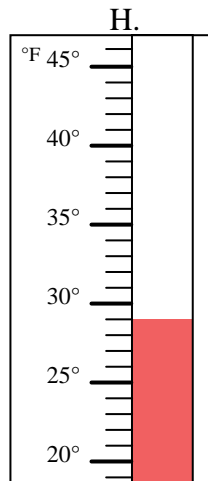
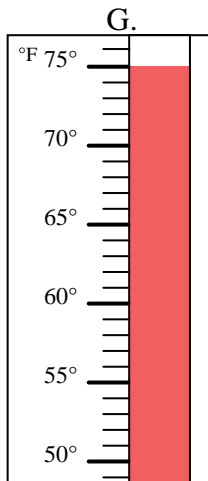
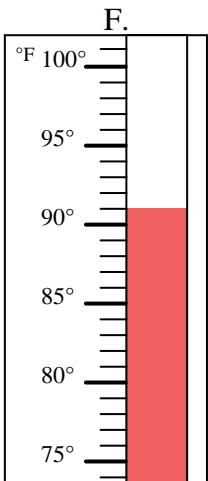
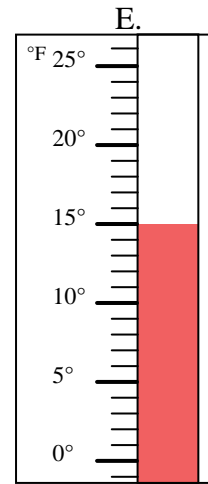
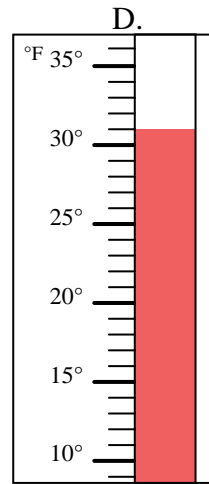
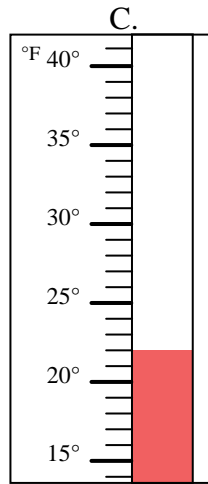
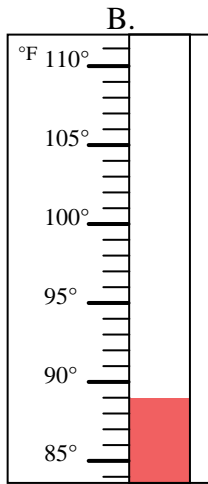
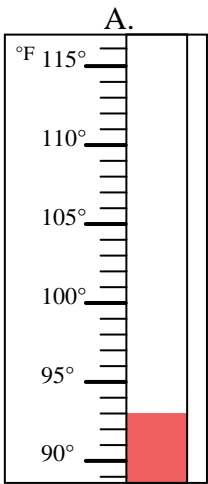


Determinar cuál letra responde mejor a cada pregunta.

- 1) ¿Qué termómetro representa mejor 37° de temperatura? **I**
- 2) ¿Qué termómetro representa mejor 29° de temperatura? **H**
- 3) ¿Qué termómetro representa mejor 22° de temperatura? **C**
- 4) ¿Qué termómetro representa mejor 89° de temperatura? **B**
- 5) ¿Qué termómetro representa mejor 91° de temperatura? **F**
- 6) ¿Qué termómetro representa mejor 93° de temperatura? **A**
- 7) ¿Qué termómetro representa mejor 31° de temperatura? **D**
- 8) ¿Qué termómetro representa mejor 75° de temperatura? **G**
- 9) ¿Qué termómetro representa mejor 15° de temperatura? **E**
- 10) ¿Qué termómetro representa mejor 95° de temperatura? **J**

Respuestas

1. **I**
2. **H**
3. **C**
4. **B**
5. **F**
6. **A**
7. **D**
8. **G**
9. **E**
10. **J**



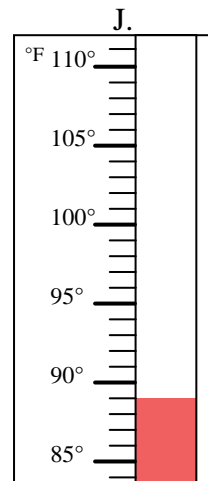
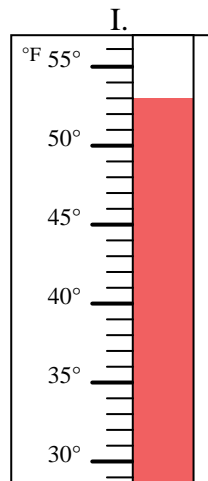
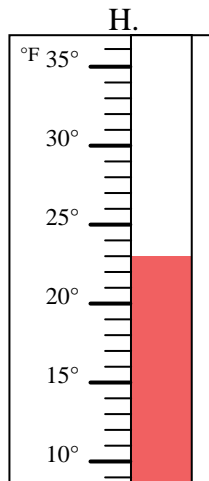
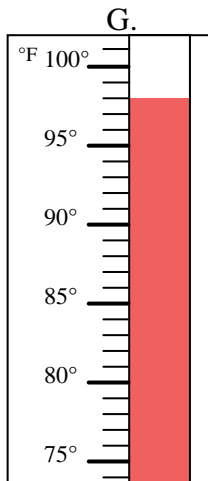
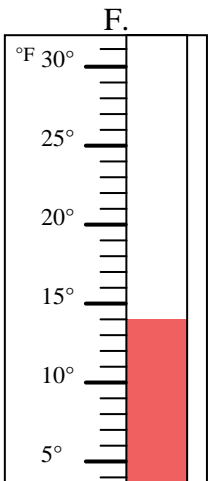
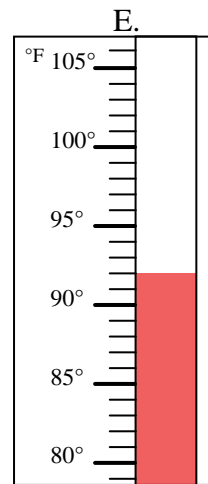
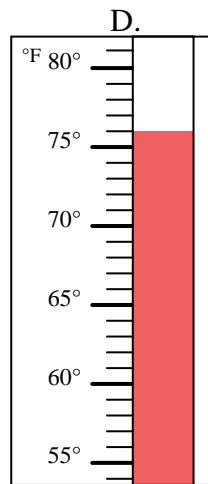
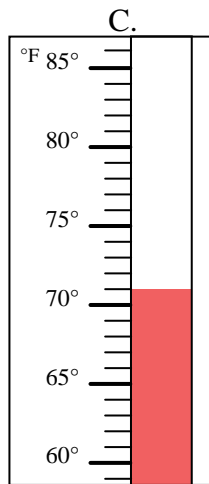
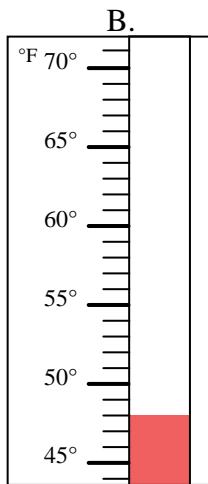
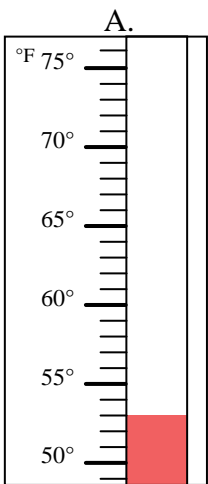


Determinar cuál letra responde mejor a cada pregunta.

Respuestas

- 1) ¿Qué termómetro representa mejor 14° de temperatura? _____
- 2) ¿Qué termómetro representa mejor 89° de temperatura? _____
- 3) ¿Qué termómetro representa mejor 76° de temperatura? _____
- 4) ¿Qué termómetro representa mejor 53° de temperatura? _____
- 5) ¿Qué termómetro representa mejor 71° de temperatura? _____
- 6) ¿Qué termómetro representa mejor 53° de temperatura? _____
- 7) ¿Qué termómetro representa mejor 92° de temperatura? _____
- 8) ¿Qué termómetro representa mejor 98° de temperatura? _____
- 9) ¿Qué termómetro representa mejor 48° de temperatura? _____
- 10) ¿Qué termómetro representa mejor 23° de temperatura? _____

1. _____
2. _____
3. _____
4. _____
5. _____
6. _____
7. _____
8. _____
9. _____
10. _____





Determinar cuál letra responde mejor a cada pregunta.

- 1) ¿Qué termómetro representa mejor 14° de temperatura? F
- 2) ¿Qué termómetro representa mejor 89° de temperatura? J
- 3) ¿Qué termómetro representa mejor 76° de temperatura? D
- 4) ¿Qué termómetro representa mejor 53° de temperatura? I
- 5) ¿Qué termómetro representa mejor 71° de temperatura? C
- 6) ¿Qué termómetro representa mejor 53° de temperatura? A
- 7) ¿Qué termómetro representa mejor 92° de temperatura? E
- 8) ¿Qué termómetro representa mejor 98° de temperatura? G
- 9) ¿Qué termómetro representa mejor 48° de temperatura? B
- 10) ¿Qué termómetro representa mejor 23° de temperatura? H

Respuestas

1. F
2. J
3. D
4. I
5. C
6. A
7. E
8. G
9. B
10. H

