

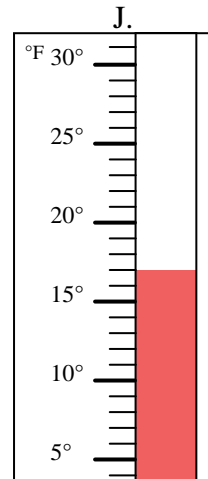
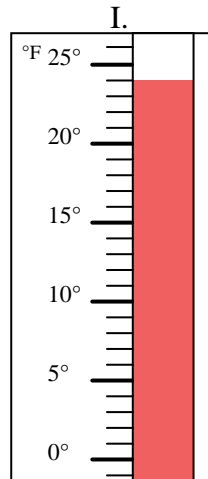
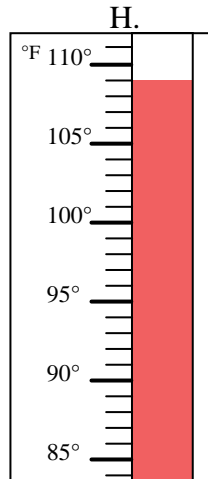
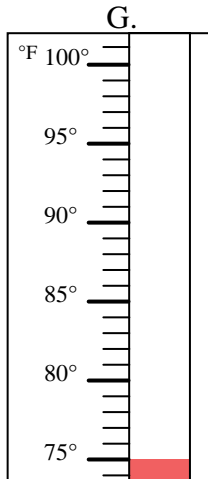
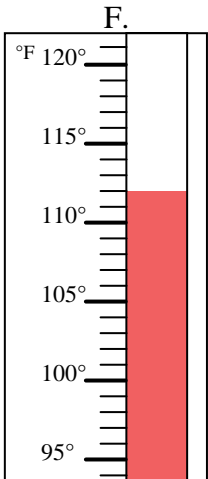
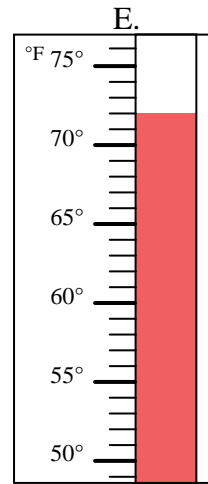
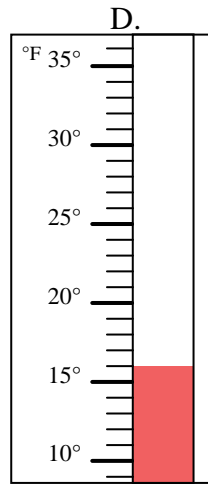
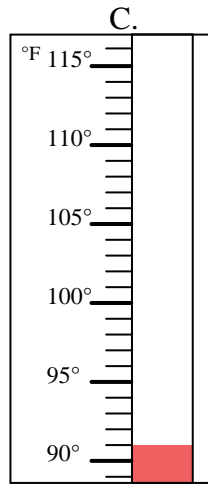
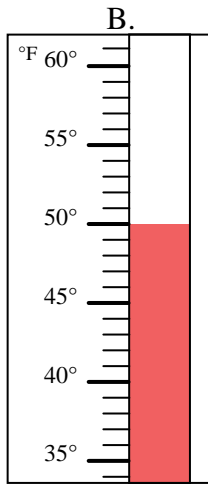
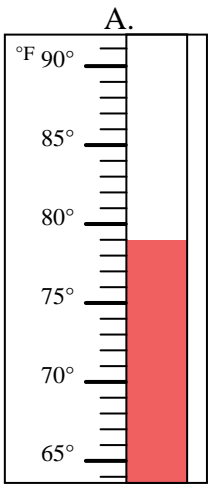


Determinar cuál letra responde mejor a cada pregunta.

**Respuestas**

- 1) ¿Qué termómetro representa mejor 16° de temperatura? \_\_\_\_\_
- 2) ¿Qué termómetro representa mejor 112° de temperatura? \_\_\_\_\_
- 3) ¿Qué termómetro representa mejor 24° de temperatura? \_\_\_\_\_
- 4) ¿Qué termómetro representa mejor 79° de temperatura? \_\_\_\_\_
- 5) ¿Qué termómetro representa mejor 50° de temperatura? \_\_\_\_\_
- 6) ¿Qué termómetro representa mejor 109° de temperatura? \_\_\_\_\_
- 7) ¿Qué termómetro representa mejor 91° de temperatura? \_\_\_\_\_
- 8) ¿Qué termómetro representa mejor 75° de temperatura? \_\_\_\_\_
- 9) ¿Qué termómetro representa mejor 72° de temperatura? \_\_\_\_\_
- 10) ¿Qué termómetro representa mejor 17° de temperatura? \_\_\_\_\_

1. \_\_\_\_\_
2. \_\_\_\_\_
3. \_\_\_\_\_
4. \_\_\_\_\_
5. \_\_\_\_\_
6. \_\_\_\_\_
7. \_\_\_\_\_
8. \_\_\_\_\_
9. \_\_\_\_\_
10. \_\_\_\_\_





Determinar cuál letra responde mejor a cada pregunta.

- 1) ¿Qué termómetro representa mejor 16° de temperatura?  D
- 2) ¿Qué termómetro representa mejor 112° de temperatura?  F
- 3) ¿Qué termómetro representa mejor 24° de temperatura?  I
- 4) ¿Qué termómetro representa mejor 79° de temperatura?  A
- 5) ¿Qué termómetro representa mejor 50° de temperatura?  B
- 6) ¿Qué termómetro representa mejor 109° de temperatura?  H
- 7) ¿Qué termómetro representa mejor 91° de temperatura?  C
- 8) ¿Qué termómetro representa mejor 75° de temperatura?  G
- 9) ¿Qué termómetro representa mejor 72° de temperatura?  E
- 10) ¿Qué termómetro representa mejor 17° de temperatura?  J

**Respuestas**

1.  D
2.  F
3.  I
4.  A
5.  B
6.  H
7.  C
8.  G
9.  E
10.  J

