

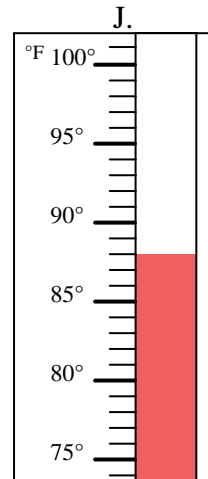
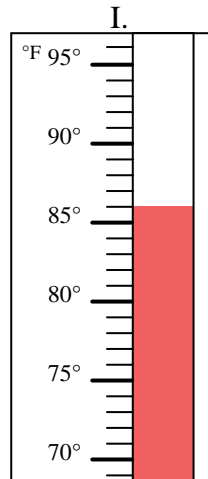
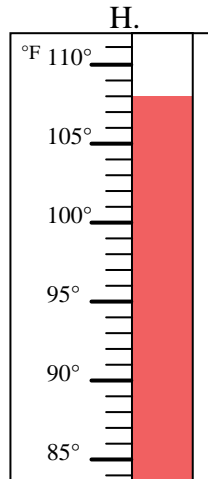
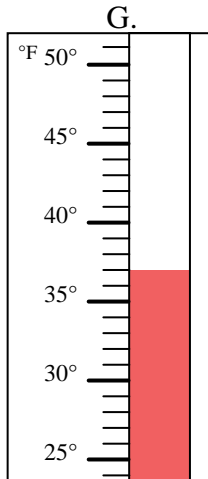
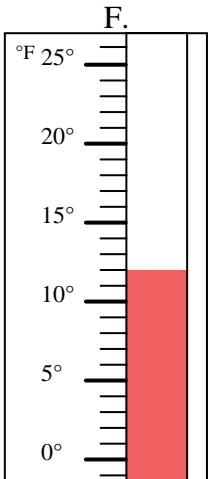
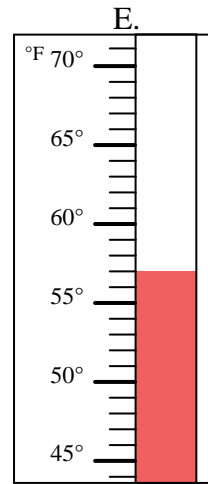
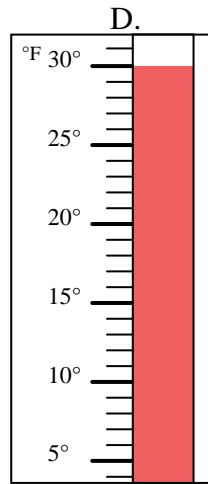
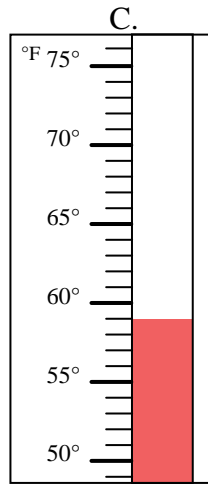
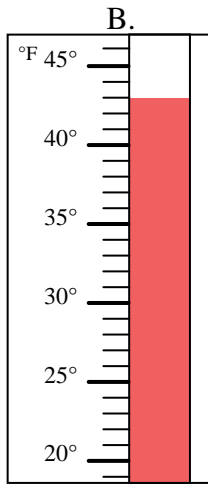
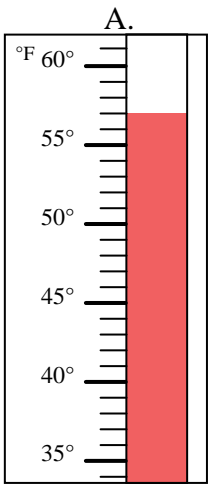


Determinar cuál letra responde mejor a cada pregunta.

Respuestas

- 1) ¿Qué termómetro representa mejor 86° de temperatura? _____
- 2) ¿Qué termómetro representa mejor 88° de temperatura? _____
- 3) ¿Qué termómetro representa mejor 43° de temperatura? _____
- 4) ¿Qué termómetro representa mejor 12° de temperatura? _____
- 5) ¿Qué termómetro representa mejor 30° de temperatura? _____
- 6) ¿Qué termómetro representa mejor 37° de temperatura? _____
- 7) ¿Qué termómetro representa mejor 57° de temperatura? _____
- 8) ¿Qué termómetro representa mejor 57° de temperatura? _____
- 9) ¿Qué termómetro representa mejor 108° de temperatura? _____
- 10) ¿Qué termómetro representa mejor 59° de temperatura? _____

1. _____
2. _____
3. _____
4. _____
5. _____
6. _____
7. _____
8. _____
9. _____
10. _____





Determinar cuál letra responde mejor a cada pregunta.

- 1) ¿Qué termómetro representa mejor 86° de temperatura? **I**
- 2) ¿Qué termómetro representa mejor 88° de temperatura? **J**
- 3) ¿Qué termómetro representa mejor 43° de temperatura? **B**
- 4) ¿Qué termómetro representa mejor 12° de temperatura? **F**
- 5) ¿Qué termómetro representa mejor 30° de temperatura? **D**
- 6) ¿Qué termómetro representa mejor 37° de temperatura? **G**
- 7) ¿Qué termómetro representa mejor 57° de temperatura? **E**
- 8) ¿Qué termómetro representa mejor 57° de temperatura? **A**
- 9) ¿Qué termómetro representa mejor 108° de temperatura? **H**
- 10) ¿Qué termómetro representa mejor 59° de temperatura? **C**

Respuestas

1. **I**
2. **J**
3. **B**
4. **F**
5. **D**
6. **G**
7. **E**
8. **A**
9. **H**
10. **C**

