



Usar  $<$ ,  $>$  o  $=$  para comparar los números.

- 1) 34 \_\_\_ 74
- 2) 75 \_\_\_ 99
- 3) 24 \_\_\_ 39
- 4) 79 \_\_\_ 12
- 5) 17 \_\_\_ 19
- 6) 67 \_\_\_ 89
- 7) 25 \_\_\_ 52
- 8) 75 \_\_\_ 57
- 9) 76 \_\_\_ 67
- 10) 74 \_\_\_ 47
- 11) 82 \_\_\_ 28
- 12) 32 \_\_\_ 23
- 13) 72 \_\_\_ 27
- 14) 12 \_\_\_ 21
- 15) 51 \_\_\_ 54
- 16) 48 \_\_\_ 46
- 17) 66 \_\_\_ 65
- 18) 39 \_\_\_ 42
- 19) 26 \_\_\_ 25
- 20) 12 \_\_\_ 10

**Respuestas**

1. \_\_\_\_\_
2. \_\_\_\_\_
3. \_\_\_\_\_
4. \_\_\_\_\_
5. \_\_\_\_\_
6. \_\_\_\_\_
7. \_\_\_\_\_
8. \_\_\_\_\_
9. \_\_\_\_\_
10. \_\_\_\_\_
11. \_\_\_\_\_
12. \_\_\_\_\_
13. \_\_\_\_\_
14. \_\_\_\_\_
15. \_\_\_\_\_
16. \_\_\_\_\_
17. \_\_\_\_\_
18. \_\_\_\_\_
19. \_\_\_\_\_
20. \_\_\_\_\_

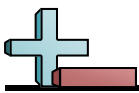


Usar <, > o = para comparar los números.

- 1) 34 < 74
- 2) 75 < 99
- 3) 24 < 39
- 4) 79 > 12
- 5) 17 < 19
- 6) 67 < 89
- 7) 25 < 52
- 8) 75 > 57
- 9) 76 > 67
- 10) 74 > 47
- 11) 82 > 28
- 12) 32 > 23
- 13) 72 > 27
- 14) 12 < 21
- 15) 51 < 54
- 16) 48 > 46
- 17) 66 > 65
- 18) 39 < 42
- 19) 26 > 25
- 20) 12 > 10


**Respuestas**

1. <
2. <
3. <
4. >
5. <
6. <
7. <
8. >
9. >
10. >
11. >
12. >
13. >
14. <
15. <
16. >
17. >
18. <
19. >
20. >




Usar <, > o = para comparar los números.

1) 34 \_\_\_\_\_ 74



2) 75 \_\_\_\_\_ 99



3) 24 \_\_\_\_\_ 39



4) 79 \_\_\_\_\_ 12




5) 17 \_\_\_\_\_ 19



6) 67 \_\_\_\_\_ 89



7) 25 \_\_\_\_\_ 52




8) 75 \_\_\_\_\_ 57



9) 76 \_\_\_\_\_ 67



10) 74 \_\_\_\_\_ 47



Respuestas

- 1. \_\_\_\_\_
- 2. \_\_\_\_\_
- 3. \_\_\_\_\_
- 4. \_\_\_\_\_
- 5. \_\_\_\_\_
- 6. \_\_\_\_\_
- 7. \_\_\_\_\_
- 8. \_\_\_\_\_
- 9. \_\_\_\_\_
- 10. \_\_\_\_\_