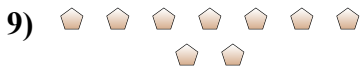
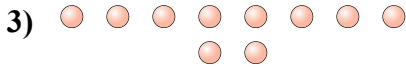




Determinar si el número de formas en la caja es par o impar.



Respuestas

1. _____
2. _____
3. _____
4. _____
5. _____
6. _____
7. _____
8. _____
9. _____
10. _____



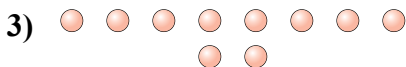
Determinar si el número de formas en la caja es par o impar.



6



20



10



19



8



17



14



6



9



14

Respuestas

1. Par

2. Par

3. Par

4. Impar

5. Par

6. Impar

7. Par

8. Par

9. Impar

10. Par