


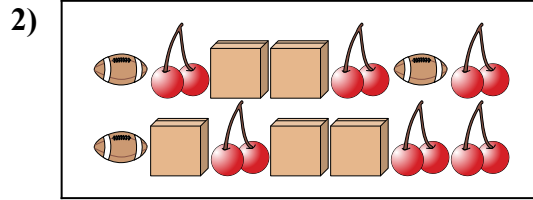


Comparar el número de formas.





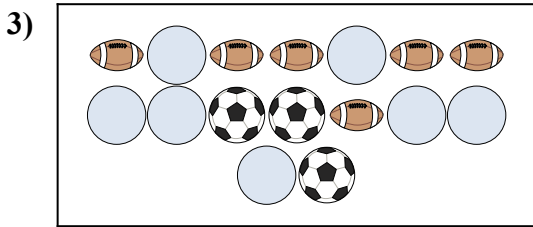
¿Hay más  o más  ?

- A. 
- B. 






¿Hay más  o más  ?

- A. 
- B. 




¿Hay más  o más  ?

- A. 
- B. 





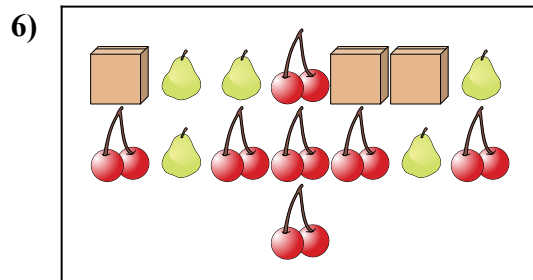
¿Hay menos  o menos  ?

- A. 
- B. 





¿Hay menos  o menos  ?

- A. 
- B. 



¿Hay más  o más  ?


- A. 
- B. 

Respuestas

- 1. _____
- 2. _____
- 3. _____
- 4. _____
- 5. _____
- 6. _____



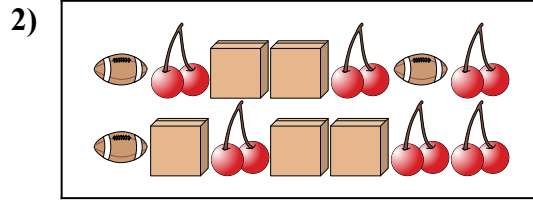
Comparar el número de formas.



¿Hay más o más ?

A.

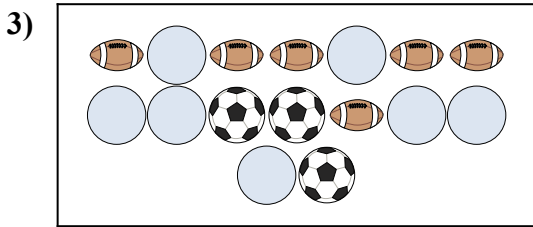
B.



¿Hay más o más ?

A.


B.



¿Hay más o más ?

A.


B.



¿Hay menos o menos ?

A.

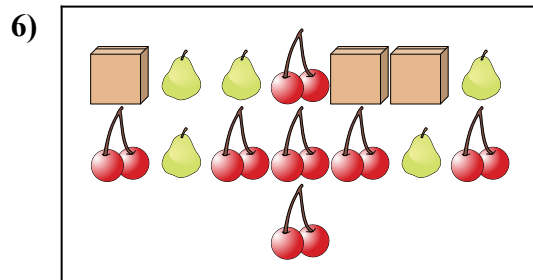
B.



¿Hay menos o menos ?

A.

B.



¿Hay más o más ?

A.

B.

Respuestas

1. **A**

2. **A**

3. **B**

4. **B**

5. **A**

6. **A**