




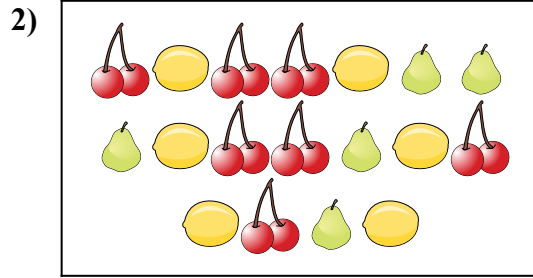
Comparar el número de formas.



¿Hay menos o menos ?

A.

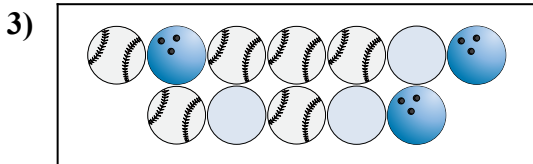
B.



¿Hay más o más ?

A.


B.



¿Hay menos o menos ?

A.


B.



¿Hay menos o menos ?

A.


B.



¿Hay menos o menos ?

A.

B.



¿Hay menos o menos ?

A.

B.

Respuestas

1. _____

2. _____

3. _____


4. _____

5. _____

6. _____



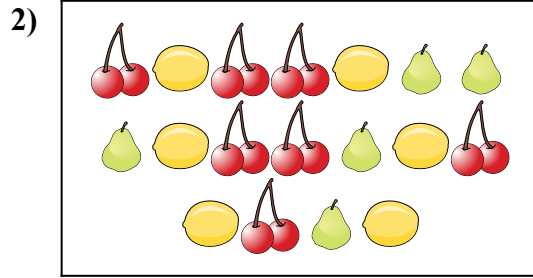
Comparar el número de formas.





¿Hay menos  o menos  ?

A. 

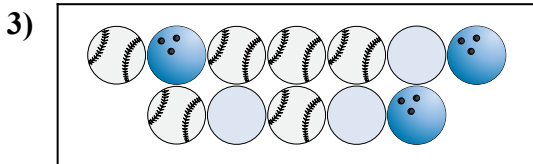
B. 



¿Hay más  o más  ?

A. 


B. 



¿Hay menos  o menos  ?

A. 


B. 



¿Hay menos  o menos  ?

A. 


B. 



¿Hay menos  o menos  ?

A. 

B. 



¿Hay menos  o menos  ?

A. 

B. 

Respuestas

1. **A**

2. **B**

3. **B**

4. **A**

5. **A**

6. **A**