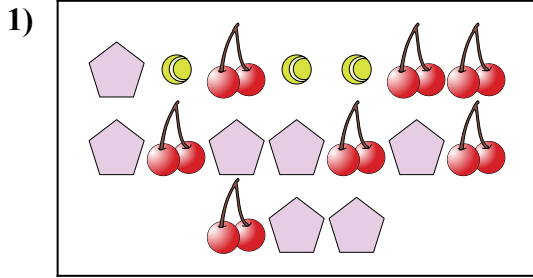
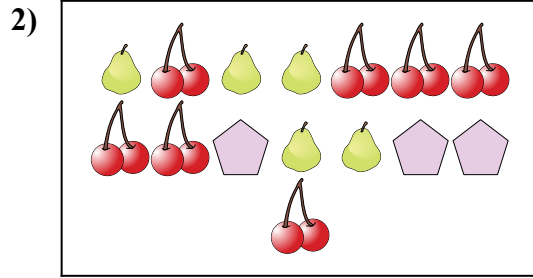




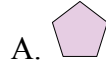
Comparar el número de formas.




¿Hay menos o menos ?



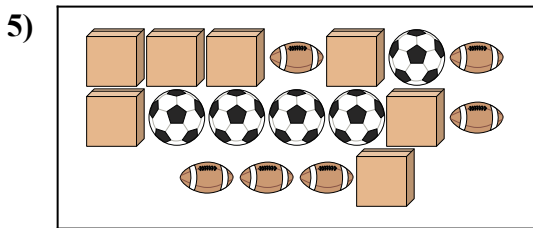
¿Hay menos o menos ?



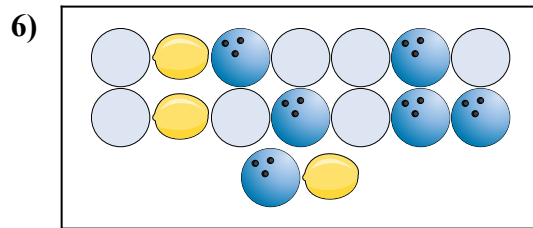
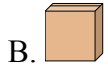
¿Hay menos o menos ?



¿Hay más o más ?



¿Hay más o más ?



¿Hay más o más ?



**Respuestas**

1. \_\_\_\_\_

2. \_\_\_\_\_

3. \_\_\_\_\_

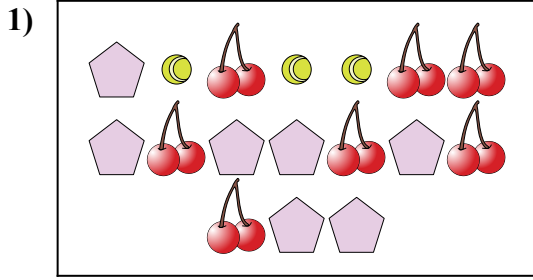
4. \_\_\_\_\_

5. \_\_\_\_\_

6. \_\_\_\_\_



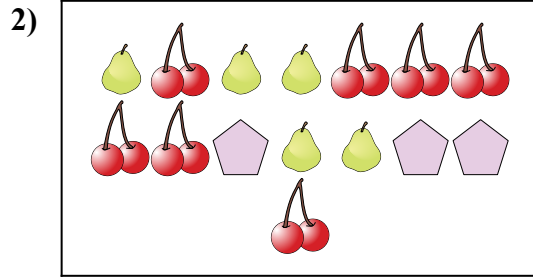
Comparar el número de formas.



¿Hay menos o menos ?

A.

B.



¿Hay menos o menos ?

A.


B.



¿Hay menos o menos ?

A.

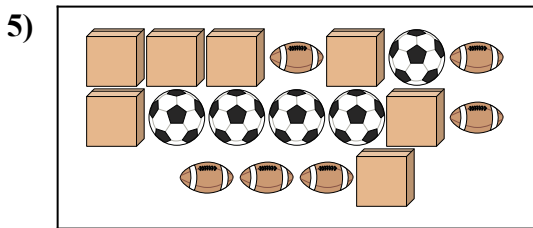
B.



¿Hay más o más ?

A.

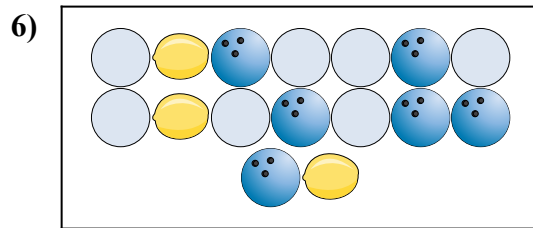
B.



¿Hay más o más ?

A.

B.



¿Hay más o más ?

A.

B.

**Respuestas**

1. **A**

2. **A**

3. **B**

4. **B**

5. **B**

6. **B**