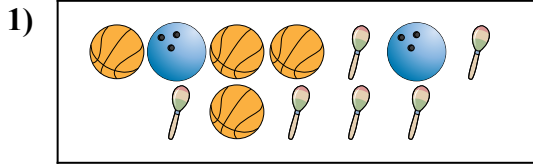






Comparar el número de formas.





¿Hay menos o menos ?



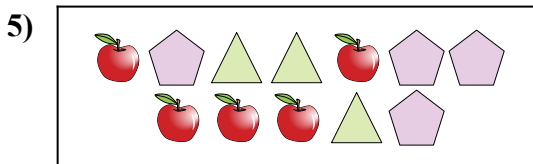
¿Hay menos o menos ?



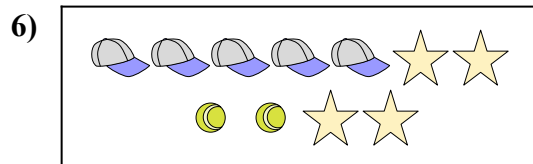
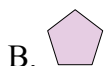
¿Hay más o más ?



¿Hay más o más ?



¿Hay más o más ?



¿Hay más o más ?



Respuestas

1. _____

2. _____

3. _____

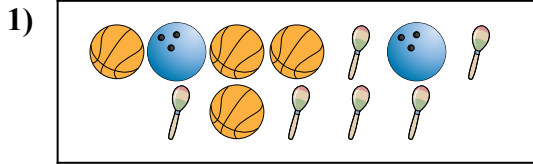
4. _____

5. _____


6. _____




Comparar el número de formas.




¿Hay menos o menos ?



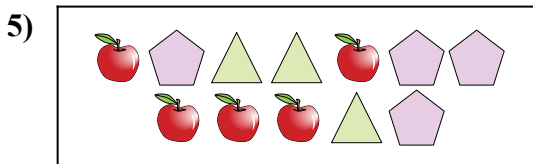
¿Hay menos o menos ?



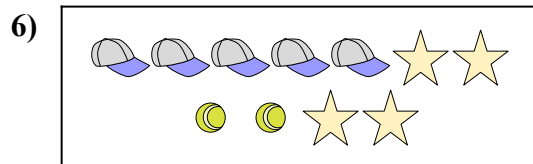
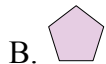
¿Hay más o más ?



¿Hay más o más ?



¿Hay más o más ?



¿Hay más o más ?



Respuestas

1. **A**

2. **B**

3. **A**

4. **B**

5. **A**

6. **B**