


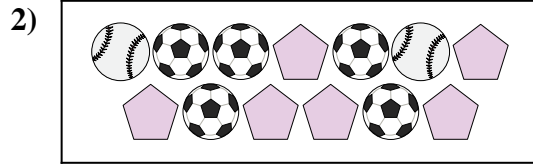


Comparar el número de formas.




¿Hay menos o menos ?

- A.
- B.




¿Hay más o más ?

- A.
- B.




¿Hay más o más ?

- A.
- B.




¿Hay menos o menos ?

- A.
- B.



¿Hay menos o menos ?

- A.
- B.



¿Hay menos o menos ?


- A.
- B.

**Respuestas**

- 1. \_\_\_\_\_
- 2. \_\_\_\_\_
- 3. \_\_\_\_\_
- 4. \_\_\_\_\_
- 5. \_\_\_\_\_
- 6. \_\_\_\_\_

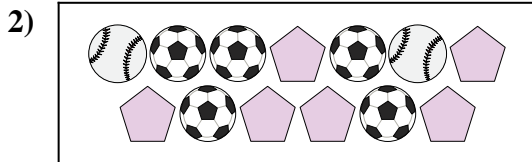


Comparar el número de formas.




¿Hay menos  o menos  ?

- A. 
- B. 






¿Hay más  o más  ?

- A. 
- B. 






¿Hay más  o más  ?

- A. 
- B. 





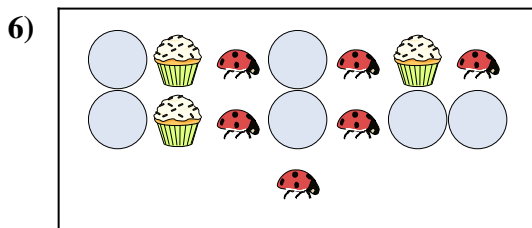
¿Hay menos  o menos  ?

- A. 
- B. 





¿Hay menos  o menos  ?

- A. 
- B. 



¿Hay menos  o menos  ?

- A. 
- B. 

Respuestas

1.     **B**    

2.     **A**    

3.     **A**    

4.     **A**    

5.     **A**    

6.     **A**