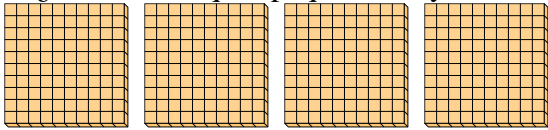




Utilizar los grupos para responder a cada pregunta.

**Respuestas**

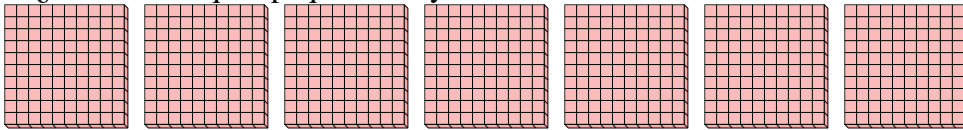
- 1) a. ¿Cuántos grupos de 100 hay?
- b. ¿Cuántos bloques pequeños hay en total?



1a. \_\_\_\_\_

1b. \_\_\_\_\_


- 2) a. ¿Cuántos grupos de 100 hay?
- b. ¿Cuántos bloques pequeños hay en total?



2a. \_\_\_\_\_

2b. \_\_\_\_\_

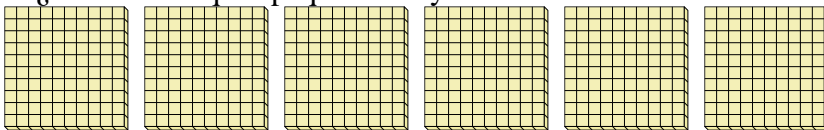
- 3) a. ¿Cuántos grupos de 100 hay?
- b. ¿Cuántos bloques pequeños hay en total?



3a. \_\_\_\_\_

3b. \_\_\_\_\_

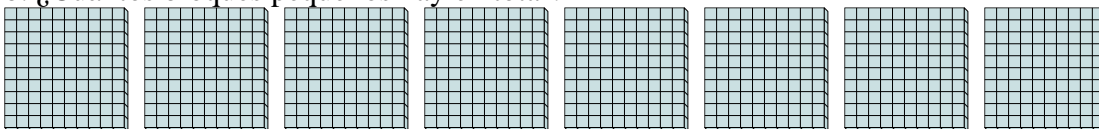
- 4) a. ¿Cuántos grupos de 100 hay?
- b. ¿Cuántos bloques pequeños hay en total?



4a. \_\_\_\_\_

4b. \_\_\_\_\_

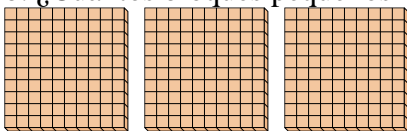
- 5) a. ¿Cuántos grupos de 100 hay?
- b. ¿Cuántos bloques pequeños hay en total?



5a. \_\_\_\_\_

5b. \_\_\_\_\_


- 6) a. ¿Cuántos grupos de 100 hay?
- b. ¿Cuántos bloques pequeños hay en total?



6a. \_\_\_\_\_

6b. \_\_\_\_\_

- 7) a. ¿Cuántos grupos de 100 hay?
- b. ¿Cuántos bloques pequeños hay en total?



7a. \_\_\_\_\_

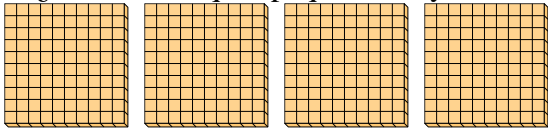
7b. \_\_\_\_\_



Utilizar los grupos para responder a cada pregunta.

**Respuestas**

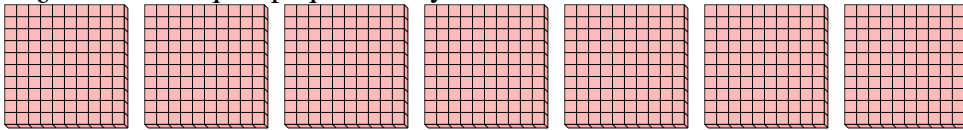
- 1) a. ¿Cuántos grupos de 100 hay?  
b. ¿Cuántos bloques pequeños hay en total?



1a. 4

1b. 400


- 2) a. ¿Cuántos grupos de 100 hay?  
b. ¿Cuántos bloques pequeños hay en total?



2a. 7

2b. 700

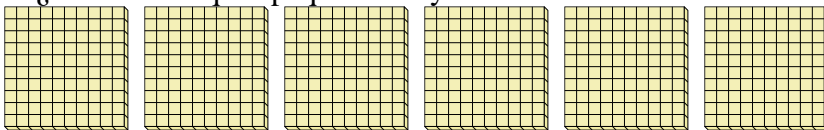
- 3) a. ¿Cuántos grupos de 100 hay?  
b. ¿Cuántos bloques pequeños hay en total?



3a. 1

3b. 100

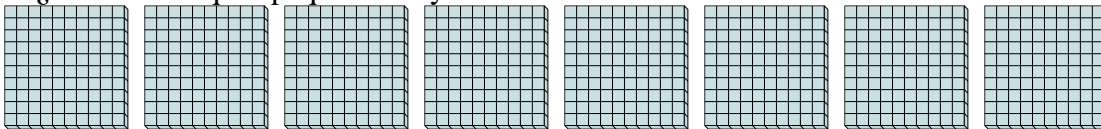
- 4) a. ¿Cuántos grupos de 100 hay?  
b. ¿Cuántos bloques pequeños hay en total?



4a. 6

4b. 600

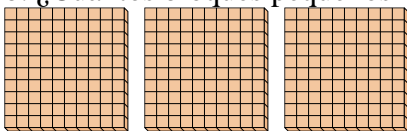
- 5) a. ¿Cuántos grupos de 100 hay?  
b. ¿Cuántos bloques pequeños hay en total?



5a. 8

5b. 800


- 6) a. ¿Cuántos grupos de 100 hay?  
b. ¿Cuántos bloques pequeños hay en total?



6a. 3

6b. 300

- 7) a. ¿Cuántos grupos de 100 hay?  
b. ¿Cuántos bloques pequeños hay en total?



7a. 2

7b. 200