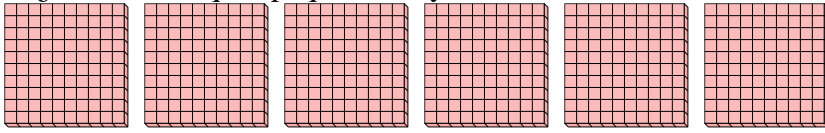




Utilizar los grupos para responder a cada pregunta.

**Respuestas**


- 1) a. ¿Cuántos grupos de 100 hay?
- b. ¿Cuántos bloques pequeños hay en total?



1a. \_\_\_\_\_

1b. \_\_\_\_\_

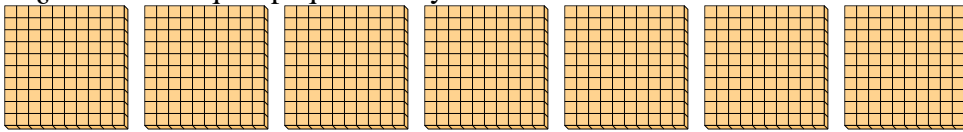
- 2) a. ¿Cuántos grupos de 100 hay?
- b. ¿Cuántos bloques pequeños hay en total?



2a. \_\_\_\_\_

2b. \_\_\_\_\_

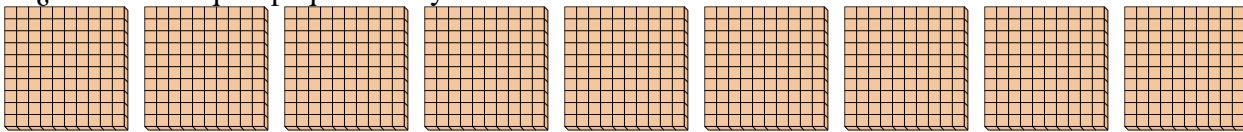
- 3) a. ¿Cuántos grupos de 100 hay?
- b. ¿Cuántos bloques pequeños hay en total?



3a. \_\_\_\_\_

3b. \_\_\_\_\_

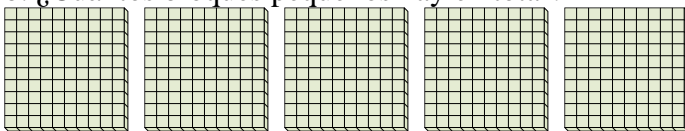
- 4) a. ¿Cuántos grupos de 100 hay?
- b. ¿Cuántos bloques pequeños hay en total?



4a. \_\_\_\_\_

4b. \_\_\_\_\_

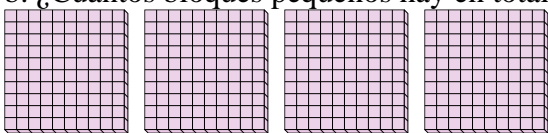
- 5) a. ¿Cuántos grupos de 100 hay?
- b. ¿Cuántos bloques pequeños hay en total?



5a. \_\_\_\_\_

5b. \_\_\_\_\_

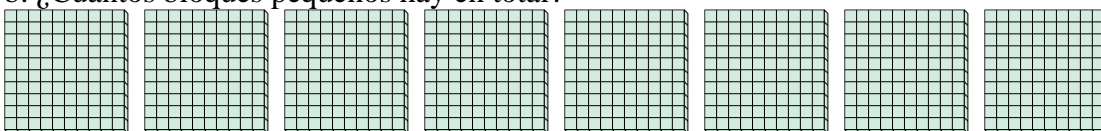
- 6) a. ¿Cuántos grupos de 100 hay?
- b. ¿Cuántos bloques pequeños hay en total?



6a. \_\_\_\_\_

6b. \_\_\_\_\_

- 7) a. ¿Cuántos grupos de 100 hay?
- b. ¿Cuántos bloques pequeños hay en total?



7a. \_\_\_\_\_

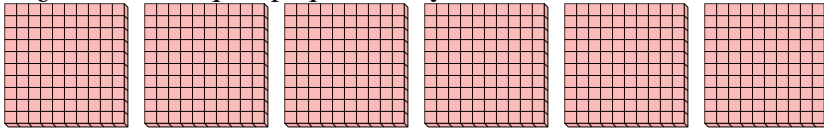
7b. \_\_\_\_\_



Utilizar los grupos para responder a cada pregunta.

**Respuestas**


- 1) a. ¿Cuántos grupos de 100 hay?  
b. ¿Cuántos bloques pequeños hay en total?



1a. 6

1b. 600

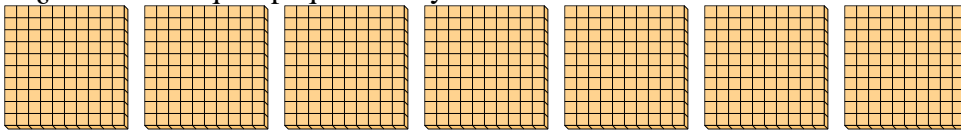
- 2) a. ¿Cuántos grupos de 100 hay?  
b. ¿Cuántos bloques pequeños hay en total?



2a. 3

2b. 300

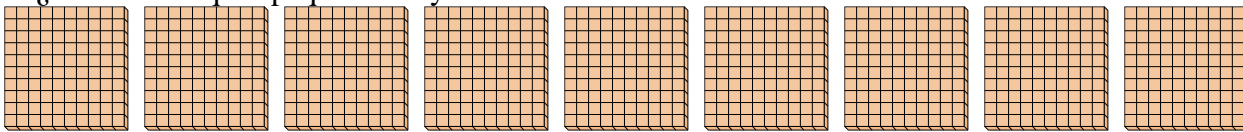
- 3) a. ¿Cuántos grupos de 100 hay?  
b. ¿Cuántos bloques pequeños hay en total?



3a. 7

3b. 700

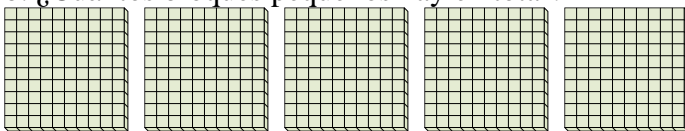
- 4) a. ¿Cuántos grupos de 100 hay?  
b. ¿Cuántos bloques pequeños hay en total?



4a. 9

4b. 900

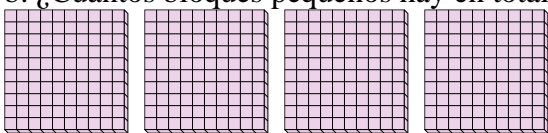
- 5) a. ¿Cuántos grupos de 100 hay?  
b. ¿Cuántos bloques pequeños hay en total?



5a. 5

5b. 500

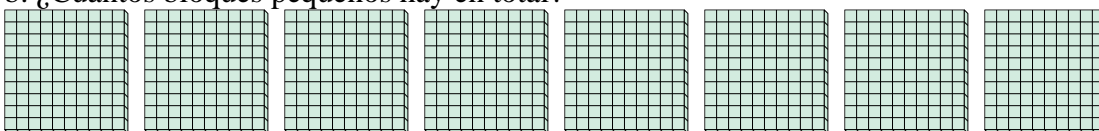
- 6) a. ¿Cuántos grupos de 100 hay?  
b. ¿Cuántos bloques pequeños hay en total?



6a. 4

6b. 400

- 7) a. ¿Cuántos grupos de 100 hay?  
b. ¿Cuántos bloques pequeños hay en total?



7a. 8

7b. 800