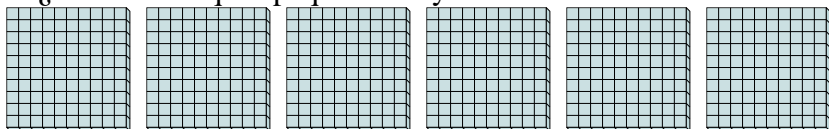




Utilizar los grupos para responder a cada pregunta.

Respuestas

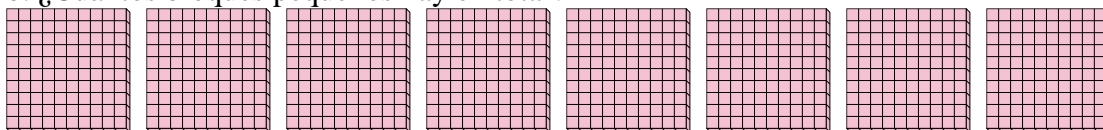
- 1) a. ¿Cuántos grupos de 100 hay?
- b. ¿Cuántos bloques pequeños hay en total?



1a. _____

1b. _____


- 2) a. ¿Cuántos grupos de 100 hay?
- b. ¿Cuántos bloques pequeños hay en total?



2a. _____

2b. _____

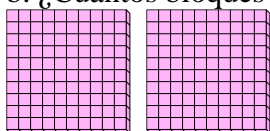
- 3) a. ¿Cuántos grupos de 100 hay?
- b. ¿Cuántos bloques pequeños hay en total?



3a. _____

3b. _____

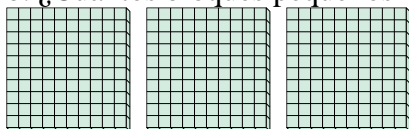
- 4) a. ¿Cuántos grupos de 100 hay?
- b. ¿Cuántos bloques pequeños hay en total?



4a. _____

4b. _____

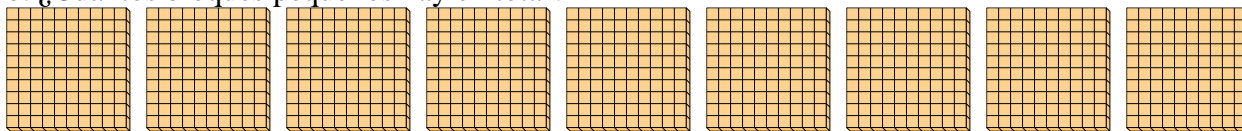
- 5) a. ¿Cuántos grupos de 100 hay?
- b. ¿Cuántos bloques pequeños hay en total?



5a. _____

5b. _____

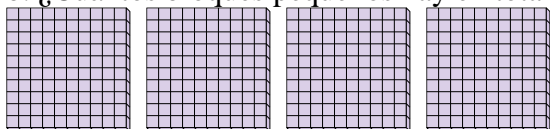
- 6) a. ¿Cuántos grupos de 100 hay?
- b. ¿Cuántos bloques pequeños hay en total?



6a. _____

6b. _____

- 7) a. ¿Cuántos grupos de 100 hay?
- b. ¿Cuántos bloques pequeños hay en total?



7a. _____

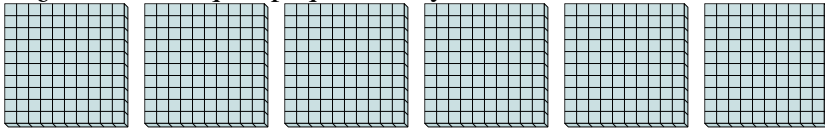
7b. _____



Utilizar los grupos para responder a cada pregunta.

Respuestas

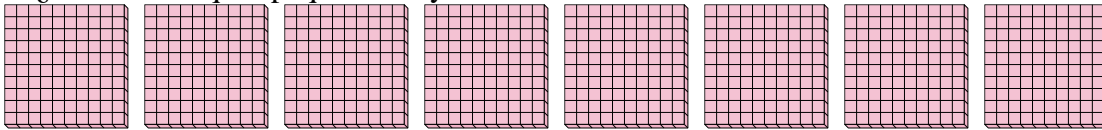
- 1) a. ¿Cuántos grupos de 100 hay?
b. ¿Cuántos bloques pequeños hay en total?



1a. 6

1b. 600


- 2) a. ¿Cuántos grupos de 100 hay?
b. ¿Cuántos bloques pequeños hay en total?



2a. 8

2b. 800

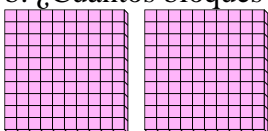
- 3) a. ¿Cuántos grupos de 100 hay?
b. ¿Cuántos bloques pequeños hay en total?



3a. 7

3b. 700

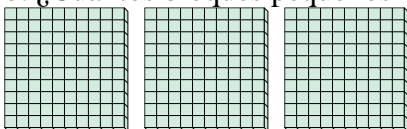
- 4) a. ¿Cuántos grupos de 100 hay?
b. ¿Cuántos bloques pequeños hay en total?



4a. 2

4b. 200

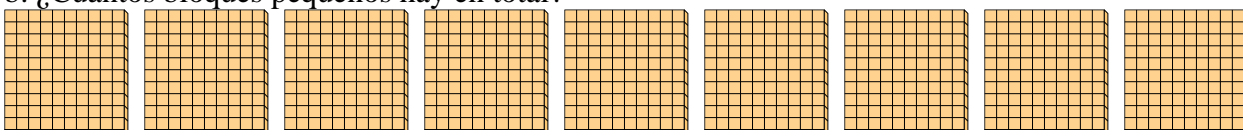
- 5) a. ¿Cuántos grupos de 100 hay?
b. ¿Cuántos bloques pequeños hay en total?



5a. 3

5b. 300

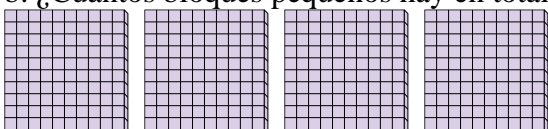
- 6) a. ¿Cuántos grupos de 100 hay?
b. ¿Cuántos bloques pequeños hay en total?



6a. 9

6b. 900

- 7) a. ¿Cuántos grupos de 100 hay?
b. ¿Cuántos bloques pequeños hay en total?



7a. 4

7b. 400