




Utilizar los grupos para responder a cada pregunta.

Respuestas

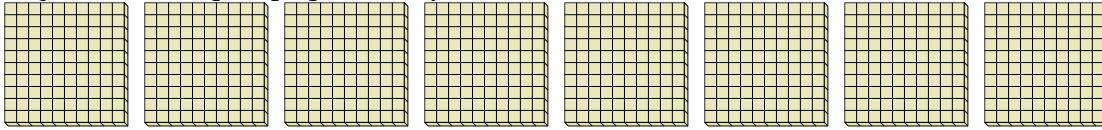
- 1) a. ¿Cuántos grupos de 100 hay?
- b. ¿Cuántos bloques pequeños hay en total?



1a. _____

1b. _____

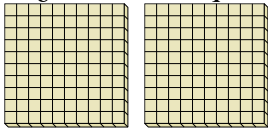
- 2) a. ¿Cuántos grupos de 100 hay?
- b. ¿Cuántos bloques pequeños hay en total?



2a. _____

2b. _____

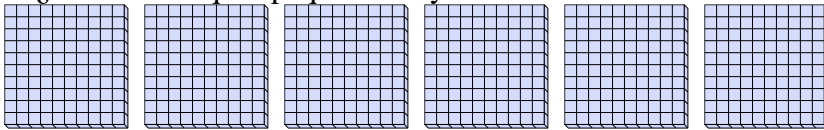
- 3) a. ¿Cuántos grupos de 100 hay?
- b. ¿Cuántos bloques pequeños hay en total?



3a. _____

3b. _____


- 4) a. ¿Cuántos grupos de 100 hay?
- b. ¿Cuántos bloques pequeños hay en total?



4a. _____

4b. _____

- 5) a. ¿Cuántos grupos de 100 hay?
- b. ¿Cuántos bloques pequeños hay en total?



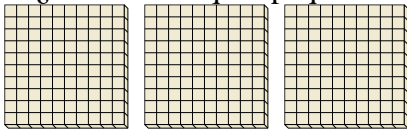
5a. _____

5b. _____

6a. _____

6b. _____

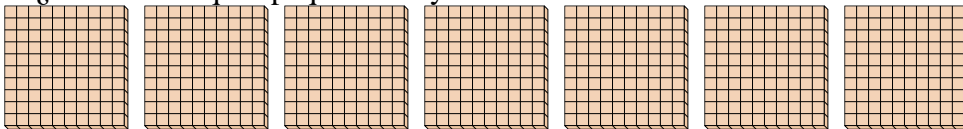
- 6) a. ¿Cuántos grupos de 100 hay?
- b. ¿Cuántos bloques pequeños hay en total?



7a. _____

7b. _____

- 7) a. ¿Cuántos grupos de 100 hay?
- b. ¿Cuántos bloques pequeños hay en total?

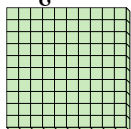




Utilizar los grupos para responder a cada pregunta.

Respuestas

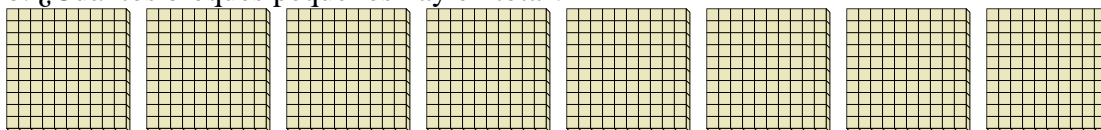
- 1) a. ¿Cuántos grupos de 100 hay?
b. ¿Cuántos bloques pequeños hay en total?



1a. 1

1b. 100

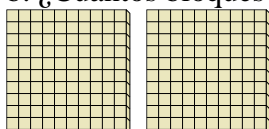
- 2) a. ¿Cuántos grupos de 100 hay?
b. ¿Cuántos bloques pequeños hay en total?



2a. 8

2b. 800

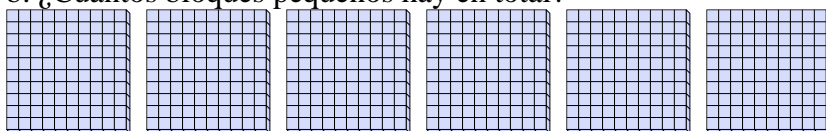
- 3) a. ¿Cuántos grupos de 100 hay?
b. ¿Cuántos bloques pequeños hay en total?



3a. 2

3b. 200


- 4) a. ¿Cuántos grupos de 100 hay?
b. ¿Cuántos bloques pequeños hay en total?



4a. 6

4b. 600

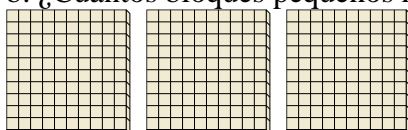
- 5) a. ¿Cuántos grupos de 100 hay?
b. ¿Cuántos bloques pequeños hay en total?



5a. 9

5b. 900

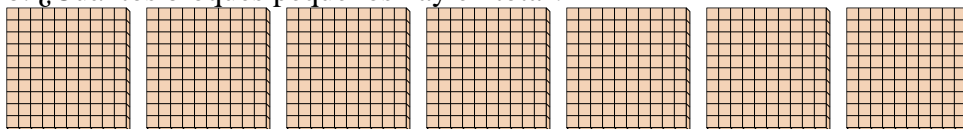
- 6) a. ¿Cuántos grupos de 100 hay?
b. ¿Cuántos bloques pequeños hay en total?



6a. 3

6b. 300

- 7) a. ¿Cuántos grupos de 100 hay?
b. ¿Cuántos bloques pequeños hay en total?



7a. 7

7b. 700