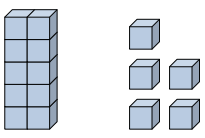




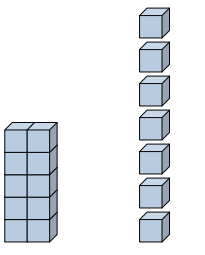
Rellenar los espacios para encontrar las cantidades.

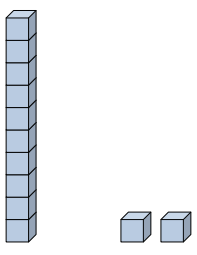
**Respuestas**

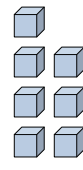
Ej)    1     5    
decenas unidades

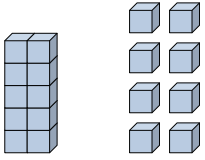
Ej)   0     4    
decenas unidades

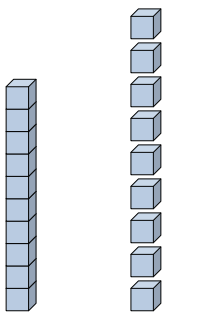
1)          2    
decenas unidades


2)                 
decenas unidades

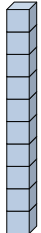
3)           2    
decenas unidades

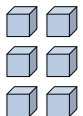
4)           6    
decenas unidades

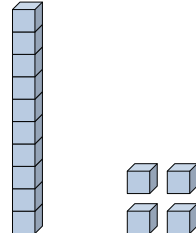
5)           8    
decenas unidades

6)                 
decenas unidades

7)           1    
decenas unidades

8)                 
decenas unidades

9)           6    
decenas unidades

10)           4    
decenas unidades

Ej.   15  

Ej.   4  

1. \_\_\_\_\_

2. \_\_\_\_\_

3. \_\_\_\_\_

4. \_\_\_\_\_

5. \_\_\_\_\_

6. \_\_\_\_\_

7. \_\_\_\_\_

8. \_\_\_\_\_

9. \_\_\_\_\_

10. \_\_\_\_\_



Rellenar los espacios para encontrar las cantidades.

**Respuestas**

Ej)  $\frac{1}{\text{decenas}}$   $\frac{5}{\text{unidades}}$

Ej)  $\frac{0}{\text{decenas}}$   $\frac{4}{\text{unidades}}$

1)  $\frac{0}{\text{decenas}}$   $\frac{2}{\text{unidades}}$

2)  $\frac{1}{\text{decenas}}$   $\frac{7}{\text{unidades}}$

3)  $\frac{1}{\text{decenas}}$   $\frac{2}{\text{unidades}}$

4)  $\frac{0}{\text{decenas}}$   $\frac{7}{\text{unidades}}$

5)  $\frac{1}{\text{decenas}}$   $\frac{8}{\text{unidades}}$

6)  $\frac{1}{\text{decenas}}$   $\frac{9}{\text{unidades}}$

7)  $\frac{0}{\text{decenas}}$   $\frac{1}{\text{unidades}}$

8)  $\frac{1}{\text{decenas}}$   $\frac{0}{\text{unidades}}$

9)  $\frac{0}{\text{decenas}}$   $\frac{6}{\text{unidades}}$

10)  $\frac{1}{\text{decenas}}$   $\frac{4}{\text{unidades}}$

Ej. 15

Ej. 4

1. 2

2. 17

3. 12

4. 7

5. 18

6. 19

7. 1

8. 10

9. 6

10. 14