





Usar las escalas mostradas para responder a las preguntas.

1)




Si usted tiene 9 bloques que son del mismo peso, ¿cuántos libras en total pesan los bloques?

2)




Si el bloque que se muestra fuera 7 onzas más pesado, ¿cuánto pesaría?

3)




Si el bloque que se muestra fuera 4 libras más ligero, ¿cuánto pesa?

4)




¿Cuál es el peso (en onzas) del bloque?

5)




Si el bloque que se muestra fuera 2 libras más ligero, ¿cuánto pesa?

6)




Si el bloque que se muestra fuera 5 onzas más pesado, ¿cuánto pesaría?

7)




¿Cuál es el peso (en libras) del bloque?

8)



Si usted tiene 4 bloques que son del mismo peso, ¿cuántos onzas en total pesan los bloques?

9)



¿Cuál es el peso (en libras) del bloque?

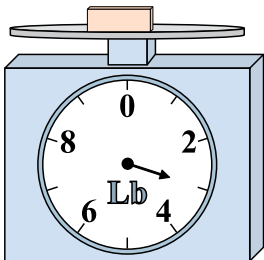
Respuestas

1. _____
2. _____
3. _____
4. _____
5. _____
6. _____
7. _____
8. _____
9. _____




Usar las escalas mostradas para responder a las preguntas.

1)




Si usted tiene 9 bloques que son del mismo peso, ¿cuántos libras en total pesan los bloques?

2)




Si el bloque que se muestra fuera 7 onzas más pesado, ¿cuánto pesaría?

3)




Si el bloque que se muestra fuera 4 libras más ligero, ¿cuánto pesa?

4)




¿Cuál es el peso (en onzas) del bloque?

5)




Si el bloque que se muestra fuera 2 libras más ligero, ¿cuánto pesa?

6)



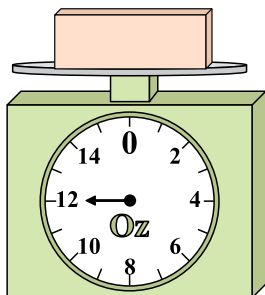
Si el bloque que se muestra fuera 5 onzas más pesado, ¿cuánto pesaría?

7)




¿Cuál es el peso (en libras) del bloque?

8)



Si usted tiene 4 bloques que son del mismo peso, ¿cuántos onzas en total pesan los bloques?

9)



¿Cuál es el peso (en libras) del bloque?

Respuestas

1. 27 lb

2. 10 oz

3. 2 lb

4. 2 oz

5. 2 lb

6. 16 oz

7. 6 lb

8. 48 oz

9. 6 lb