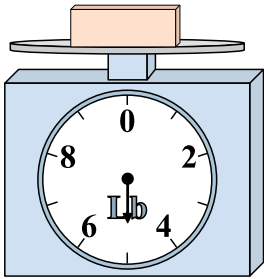





Usar las escalas mostradas para responder a las preguntas.

1)




¿Cuál es el peso (en libras) del bloque?

2)




Si usted tiene 3 bloques que son del mismo peso, ¿cuántos onzas en total pesan los bloques?

3)



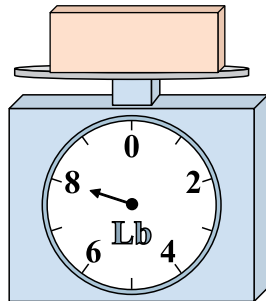
Si el bloque que se muestra fuera 4 libras más pesado, ¿cuánto pesaría?

4)




Si usted tiene 2 bloques que son del mismo peso, ¿cuántos onzas en total pesan los bloques?

5)



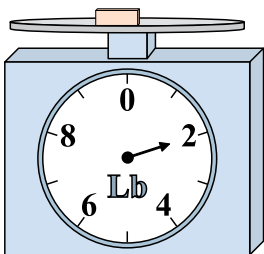
Si el bloque que se muestra fuera 2 libras más ligero, ¿cuánto pesa?

6)




Si el bloque que se muestra fuera 6 onzas más ligero, ¿cuánto pesa?

7)




Si usted tiene 3 bloques que son del mismo peso, ¿cuántas libras en total pesan los bloques?

8)



Si el bloque que se muestra fuera 9 onzas más pesado, ¿cuánto pesaría?

9)



¿Cuál es el peso (en libras) del bloque?


Respuestas

1. _____
2. _____
3. _____
4. _____
5. _____
6. _____
7. _____
8. _____
9. _____




Usar las escalas mostradas para responder a las preguntas.

1)



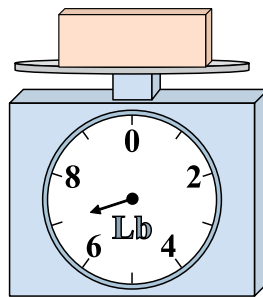
¿Cuál es el peso (en libras) del bloque?

2)




Si usted tiene 3 bloques que son del mismo peso, ¿cuántos onzas en total pesan los bloques?

3)



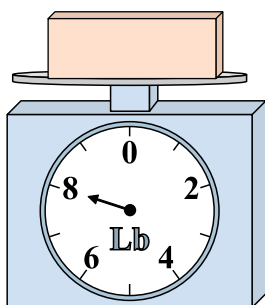
Si el bloque que se muestra fuera 4 libras más pesado, ¿cuánto pesaría?

4)




Si usted tiene 2 bloques que son del mismo peso, ¿cuántos onzas en total pesan los bloques?

5)




Si el bloque que se muestra fuera 2 libras más ligero, ¿cuánto pesa?

6)




Si el bloque que se muestra fuera 6 onzas más ligero, ¿cuánto pesa?

7)




Si usted tiene 3 bloques que son del mismo peso, ¿cuántas libras en total pesan los bloques?

8)



Si el bloque que se muestra fuera 9 onzas más pesado, ¿cuánto pesaría?

9)



¿Cuál es el peso (en libras) del bloque?

Respuestas

1. 5 lb

2. 33 oz

3. 11 lb

4. 18 oz

5. 6 lb

6. 1 oz

7. 6 lb

8. 17 oz

9. 1 lb