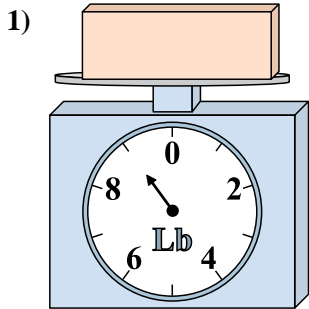
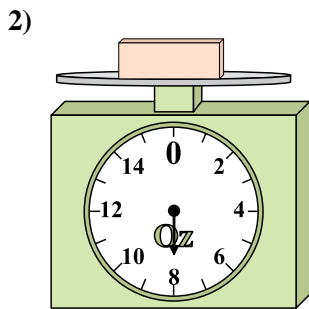




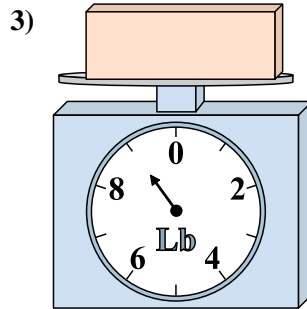
Usar las escalas mostradas para responder a las preguntas.



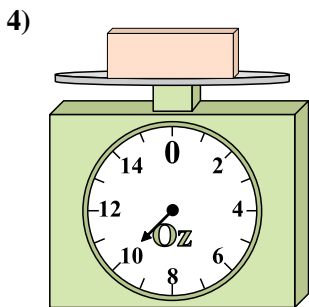
Si el bloque que se muestra fuera 8 libras más pesado, ¿cuánto pesaría?



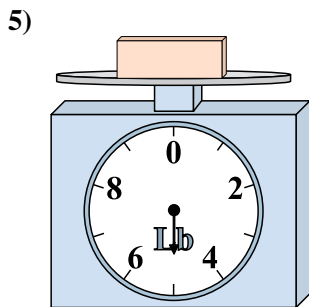
Si usted tiene 2 bloques que son del mismo peso, ¿cuántos onzas en total pesan los bloques?



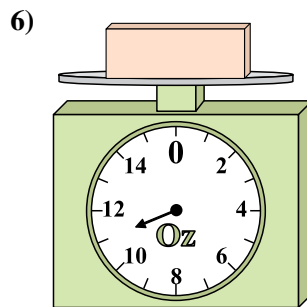
Si el bloque que se muestra fuera 5 libras más ligero, ¿cuánto pesa?



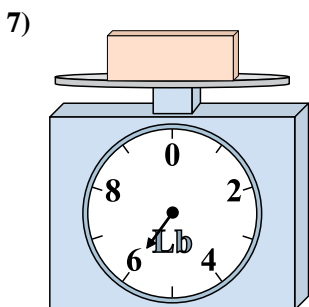
Si el bloque que se muestra fuera 5 onzas más pesado, ¿cuánto pesaría?



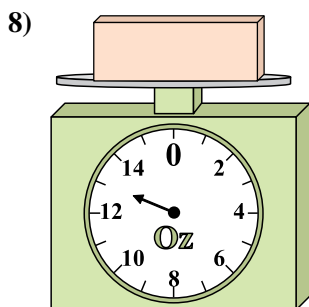
¿Cuál es el peso (en libras) del bloque?



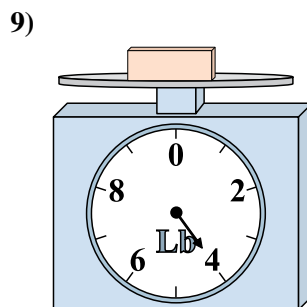
Si el bloque que se muestra fuera 6 onzas más ligero, ¿cuánto pesa?



¿Cuál es el peso (en libras) del bloque?



¿Cuál es el peso (en onzas) del bloque?



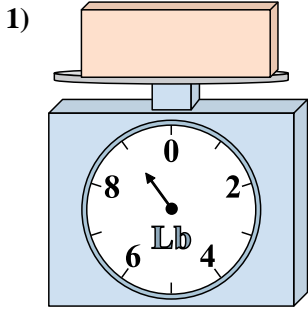
Si usted tiene 4 bloques que son del mismo peso, ¿cuántas libras en total pesan los bloques?

Respuestas

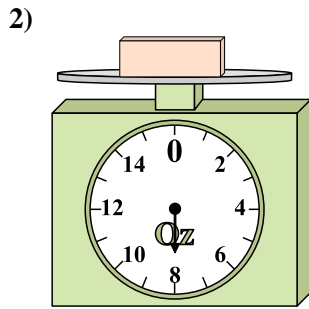
1. _____
2. _____
3. _____
4. _____
5. _____
6. _____
7. _____
8. _____
9. _____



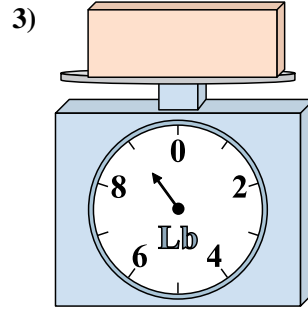
Usar las escalas mostradas para responder a las preguntas.



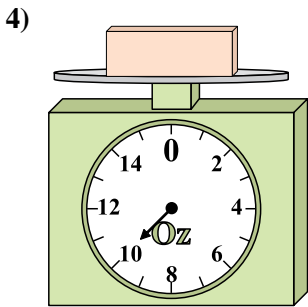
Si el bloque que se muestra fuera 8 libras más pesado, ¿cuánto pesaría?



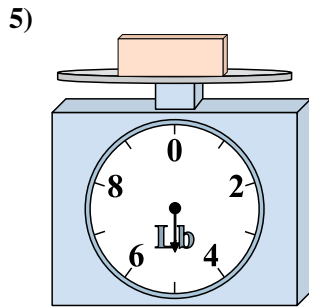
Si usted tiene 2 bloques que son del mismo peso, ¿cuántos onzas en total pesan los bloques?



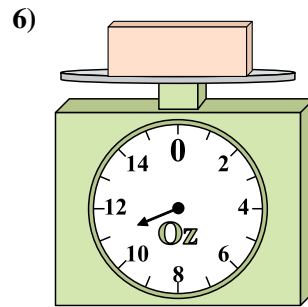
Si el bloque que se muestra fuera 5 libras más ligero, ¿cuánto pesa?



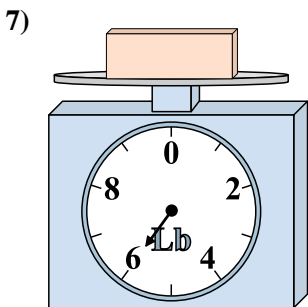
Si el bloque que se muestra fuera 5 onzas más pesado, ¿cuánto pesaría?



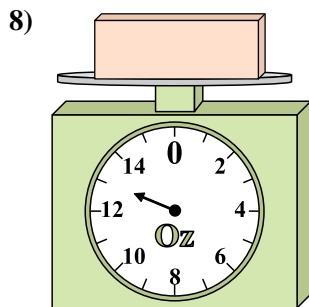
¿Cuál es el peso (en libras) del bloque?




Si el bloque que se muestra fuera 6 onzas más ligero, ¿cuánto pesa?



¿Cuál es el peso (en libras) del bloque?



¿Cuál es el peso (en onzas) del bloque?



Si usted tiene 4 bloques que son del mismo peso, ¿cuántas libras en total pesan los bloques?

Respuestas

1. 17 lb

2. 16 oz

3. 4 lb

4. 15 oz

5. 5 lb

6. 5 oz

7. 6 lb

8. 13 oz

9. 16 lb