





Usar las escalas mostradas para responder a las preguntas.

1)



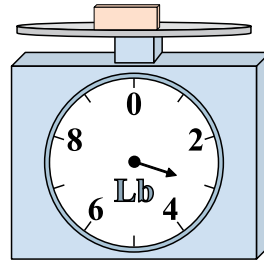
Si el bloque que se muestra fuera 3 libras más ligero, ¿cuánto pesa?

2)



¿Cuál es el peso (en onzas) del bloque?

3)




¿Cuál es el peso (en libras) del bloque?

Respuestas


- 1. _____
- 2. _____
- 3. _____
- 4. _____
- 5. _____
- 6. _____
- 7. _____
- 8. _____
- 9. _____

4)




Si el bloque que se muestra fuera 8 onzas más pesado, ¿cuánto pesaría?

5)



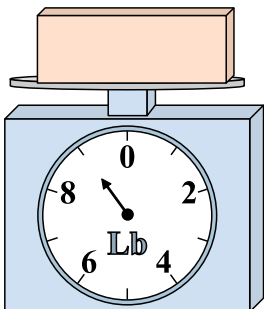
Si usted tiene 3 bloques que son del mismo peso, ¿cuántas libras en total pesan los bloques?

6)




Si usted tiene 6 bloques que son del mismo peso, ¿cuántas onzas en total pesan los bloques?

7)



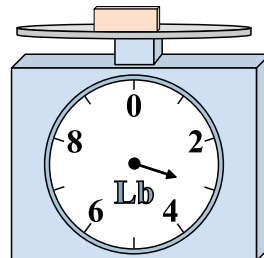
Si el bloque que se muestra fuera 8 libras más ligero, ¿cuánto pesa?

8)



Si el bloque que se muestra fuera 4 onzas más pesado, ¿cuánto pesaría?

9)




Si el bloque que se muestra fuera 2 libras más ligero, ¿cuánto pesa?




Usar las escalas mostradas para responder a las preguntas.

1)




Si el bloque que se muestra fuera 3 libras más ligero, ¿cuánto pesa?

2)



¿Cuál es el peso (en onzas) del bloque?

3)



¿Cuál es el peso (en libras) del bloque?

Respuestas

1. 1 lb

2. 1 oz

3. 3 lb

4. 18 oz

5. 18 lb


6. 54 oz

7. 1 lb

8. 19 oz

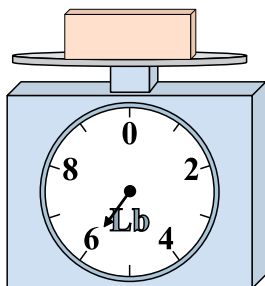
9. 1 lb

4)




Si el bloque que se muestra fuera 8 onzas más pesado, ¿cuánto pesaría?

5)




Si usted tiene 3 bloques que son del mismo peso, ¿cuántos libras en total pesan los bloques?

6)




Si usted tiene 6 bloques que son del mismo peso, ¿cuántos onzas en total pesan los bloques?

7)




Si el bloque que se muestra fuera 8 libras más ligero, ¿cuánto pesa?

8)



Si el bloque que se muestra fuera 4 onzas más pesado, ¿cuánto pesaría?

9)



Si el bloque que se muestra fuera 2 libras más ligero, ¿cuánto pesa?