





Usar las escalas mostradas para responder a las preguntas.

1)




Si usted tiene 4 bloques que son del mismo peso, ¿cuántos libras en total pesan los bloques?

2)




Si el bloque que se muestra fuera 6 onzas más pesado, ¿cuánto pesaría?

3)



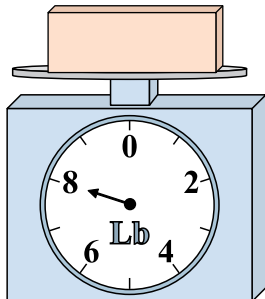
Si usted tiene 6 bloques que son del mismo peso, ¿cuántos libras en total pesan los bloques?

4)




¿Cuál es el peso (en onzas) del bloque?

5)



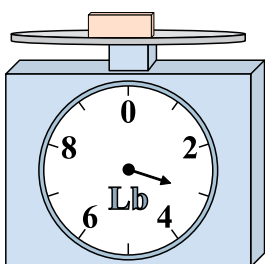
Si el bloque que se muestra fuera 3 libras más ligero, ¿cuánto pesa?

6)




Si usted tiene 9 bloques que son del mismo peso, ¿cuántos onzas en total pesan los bloques?

7)




Si el bloque que se muestra fuera 2 libras más ligero, ¿cuánto pesa?

8)



¿Cuál es el peso (en onzas) del bloque?

9)



Si el bloque que se muestra fuera 2 libras más pesado, ¿cuánto pesaría?


Respuestas

- 1. _____
- 2. _____
- 3. _____
- 4. _____
- 5. _____
- 6. _____
- 7. _____
- 8. _____
- 9. _____




Usar las escalas mostradas para responder a las preguntas.

1)




Si usted tiene 4 bloques que son del mismo peso, ¿cuántos libras en total pesan los bloques?

2)



Si el bloque que se muestra fuera 6 onzas más pesado, ¿cuánto pesaría?

3)



Si usted tiene 6 bloques que son del mismo peso, ¿cuántos libras en total pesan los bloques?

Respuestas

1. 4 lb

2. 8 oz

3. 6 lb

4. 12 oz

5. 5 lb


6. 126 oz

7. 1 lb

8. 9 oz

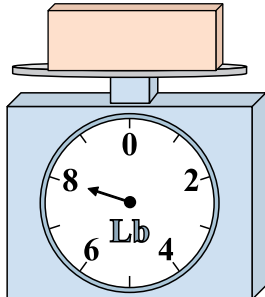
9. 5 lb

4)




¿Cuál es el peso (en onzas) del bloque?

5)



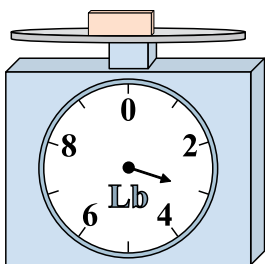
Si el bloque que se muestra fuera 3 libras más ligero, ¿cuánto pesa?

6)




Si usted tiene 9 bloques que son del mismo peso, ¿cuántos onzas en total pesan los bloques?

7)




Si el bloque que se muestra fuera 2 libras más ligero, ¿cuánto pesa?

8)



¿Cuál es el peso (en onzas) del bloque?

9)



Si el bloque que se muestra fuera 2 libras más pesado, ¿cuánto pesaría?