





Usar las escalas mostradas para responder a las preguntas.

1)



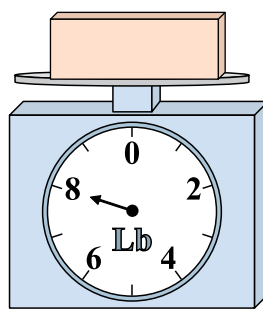
Si usted tiene 6 bloques que son del mismo peso, ¿cuántos libras en total pesan los bloques?

2)




¿Cuál es el peso (en onzas) del bloque?

3)



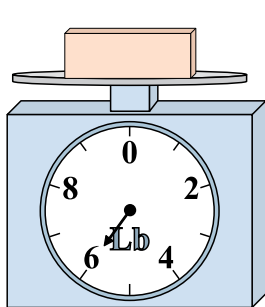
Si el bloque que se muestra fuera 9 libras más pesado, ¿cuánto pesaría?

4)



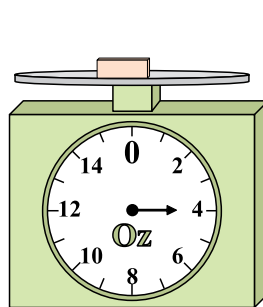
Si el bloque que se muestra fuera 7 onzas más ligero, ¿cuánto pesa?

5)



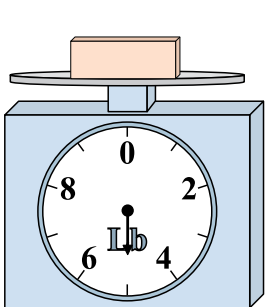
Si usted tiene 5 bloques que son del mismo peso, ¿cuántos libras en total pesan los bloques?

6)



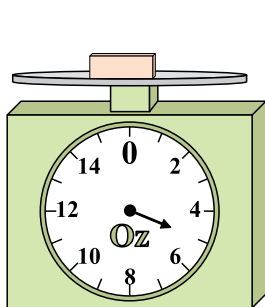
Si el bloque que se muestra fuera 3 onzas más ligero, ¿cuánto pesa?

7)




Si el bloque que se muestra fuera 3 libras más ligero, ¿cuánto pesa?

8)



¿Cuál es el peso (en onzas) del bloque?

9)



Si el bloque que se muestra fuera 7 libras más pesado, ¿cuánto pesaría?


Respuestas

- 1. _____
- 2. _____
- 3. _____
- 4. _____
- 5. _____
- 6. _____
- 7. _____
- 8. _____
- 9. _____




Usar las escalas mostradas para responder a las preguntas.

1)




Si usted tiene 6 bloques que son del mismo peso, ¿cuántos libras en total pesan los bloques?

2)



¿Cuál es el peso (en onzas) del bloque?

3)



Si el bloque que se muestra fuera 9 libras más pesado, ¿cuánto pesaría?

Respuestas

1. 6 lb

2. 14 oz

3. 17 lb

4. 7 oz

5. 30 lb


6. 1 oz

7. 2 lb

8. 5 oz

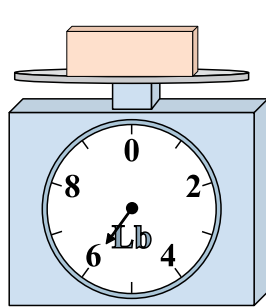
9. 16 lb

4)



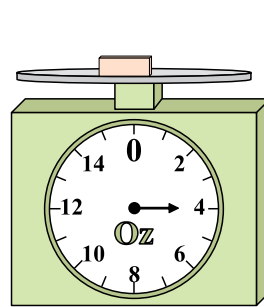
Si el bloque que se muestra fuera 7 onzas más ligero, ¿cuánto pesa?

5)



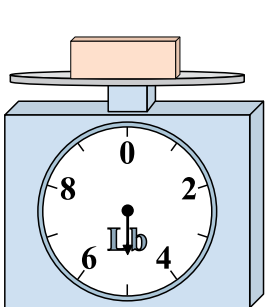
Si usted tiene 5 bloques que son del mismo peso, ¿cuántos libras en total pesan los bloques?

6)



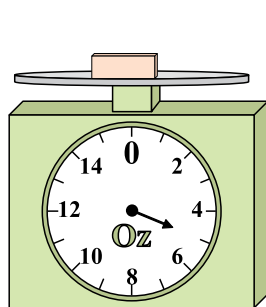
Si el bloque que se muestra fuera 3 onzas más ligero, ¿cuánto pesa?

7)




Si el bloque que se muestra fuera 3 libras más ligero, ¿cuánto pesa?

8)



¿Cuál es el peso (en onzas) del bloque?

9)



Si el bloque que se muestra fuera 7 libras más pesado, ¿cuánto pesaría?