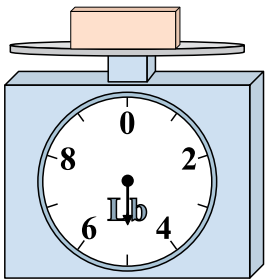





Usar las escalas mostradas para responder a las preguntas.

1)




Si el bloque que se muestra fuera 4 libras más ligero, ¿cuánto pesa?

2)




Si usted tiene 7 bloques que son del mismo peso, ¿cuántos onzas en total pesan los bloques?

3)




Si usted tiene 8 bloques que son del mismo peso, ¿cuántos libras en total pesan los bloques?

4)




Si el bloque que se muestra fuera 4 onzas más pesado, ¿cuánto pesaría?

5)




¿Cuál es el peso (en libras) del bloque?

6)




Si usted tiene 2 bloques que son del mismo peso, ¿cuántos onzas en total pesan los bloques?

7)




Si el bloque que se muestra fuera 3 libras más ligero, ¿cuánto pesa?

8)



Si el bloque que se muestra fuera 9 onzas más pesado, ¿cuánto pesaría?

9)



¿Cuál es el peso (en libras) del bloque?

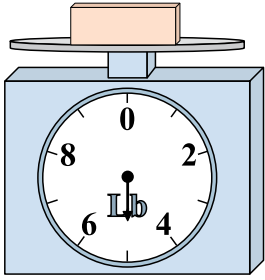
Respuestas

- 1. _____
- 2. _____
- 3. _____
- 4. _____
- 5. _____
- 6. _____
- 7. _____
- 8. _____
- 9. _____




Usar las escalas mostradas para responder a las preguntas.

1)




Si el bloque que se muestra fuera 4 libras más ligero, ¿cuánto pesa?

2)



Si usted tiene 7 bloques que son del mismo peso, ¿cuántos onzas en total pesan los bloques?

3)



Si usted tiene 8 bloques que son del mismo peso, ¿cuántas libras en total pesan los bloques?

Respuestas

1. 1 lb

2. 21 oz

3. 40 lb

4. 10 oz

5. 9 lb


6. 20 oz

7. 1 lb

8. 14 oz

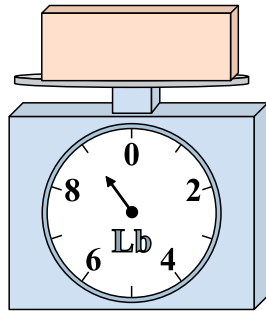
9. 5 lb

4)




Si el bloque que se muestra fuera 4 onzas más pesado, ¿cuánto pesaría?

5)




¿Cuál es el peso (en libras) del bloque?

6)




Si usted tiene 2 bloques que son del mismo peso, ¿cuántos onzas en total pesan los bloques?

7)




Si el bloque que se muestra fuera 3 libras más ligero, ¿cuánto pesa?

8)



Si el bloque que se muestra fuera 9 onzas más pesado, ¿cuánto pesaría?

9)



¿Cuál es el peso (en libras) del bloque?