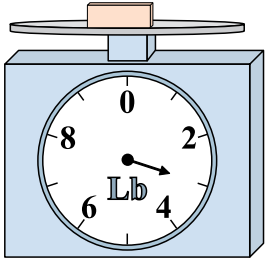





Usar las escalas mostradas para responder a las preguntas.

1)




Si el bloque que se muestra fuera 2 libras más ligero, ¿cuánto pesa?

2)



Si usted tiene 7 bloques que son del mismo peso, ¿cuántos onzas en total pesan los bloques?

3)



Si el bloque que se muestra fuera 3 libras más ligero, ¿cuánto pesa?

Respuestas

1. _____

2. _____

3. _____

4. _____

5. _____


6. _____

7. _____

8. _____

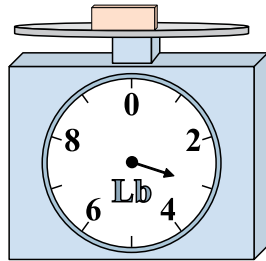
9. _____

4)



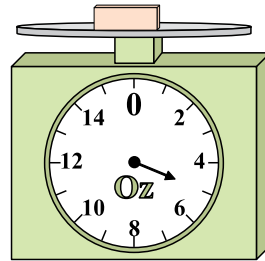
¿Cuál es el peso (en onzas) del bloque?

5)



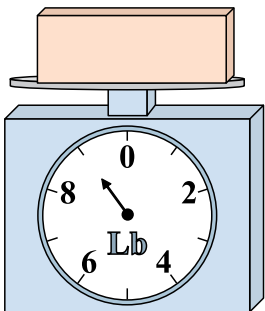
Si usted tiene 3 bloques que son del mismo peso, ¿cuántos libras en total pesan los bloques?

6)




Si el bloque que se muestra fuera 3 onzas más pesado, ¿cuánto pesaría?

7)




Si el bloque que se muestra fuera 3 libras más ligero, ¿cuánto pesa?

8)



¿Cuál es el peso (en onzas) del bloque?

9)

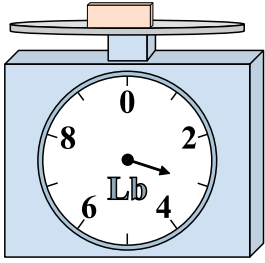


Si el bloque que se muestra fuera 9 libras más pesado, ¿cuánto pesaría?




Usar las escalas mostradas para responder a las preguntas.

1)




Si el bloque que se muestra fuera 2 libras más ligero, ¿cuánto pesa?

2)




Si usted tiene 7 bloques que son del mismo peso, ¿cuántos onzas en total pesan los bloques?

3)



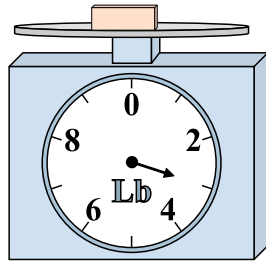
Si el bloque que se muestra fuera 3 libras más ligero, ¿cuánto pesa?

4)



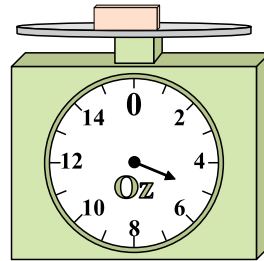
¿Cuál es el peso (en onzas) del bloque?

5)



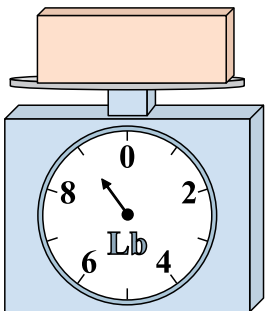
Si usted tiene 3 bloques que son del mismo peso, ¿cuántos libras en total pesan los bloques?

6)




Si el bloque que se muestra fuera 3 onzas más pesado, ¿cuánto pesaría?

7)




Si el bloque que se muestra fuera 3 libras más ligero, ¿cuánto pesa?

8)



¿Cuál es el peso (en onzas) del bloque?

9)



Si el bloque que se muestra fuera 9 libras más pesado, ¿cuánto pesaría?

Respuestas

1. 1 lb
2. 7 oz
3. 2 lb
4. 12 oz
5. 9 lb
6. 8 oz
7. 6 lb
8. 9 oz
9. 15 lb