





Usar las escalas mostradas para responder a las preguntas.

1)




Si el bloque que se muestra fuera 8 libras más pesado, ¿cuánto pesaría?

2)



¿Cuál es el peso (en onzas) del bloque?

3)




¿Cuál es el peso (en libras) del bloque?

Respuestas


1. _____
2. _____
3. _____
4. _____
5. _____
6. _____
7. _____
8. _____
9. _____

4)



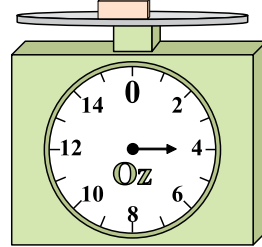
Si el bloque que se muestra fuera 2 onzas más ligero, ¿cuánto pesa?

5)



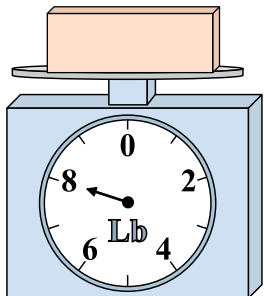
Si usted tiene 3 bloques que son del mismo peso, ¿cuántos libras en total pesan los bloques?

6)




¿Cuál es el peso (en onzas) del bloque?

7)



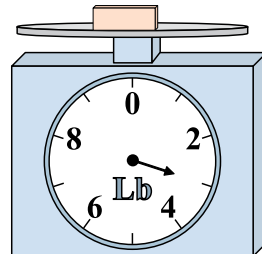
Si usted tiene 8 bloques que son del mismo peso, ¿cuántos libras en total pesan los bloques?

8)



Si el bloque que se muestra fuera 8 onzas más ligero, ¿cuánto pesa?

9)




Si el bloque que se muestra fuera 4 libras más pesado, ¿cuánto pesaría?




Usar las escalas mostradas para responder a las preguntas.

1)




Si el bloque que se muestra fuera 8 libras más pesado, ¿cuánto pesaría?

2)



¿Cuál es el peso (en onzas) del bloque?

3)



¿Cuál es el peso (en libras) del bloque?

Respuestas

1. **10 lb**

2. **12 oz**

3. **7 lb**

4. **1 oz**

5. **3 lb**


6. **4 oz**

7. **64 lb**

8. **1 oz**


9. **7 lb**

4)



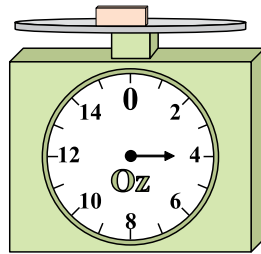
Si el bloque que se muestra fuera 2 onzas más ligero, ¿cuánto pesa?

5)



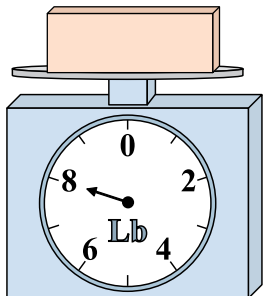
Si usted tiene 3 bloques que son del mismo peso, ¿cuántas libras en total pesan los bloques?

6)




¿Cuál es el peso (en onzas) del bloque?

7)




Si usted tiene 8 bloques que son del mismo peso, ¿cuántas libras en total pesan los bloques?

8)



Si el bloque que se muestra fuera 8 onzas más ligero, ¿cuánto pesa?

9)



Si el bloque que se muestra fuera 4 libras más pesado, ¿cuánto pesaría?