



Determina si el ángulo mostrado es 'mayor', 'menor' o 'igual' a 90°.

Ej)



1)



2)



3)



4)



5)



6)



7)



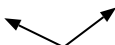
8)



9)



10)



11)



12)



13)



14)



15)



16)



17)



18)



19)



20)



**Respuestas**

Ej. menor

1. \_\_\_\_\_

2. \_\_\_\_\_

3. \_\_\_\_\_

4. \_\_\_\_\_

5. \_\_\_\_\_

6. \_\_\_\_\_

7. \_\_\_\_\_

8. \_\_\_\_\_

9. \_\_\_\_\_

10. \_\_\_\_\_

11. \_\_\_\_\_

12. \_\_\_\_\_

13. \_\_\_\_\_

14. \_\_\_\_\_

15. \_\_\_\_\_

16. \_\_\_\_\_

17. \_\_\_\_\_

18. \_\_\_\_\_

19. \_\_\_\_\_

20. \_\_\_\_\_



Determina si el ángulo mostrado es 'mayor', 'menor' o 'igual' a  $90^\circ$ .

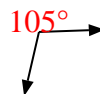
Ej)



1)



2)



3)



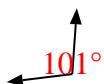
4)



5)



6)



7)



8)



9)



10)



11)



12)



13)



14)



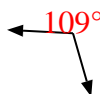
15)



16)



17)



18)



19)



20)



**Respuestas**

Ej. menor

1. igual

2. mayor

3. menor

4. igual

5. menor

6. mayor

7. igual

8. mayor

9. menor

10. mayor

11. igual

12. mayor

13. menor

14. menor

15. igual

16. mayor

17. mayor

18. igual

19. igual

20. igual