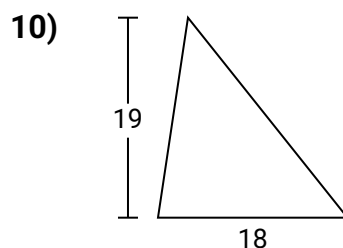
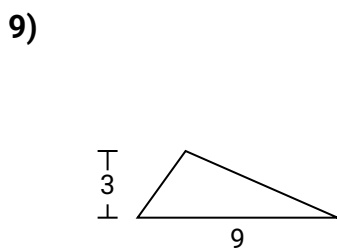
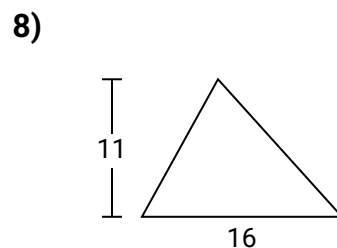
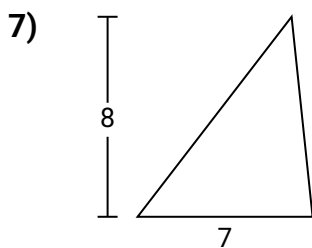
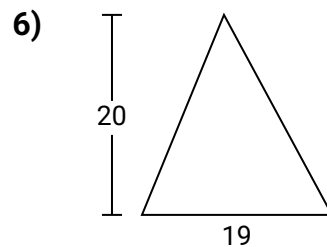
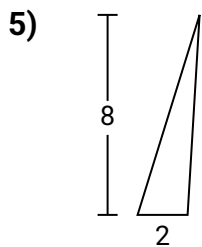
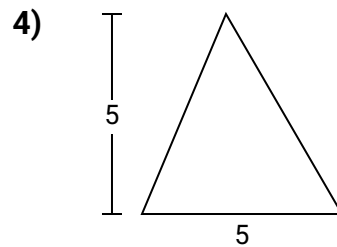
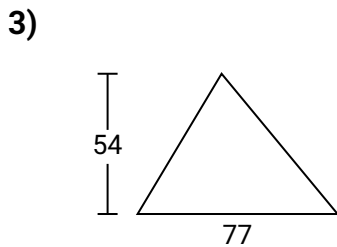
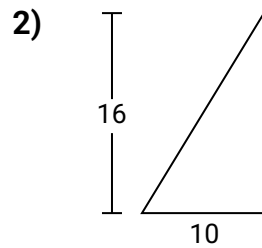
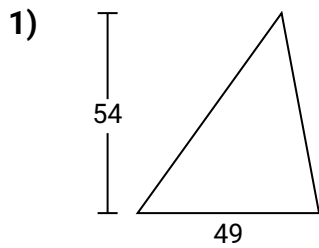




Encuentra el área de los triángulos.

Nombre: _____

Encuentra el área de cada triángulo. Redondea tu respuesta a la décima más cercana.



Respuestas

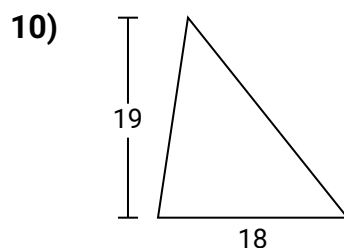
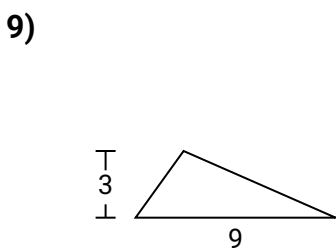
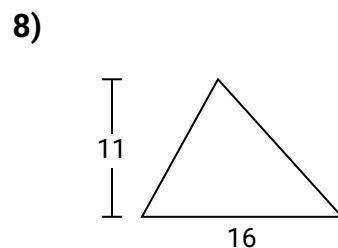
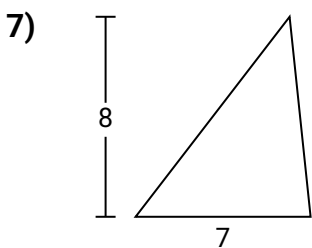
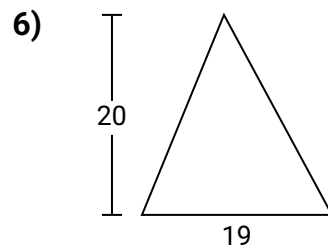
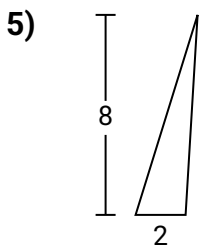
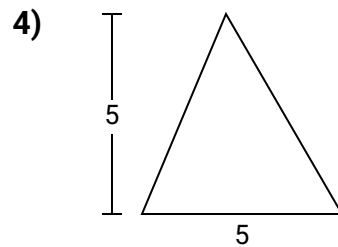
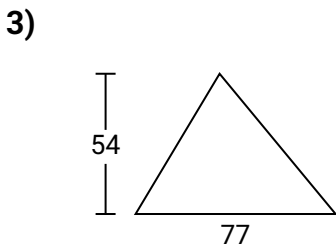
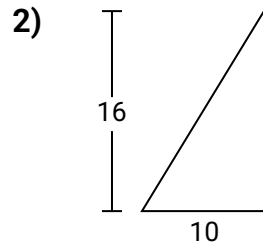
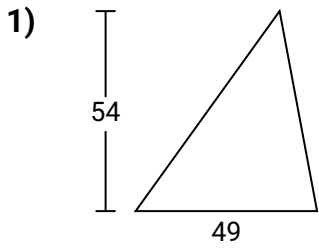
1. _____
2. _____
3. _____
4. _____
5. _____
6. _____
7. _____
8. _____
9. _____
10. _____



Encuentra el área de los triángulos.

Nombre: **Clave De Respuestas**

Encuentra el área de cada triángulo. Redondea tu respuesta a la décima más cercana.



Respuestas

1. 1,323
2. 80
3. 2,079
4. 12.5
5. 8
6. 190
7. 28
8. 88
9. 13.5
10. 171



Encuentra el área de los triángulos.

Nombre: _____

Encuentra el área de cada triángulo. Redondea tu respuesta a la décima más cercana.

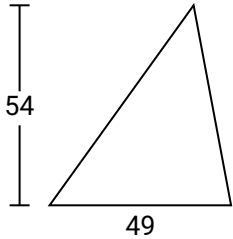
Respuestas

8
12.5
80

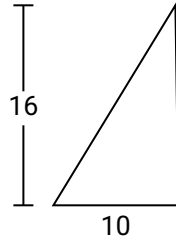
190
13.5
28

2,079
1,323
88

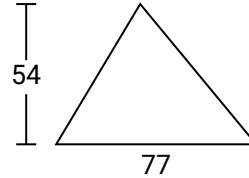
1)



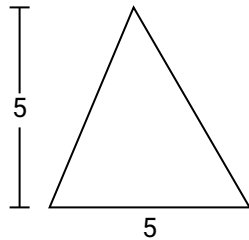
2)



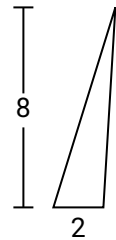
3)



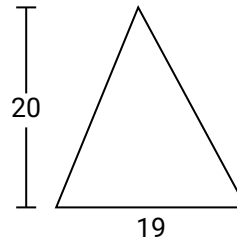
4)



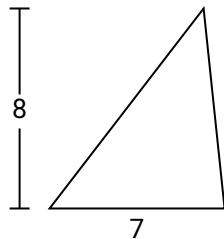
5)



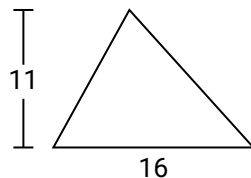
6)



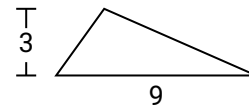
7)



8)



9)



1. _____
2. _____
3. _____
4. _____
5. _____
6. _____
7. _____
8. _____
9. _____
10. _____