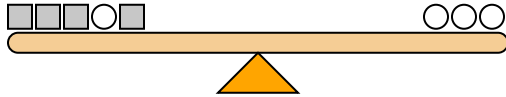




Las escalas siguientes están equilibradas. Usa las escalas para responder cada pregunta.

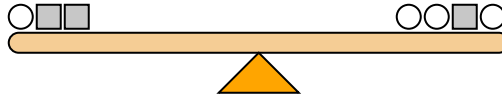
Respuestas

1)



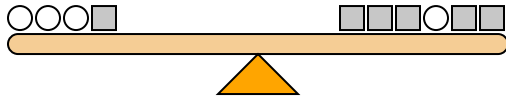
Si agregaste 10 cuadrados al lado derecho, ¿cuántos círculos tendrías que agregar al lado izquierdo para mantenerlo equilibrado?

2)



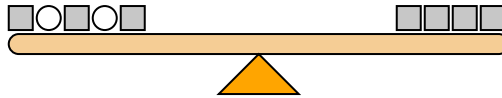
Si agregaste 2 cuadrados al lado derecho, ¿cuántos círculos tendrías que agregar al lado izquierdo para mantenerlo equilibrado?

3)



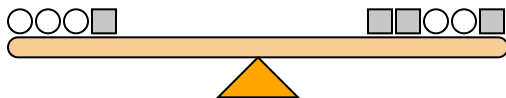
Si agregaste 10 cuadrados al lado izquierdo, ¿cuántos círculos tendrías que agregar al lado derecho para mantenerlo equilibrado?

4)



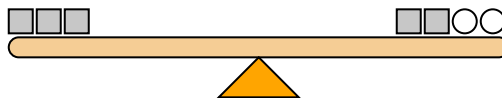
Si agregaste 10 círculos al lado derecho, ¿cuántos cuadrados tendrías que agregar al lado izquierdo para mantenerlo equilibrado?

5)



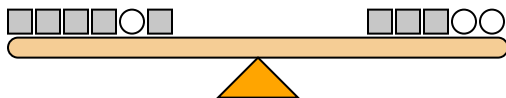
Si agregaste 6 cuadrados al lado derecho, ¿cuántos círculos tendrías que agregar al lado izquierdo para mantenerlo equilibrado?

6)



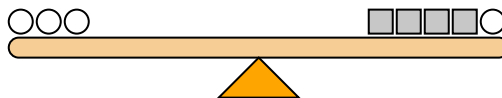
Si agregaste 6 círculos al lado derecho, ¿cuántos cuadrados tendrías que agregar al lado izquierdo para mantenerlo equilibrado?

7)



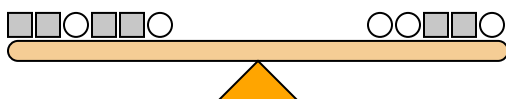
Si agregaste 4 cuadrados al lado izquierdo, ¿cuántos círculos tendrías que agregar al lado derecho para mantenerlo equilibrado?

8)



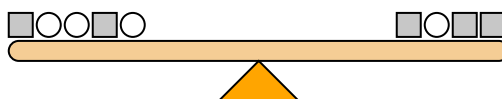
Si agregaste 10 cuadrados al lado derecho, ¿cuántos círculos tendrías que agregar al lado izquierdo para mantenerlo equilibrado?

9)



Si agregaste 10 cuadrados al lado derecho, ¿cuántos círculos tendrías que agregar al lado izquierdo para mantenerlo equilibrado?

10)

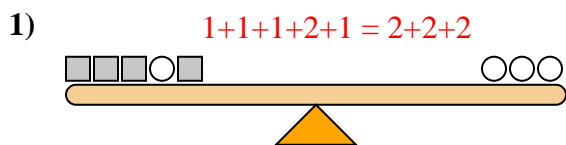


Si agregaste 2 cuadrados al lado izquierdo, ¿cuántos círculos tendrías que agregar al lado derecho para mantenerlo equilibrado?

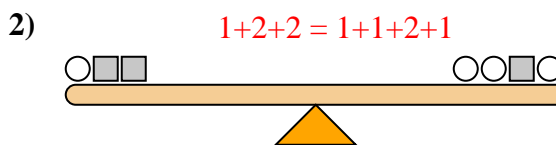
1. _____
2. _____
3. _____
4. _____
5. _____
6. _____
7. _____
8. _____
9. _____
10. _____



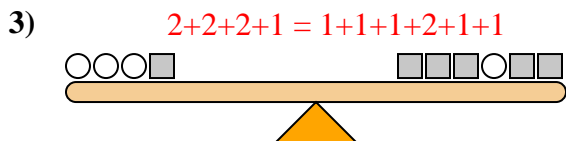
Las escalas siguientes están equilibradas. Usa las escalas para responder cada pregunta.



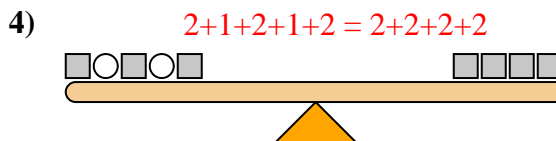
Si agregaste 10 cuadrados al lado derecho, ¿cuántos círculos tendrías que agregar al lado izquierdo para mantenerlo equilibrado?



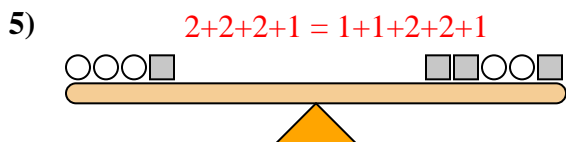
Si agregaste 2 cuadrados al lado derecho, ¿cuántos círculos tendrías que agregar al lado izquierdo para mantenerlo equilibrado?



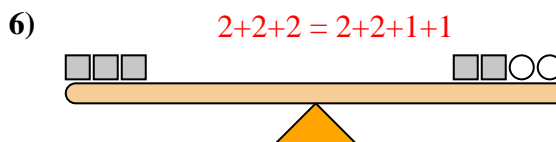
Si agregaste 10 cuadrados al lado izquierdo, ¿cuántos círculos tendrías que agregar al lado derecho para mantenerlo equilibrado?



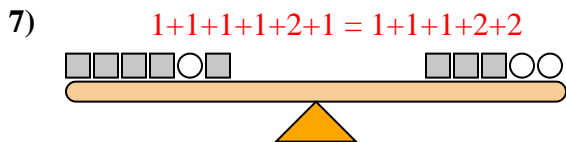
Si agregaste 10 círculos al lado derecho, ¿cuántos cuadrados tendrías que agregar al lado izquierdo para mantenerlo equilibrado?



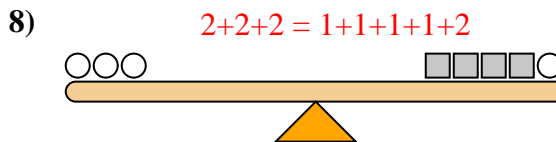
Si agregaste 6 cuadrados al lado derecho, ¿cuántos círculos tendrías que agregar al lado izquierdo para mantenerlo equilibrado?



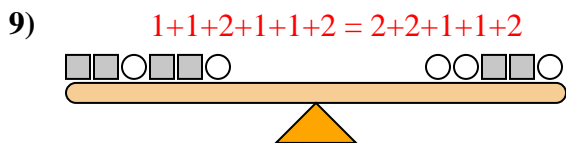
Si agregaste 6 círculos al lado derecho, ¿cuántos cuadrados tendrías que agregar al lado izquierdo para mantenerlo equilibrado?



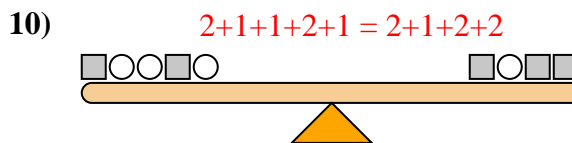
Si agregaste 4 cuadrados al lado izquierdo, ¿cuántos círculos tendrías que agregar al lado derecho para mantenerlo equilibrado?



Si agregaste 10 cuadrados al lado derecho, ¿cuántos círculos tendrías que agregar al lado izquierdo para mantenerlo equilibrado?



Si agregaste 10 cuadrados al lado derecho, ¿cuántos círculos tendrías que agregar al lado izquierdo para mantenerlo equilibrado?



Si agregaste 2 cuadrados al lado izquierdo, ¿cuántos círculos tendrías que agregar al lado derecho para mantenerlo equilibrado?

Respuestas

1. 5
2. 4
3. 5
4. 5
5. 3
6. 3
7. 2
8. 5
9. 5
10. 4