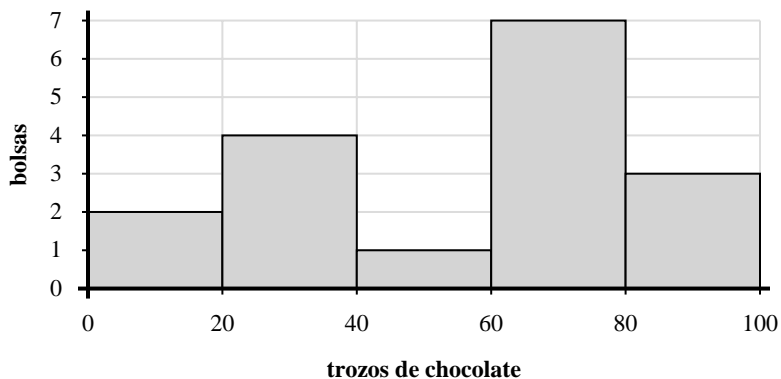




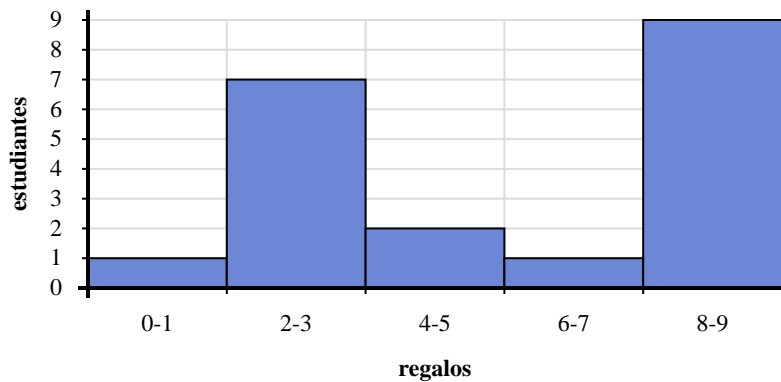
Utilice los histogramas que se muestran para responder cada pregunta.

Respuestas



- 1) ¿Cuántas bolsas tenía entre 40 y 60 piezas de chocolate?
- 2) ¿Cuántas bolsas de mezcla de frutos secos están representadas en este histograma?
- 3) Si una bolsa tuviera 69 trozos de chocolate, ¿a qué barra se agregaría?
- 4) La mayoría de las bolsas tenían entre _____ y _____ trozos de chocolate.

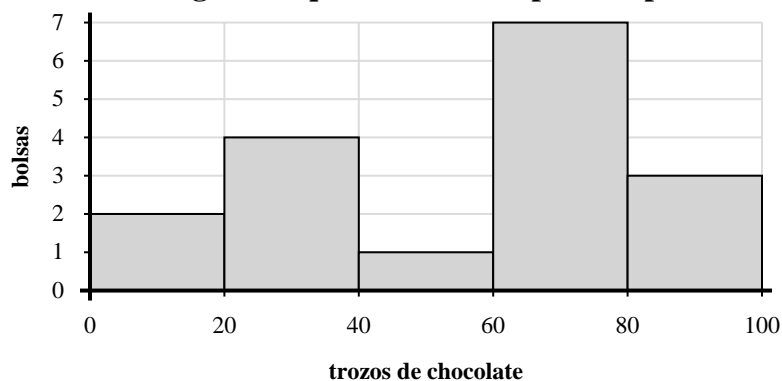
1. _____
2. _____
3. _____
4. _____
5. _____
6. _____
7. _____
8. _____



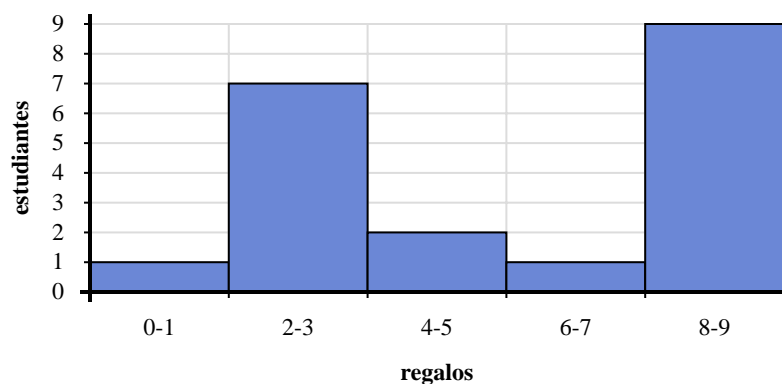
- 5) Si un estudiante recibiera 4 regalos, ¿a qué barra se agregaría?
- 6) ¿Cuántos estudiantes recibieron entre 0 y 2 regalos?
- 7) ¿Cuántos estudiantes están representados en este histograma?
- 8) La mayoría de los estudiantes recibieron entre _____ y _____ regalos.



Utilice los histogramas que se muestran para responder cada pregunta.



- 1) ¿Cuántas bolsas tenía entre 40 y 60 piezas de chocolate?
- 2) ¿Cuántas bolsas de mezcla de frutos secos están representadas en este histograma?
- 3) Si una bolsa tuviera 69 trozos de chocolate, ¿a qué barra se agregaría?
- 4) La mayoría de las bolsas tenían entre _____ y _____ trozos de chocolate.



- 5) Si un estudiante recibiera 4 regalos, ¿a qué barra se agregaría?
- 6) ¿Cuántos estudiantes recibieron entre 0 y 2 regalos?
- 7) ¿Cuántos estudiantes están representados en este histograma?
- 8) La mayoría de los estudiantes recibieron entre _____ y _____ regalos.

Respuestas

1. 1
2. 17
3. 4
4. 60 80
5. 3
6. 1
7. 20
8. 8 10