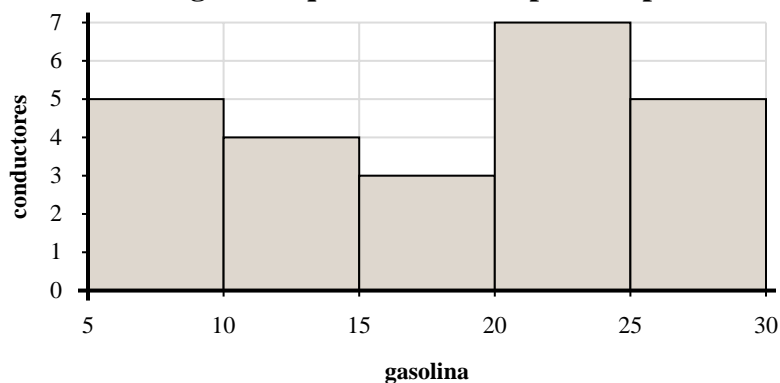




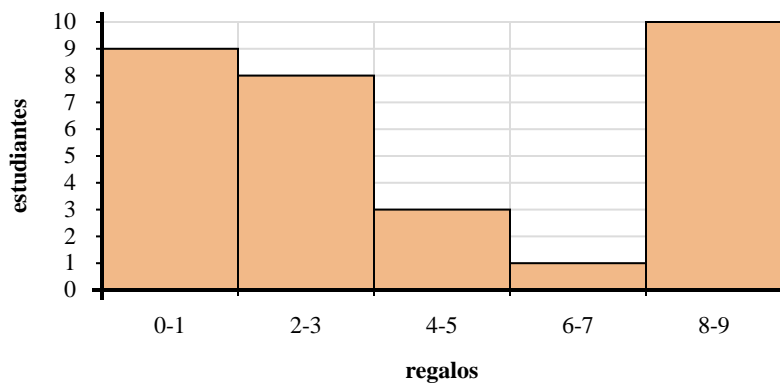
Utilice los histogramas que se muestran para responder cada pregunta.

Respuestas



- 1) La mayoría de los conductores compran entre _____ y _____ galones de gasolina.
- 2) ¿Cuántos conductores compraron entre 15 y 20 galones?
- 3) ¿Cuántos conductores están representados en este histograma?
- 4) Si un conductor comprara 27 galones, ¿a qué barra se agregaría?

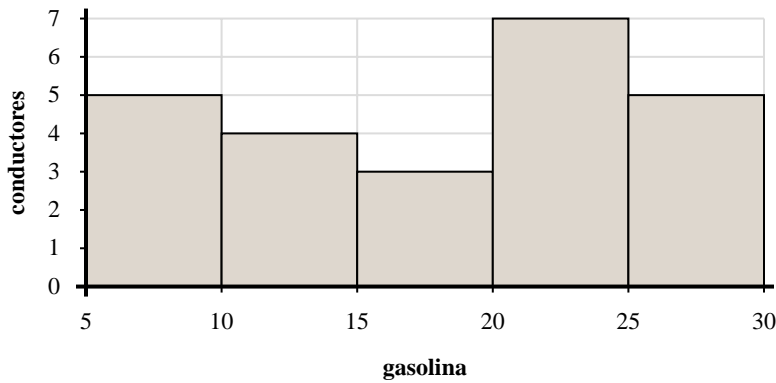
1. _____
2. _____
3. _____
4. _____
5. _____
6. _____
7. _____
8. _____



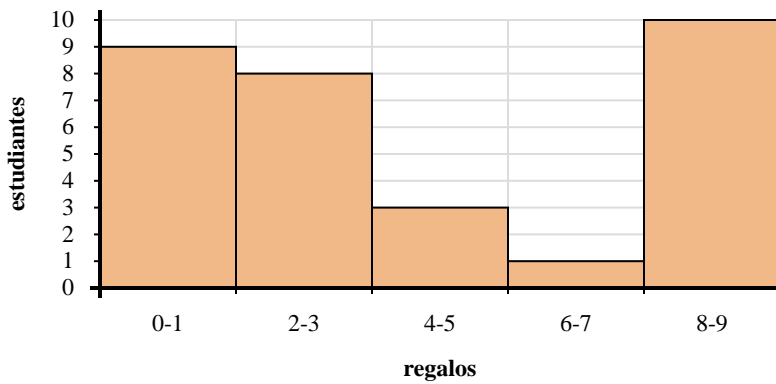
- 5) Si un estudiante recibiera 0 regalos, ¿a qué barra se agregaría?
- 6) La mayoría de los estudiantes recibieron entre _____ y _____ regalos.
- 7) ¿Cuántos estudiantes recibieron entre 0 y 2 regalos?
- 8) ¿Cuántos estudiantes están representados en este histograma?



Utilice los histogramas que se muestran para responder cada pregunta.



- 1) La mayoría de los conductores compran entre _____ y _____ galones de gasolina.
- 2) ¿Cuántos conductores compraron entre 15 y 20 galones?
- 3) ¿Cuántos conductores están representados en este histograma?
- 4) Si un conductor comprara 27 galones, ¿a qué barra se agregaría?



- 5) Si un estudiante recibiera 0 regalos, ¿a qué barra se agregaría?
- 6) La mayoría de los estudiantes recibieron entre _____ y _____ regalos.
- 7) ¿Cuántos estudiantes recibieron entre 0 y 2 regalos?
- 8) ¿Cuántos estudiantes están representados en este histograma?

Respuestas

1. 20 25
2. 3
3. 24
4. 5
5. 1
6. 8 10
7. 9
8. 31