



Determina cuál letra mejor representa el volúmen.

Respuestas

Xícara

Una taza se refiere a la cantidad de leche que se obtiene de la cafetería.



Pinta

Uma pinta é aproximadamente a quantidade que você recebe em um copo grande.
1 pinta = 2 xícaras



Quarto

Um quarto é mais ou menos a quantidade que você consegue em um recipiente grande de leite.
1 cuarto = 2 pintas



Galón

Un galón es la cantidad que viene en un recipiente de plástico grande.
1 galón = 4 cuartos



1. _____
2. _____
3. _____
4. _____
5. _____
6. _____
7. _____
8. _____
9. _____

1)



Pasta de dientes en un tubo

- A. 0.5 tazas
- B. 0.5 galones
- C. 5 cuartos
- D. 5 gramos

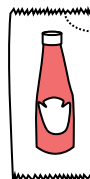
2)



Pintura en un bote

- A. 0.5 Pintas
- B. 3 onzas líquidas
- C. 1 galón
- D. 1 taza

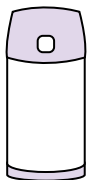
3)



Ketchup en un paquete

- A. 2 cuartos
- B. menor que 1 taza
- C. 1.5 Pintas
- D. 0.5 galones

4)



Líquido en un termo

- A. 1 galón
- B. 1 taza
- C. 2 libras
- D. 4 cuartos

5)



Shampoo en una botella

- A. 2 Pintas
- B. 0.5 galones
- C. 100 tazas
- D. 1 taza

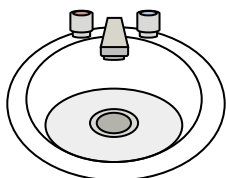
6)



Pegamento en una botella

- A. 0.5 tazas
- B. 2 cuartos
- C. 1 Pinta
- D. 3 galones

7)



Agua en un lavamanos

- A. 2 galones
- B. 2 onzas líquidas
- C. 2 Pintas
- D. 2 tazas


8)



Líquido en una taza de te

- A. 1 taza
- B. 1 galón
- C. 1 cuarto
- D. 1 Pinta

9)



Arena que cabe en una carretilla

- A. 45 galones
- B. 1000 gramos
- C. 4 tazas
- D. 8 cuartos



Determina cuál letra mejor representa el volúmen.

Respuestas

Xícara

Una taza se refiere a la cantidad de leche que se obtiene de la cafetería.



Pinta

Uma pinta é aproximadamente a quantidade que você recebe em um copo grande.
1 pinta = 2 xícaras



Quarto

Um quarto é mais ou menos a quantidade que você consegue em um recipiente grande de leite.
1 cuarto = 2 pintas



Galón

Un galón es la cantidad que viene en un recipiente de plástico grande.
1 galón = 4 cuartos



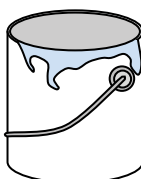
1)



Pasta de dientes en un tubo

- A. 0.5 tazas
- B. 0.5 galones
- C. 5 cuartos
- D. 5 gramos

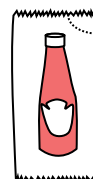
2)



Pintura en un bote

- A. 0.5 Pintas
- B. 3 onzas líquidas
- C. 1 galón
- D. 1 taza

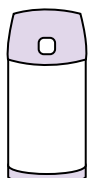
3)



Ketchup en un paquete

- A. 2 cuartos
- B. menor que 1 taza
- C. 1.5 Pintas
- D. 0.5 galones

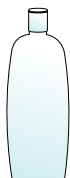
4)



Líquido en un termo

- A. 1 galón
- B. 1 taza
- C. 2 libras
- D. 4 cuartos

5)



Shampoo en una botella

- A. 2 Pintas
- B. 0.5 galones
- C. 100 tazas
- D. 1 taza

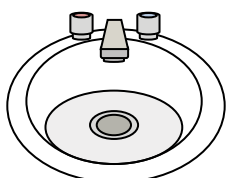
6)



Pegamento en una botella

- A. 0.5 tazas
- B. 2 cuartos
- C. 1 Pinta
- D. 3 galones

7)



Agua en un lavamanos

- A. 2 galones
- B. 2 onzas líquidas
- C. 2 Pintas
- D. 2 tazas


8)



Líquido en una taza de te

- A. 1 taza
- B. 1 galón
- C. 1 cuarto
- D. 1 Pinta

9)



Arena que cabe en una carretilla

- A. 45 galones
- B. 1000 gramos
- C. 4 tazas
- D. 8 cuartos

- 1. **A**
- 2. **C**
- 3. **B**
- 4. **B**
- 5. **A**
- 6. **A**
- 7. **A**
- 8. **A**
- 9. **A**