



Determina cuál letra mejor representa el volúmen.

Respuestas

Xícara

Una taza se refiere a la cantidad de leche que se obtiene de la cafetería.



Pinta

Uma pinta é aproximadamente a quantidade que você recebe em um copo grande.
1 pinta = 2 xícaras




Quarto

Um quarto é mais ou menos a quantidade que você consegue em um recipiente grande de leite.
1 cuarto = 2 pintas



Galón

Un galón es la cantidad que viene en un recipiente de plástico grande.
1 galón = 4 cuartos



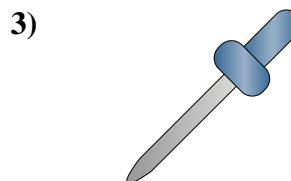
Bañera

- A. 40 tazas
- B. 20 Pintas
- C. 45 galones
- D. 8 cuartos



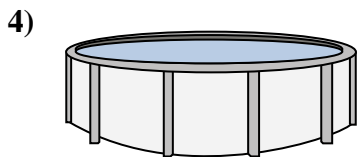
Arena en un cubo

- A. 32 galones
- B. 1 galón
- C. 1 taza
- D. 7 onzas líquidas



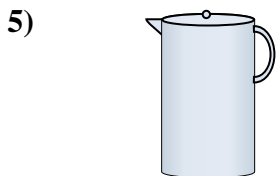
cuentagotas

- A. 3 galones
- B. 1 taza
- C. menor que 1 taza
- D. 1 Pinta



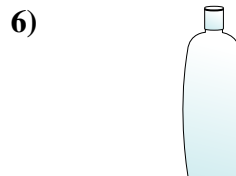
Agua en una piscina

- A. 5000 pies
- B. 25 tazas
- C. 20 galones
- D. 3000 galones




Líquido en una jarra

- A. 1 Pinta
- B. 8 galones
- C. 2 tazas
- D. 2 cuartos




Shampoo en una botella

- A. 0.5 galones
- B. 100 tazas
- C. 1 taza
- D. 2 Pintas



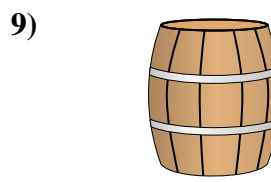
Ketchup en un paquete

- A. 0.5 galones
- B. 1.5 Pintas
- C. menor que 1 taza
- D. 2 cuartos



Agua para una planta de la casa

- A. 6 cuartos
- B. 4 libras
- C. 2 tazas
- D. 3 galones



Agua que cabe en un barril

- A. 3 pulgadas
- B. 10 Pintas
- C. 20 tazas
- D. 50 galones

1. _____
2. _____
3. _____
4. _____
5. _____
6. _____
7. _____
8. _____
9. _____



Determina cuál letra mejor representa el volúmen.

Respuestas

Xícara

Una taza se refiere a la cantidad de leche que se obtiene de la cafetería.



Pinta

Uma pinta é aproximadamente a quantidade que você recebe em um copo grande.
1 pinta = 2 xícaras




Quarto

Um quarto é mais ou menos a quantidade que você consegue em um recipiente grande de leite.
1 cuarto = 2 pintas



Galón

Un galón es la cantidad que viene en un recipiente de plástico grande.
1 galón = 4 cuartos



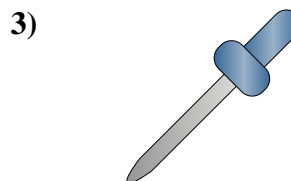
Bañera

- A. 40 tazas
- B. 20 Pintas
- C. 45 galones
- D. 8 cuartos



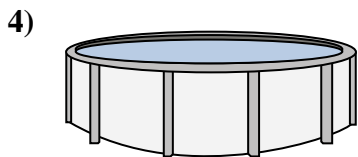
Arena en un cubo

- A. 32 galones
- B. 1 galón
- C. 1 taza
- D. 7 onzas líquidas



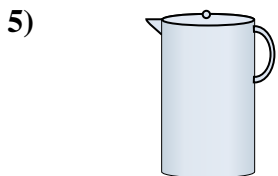
cuentagotas

- A. 3 galones
- B. 1 taza
- C. menor que 1 taza
- D. 1 Pinta



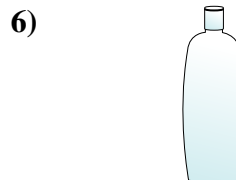
Agua en una piscina

- A. 5000 pies
- B. 25 tazas
- C. 20 galones
- D. 3000 galones



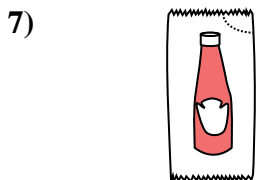
Líquido en una jarra

- A. 1 Pinta
- B. 8 galones
- C. 2 tazas
- D. 2 cuartos



Shampoo en una botella

- A. 0.5 galones
- B. 100 tazas
- C. 1 taza
- D. 2 Pintas




Ketchup en un paquete

- A. 0.5 galones
- B. 1.5 Pintas
- C. menor que 1 taza
- D. 2 cuartos



Agua para una planta de la casa

- A. 6 cuartos
- B. 4 libras
- C. 2 tazas
- D. 3 galones



Agua que cabe en un barril

- A. 3 pulgadas
- B. 10 Pintas
- C. 20 tazas
- D. 50 galones

- 1. **C**
- 2. **B**
- 3. **C**
- 4. **D**
- 5. **D**
- 6. **D**
- 7. **C**
- 8. **C**
- 9. **D**