



Determina cuál letra mejor representa el volúmen.

Respuestas

Xícara

Una taza se refiere a la cantidad de leche que se obtiene de la cafetería.



Pinta

Uma pinta é aproximadamente a quantidade que você recebe em um copo grande.
1 pinta = 2 xícaras



Quarto

Um quarto é mais ou menos a quantidade que você consegue em um recipiente grande de leite.
1 cuarto = 2 pintas



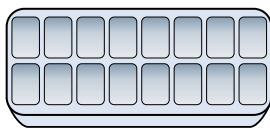
Galón

Un galón es la cantidad que viene en un recipiente de plástico grande.
1 galón = 4 cuartos



1. _____
2. _____
3. _____
4. _____
5. _____
6. _____
7. _____
8. _____
9. _____


1)



Agua en una hielera

- A. 1 Pinta
- B. 4 Pintas
- C. 1 galón
- D. 10 galones

2)



Bañera

- A. 40 tazas
- B. 20 Pintas
- C. 8 cuartos
- D. 45 galones

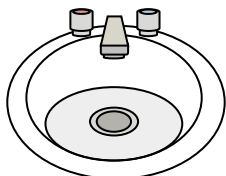
3)



Tinta en una pluma

- A. 1 cuarto
- B. 1 galón
- C. menor que 1 taza
- D. 2 Pintas


4)



Agua en un lavamanos

- A. 2 galones
- B. 2 onzas líquidas
- C. 2 tazas
- D. 2 Pintas

5)



Arena que cabe en una carretilla

- A. 4 tazas
- B. 1000 gramos
- C. 45 galones
- D. 8 cuartos

6)



Liquido en una cuchara

- A. 1 Pinta
- B. 1 taza
- C. Less than a cup
- D. 1 cuarto

7)



Arena en un cubo

- A. 1 galón
- B. 7 onzas líquidas
- C. 1 taza
- D. 32 galones


8)



Shampoo en una botella

- A. 1 taza
- B. 2 Pintas
- C. 100 tazas
- D. 0.5 galones

9)



Tanque de gasolina en un auto

- A. 3 cuartos
- B. 15 galones
- C. 4 Pintas
- D. 16 tazas



Determina cuál letra mejor representa el volúmen.

Respuestas

Xícara

Una taza se refiere a la cantidad de leche que se obtiene de la cafetería.



Pinta

Uma pinta é aproximadamente a quantidade que você recebe em um copo grande.
1 pinta = 2 xícaras



Quarto

Um quarto é mais ou menos a quantidade que você consegue em um recipiente grande de leite.
1 cuarto = 2 pintas

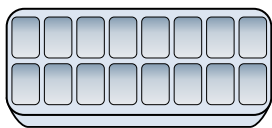


Galón

Un galón es la cantidad que viene en un recipiente de plástico grande.
1 galón = 4 cuartos




1)



Agua en una hielera

- A. 1 Pinta
- B. 4 Pintas
- C. 1 galón
- D. 10 galones

2)



Bañera

- A. 40 tazas
- B. 20 Pintas
- C. 8 cuartos
- D. 45 galones

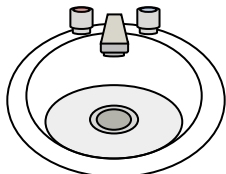
3)



Tinta en una pluma

- A. 1 cuarto
- B. 1 galón
- C. menor que 1 taza
- D. 2 Pintas


4)



Agua en un lavamanos

- A. 2 galones
- B. 2 onzas líquidas
- C. 2 tazas
- D. 2 Pintas

5)



Arena que cabe en una carretilla

- A. 4 tazas
- B. 1000 gramos
- C. 45 galones
- D. 8 cuartos

6)



Liquido en una cuchara

- A. 1 Pinta
- B. 1 taza
- C. Less than a cup
- D. 1 cuarto

7)



Arena en un cubo

- A. 1 galón
- B. 7 onzas líquidas
- C. 1 taza
- D. 32 galones


8)



Shampoo en una botella

- A. 1 taza
- B. 2 Pintas
- C. 100 tazas
- D. 0.5 galones

9)



Tanque de gasolina en un auto

- A. 3 cuartos
- B. 15 galones
- C. 4 Pintas
- D. 16 tazas

- 1. **A**
- 2. **D**
- 3. **C**
- 4. **A**
- 5. **C**
- 6. **C**
- 7. **A**
- 8. **B**
- 9. **B**