



Cuente el número de formas que se muestran.

**Respuestas**

1) 

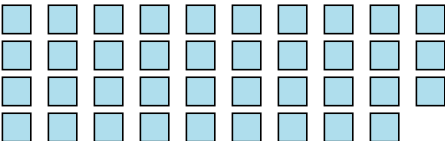
1. \_\_\_\_\_

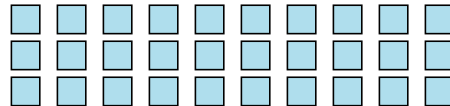
2. \_\_\_\_\_

3. \_\_\_\_\_

4. \_\_\_\_\_

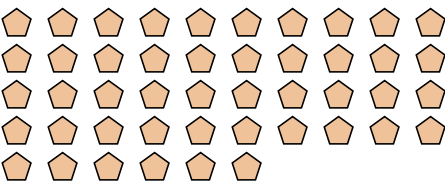
5. \_\_\_\_\_

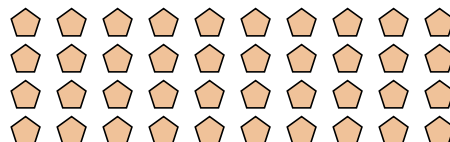
2) 



3) 



4) 

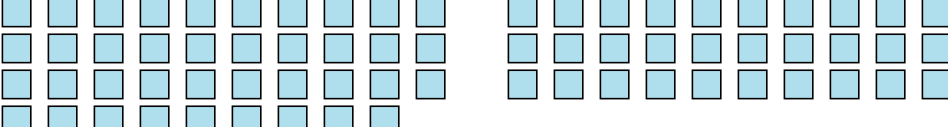
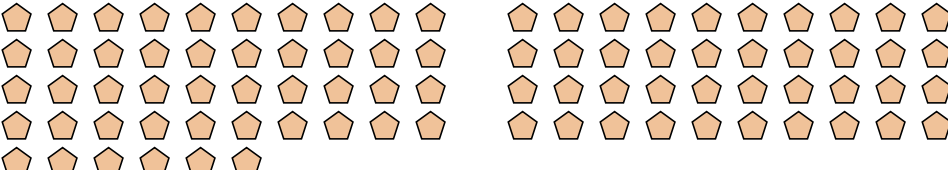



5) 





Cuenta el número de formas que se muestran.

1) 2) 3) 4) 5) **Respuestas**1. **8**2. **69**3. **22**4. **86**5. **119**