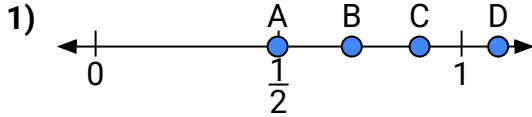
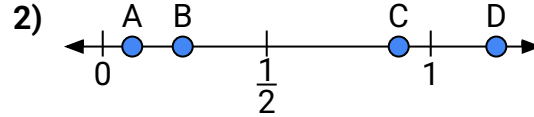




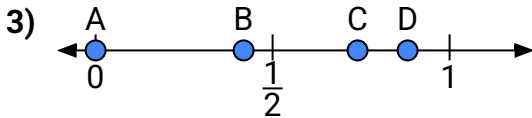
Usa las rectas numéricas para responder a las preguntas

Respuestas

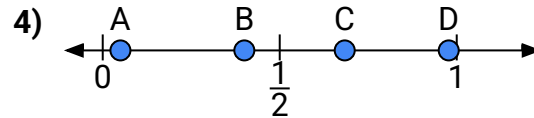
- a) ¿Qué letra representa mejor la ubicación de 1.10?
- b) ¿Qué letra representa mejor la ubicación de 0.70?



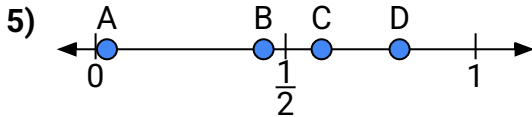
- a) ¿Qué letra representa mejor la ubicación de 1.2?
- b) ¿Qué letra representa mejor la ubicación de 0.09?



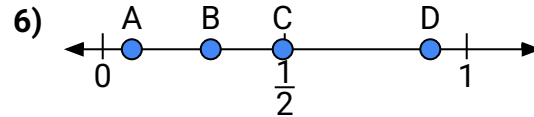
- a) ¿Qué letra representa mejor la ubicación de 0.00?
- b) ¿Qué letra representa mejor la ubicación de 0.74?



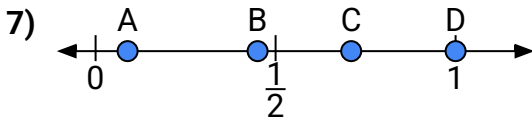
- a) ¿Qué letra representa mejor la ubicación de 0.40?
- b) ¿Qué letra representa mejor la ubicación de 0.05?



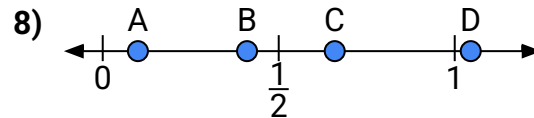
- a) ¿Qué letra representa mejor la ubicación de 0.8?
- b) ¿Qué letra representa mejor la ubicación de 0.03?



- a) ¿Qué letra representa mejor la ubicación de 0.9?
- b) ¿Qué letra representa mejor la ubicación de 0.08?



- a) ¿Qué letra representa mejor la ubicación de 1.00?
- b) ¿Qué letra representa mejor la ubicación de 0.71?

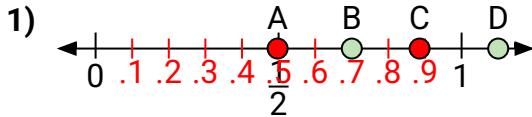


- a) ¿Qué letra representa mejor la ubicación de 0.10?
- b) ¿Qué letra representa mejor la ubicación de 0.41?

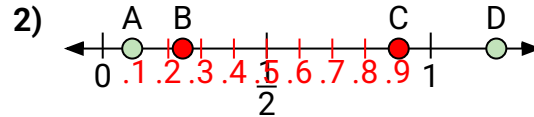
1. _____
2. _____
3. _____
4. _____
5. _____
6. _____
7. _____
8. _____



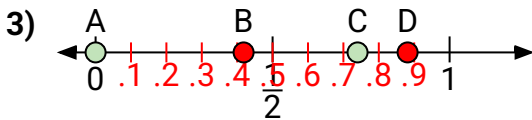
Usa las rectas numéricas para responder a las preguntas

Respuestas

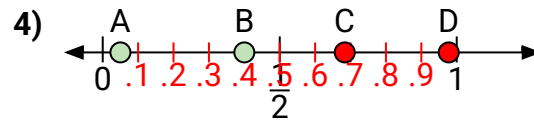
- a) ¿Qué letra representa mejor la ubicación de 1.10?
- b) ¿Qué letra representa mejor la ubicación de 0.70?



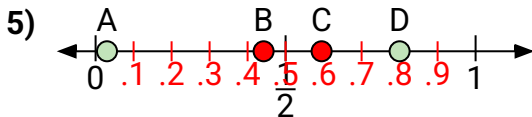
- a) ¿Qué letra representa mejor la ubicación de 1.2?
- b) ¿Qué letra representa mejor la ubicación de 0.09?



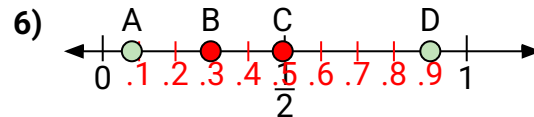
- a) ¿Qué letra representa mejor la ubicación de 0.00?
- b) ¿Qué letra representa mejor la ubicación de 0.74?



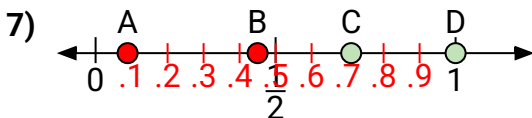
- a) ¿Qué letra representa mejor la ubicación de 0.40?
- b) ¿Qué letra representa mejor la ubicación de 0.05?



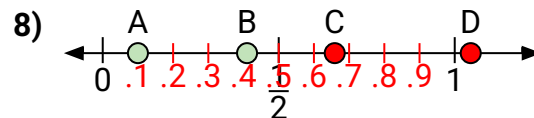
- a) ¿Qué letra representa mejor la ubicación de 0.8?
- b) ¿Qué letra representa mejor la ubicación de 0.03?



- a) ¿Qué letra representa mejor la ubicación de 0.9?
- b) ¿Qué letra representa mejor la ubicación de 0.08?



- a) ¿Qué letra representa mejor la ubicación de 1.00?
- b) ¿Qué letra representa mejor la ubicación de 0.71?



- a) ¿Qué letra representa mejor la ubicación de 0.10?
- b) ¿Qué letra representa mejor la ubicación de 0.41?

1. D B
2. D A
3. A C
4. B A
5. D A
6. D A
7. D C
8. A B